

CURSO DE ENSEÑANZA PRIMARIA

NOVENIMA

GEOGRAFÍA ELEMENTAL

SEGUN EL SISTEMA DE CORNELL

PARA USO DE LAS ESCUELAS DE PRIMERAS LETRAS

POR

I. LE VEITELLE



SEPTIMA

EDICION

NUEVA YORK
D. APPLETON Y CÍA., LIBREROS-EDITORES

549 Y 551 BROADWAY

G127

V4

1877

C. 1

91

v



1080042517



Julio Botthot
9999
9999

Es propiedad de Julio Botthot

Monterey Diciembre
22 de 1847 Julio Botthot

647.64154. ^{Julio} Monterey Enero 15

1847 de Julio Botthot
Monterey Marzo
7 de 1848

Se
Lecion

UNIVERSIDAD AUTÓNOMA DE NUEVO LEÓN
DIRECCION GENERAL DE BIBLIOTECAS



91
v



*Capilla Alfonso
Biblioteca Universitaria*

UNIVERSIDAD AUTÓNOMA DE NUEVO LEÓN

DIRECCIÓN GENERAL DE BIBLIOTECAS



FONDO BIBLIOTECA PÚBLICA
DEL ESTADO DE NUEVO LEÓN

CURSO DE ENSEÑANZA PRIMARIA.

NOVÍSIMA GEOGRAFÍA ELEMENTAL

SEGUN EL SISTEMA DE CORNELL

PARA USO DE LAS ESCUELAS DE PRIMERAS LETRAS

POR

I. DE VEITELLE

Adoptada como texto en las escuelas de varios países hispano-americanos

SEXTA EDICIÓN CORREGIDA Y AUMENTADA



NUEVA YORK
D. APPLETON Y CÍA., LIBREROS-EDITORES
549 Y 551 BROADWAY

48515

1877

— 54632

G 127

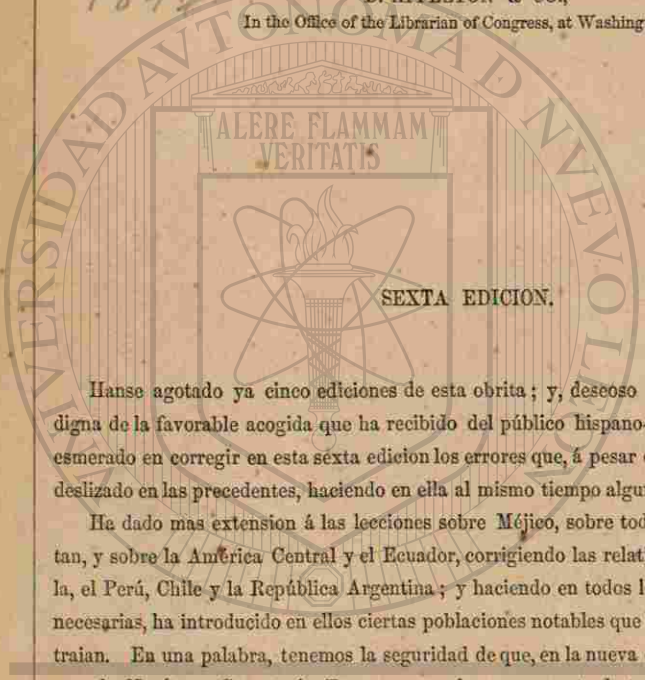
V.4

1877

ENTERED, according to Act of Congress, in the year 1876, by

D. APPLETON & CO.,

In the Office of the Librarian of Congress, at Washington



SEXTA EDICION.


Hanse agotado ya cinco ediciones de esta obra; y, deseoso de hacerla cada vez mas digna de la favorable acogida que ha recibido del público hispano-americano, el autor se ha esmerado en corregir en esta sexta edicion los errores que, á pesar de su vigilancia, se habian deslizado en las precedentes, haciendo en ella al mismo tiempo algunas reformas importantes.

Ha dado mas extension á las lecciones sobre Méjico, sobre todo en lo referente á Yucatan, y sobre la América Central y el Ecuador, corrigiendo las relativas á Colombia, Venezuela, el Perú, Chile y la República Argentina; y haciendo en todos los mapas las correcciones necesarias, ha introducido en ellos ciertas poblaciones notables que las ediciones anteriores no traian. En una palabra, tenemos la seguridad de que, en la nueva edicion que hoy presentamos, la NOVÍSIMA GEOGRAFÍA ELEMENTAL es la mas correcta de todas las geografías *primarias* que han visto la luz pública hasta ahora.

Para el uso de las clases mas avanzadas, La Geografía de Smith, de que estamos preparando una nueva edicion enteramente refundida, presenta un texto mas completo que el que corresponde á la enseñanza primaria.

Julio, de 1876.

GEOGRAFÍA ELEMENTAL.



LECCION I.

¿Qué es la Tierra?
La Tierra es el planeta que habitamos.

¿Cuál es la forma de la Tierra?
La Tierra es redonda, como una naranja.

¿Qué ciencia nos enseña á conocer la superficie de la Tierra?
La Geografía.

¿Qué se entiende por Geografía?
Geografía es la descripción de la superficie de la Tierra.

¿Qué quiere decir la superficie de la Tierra?
Su parte exterior.

G 127

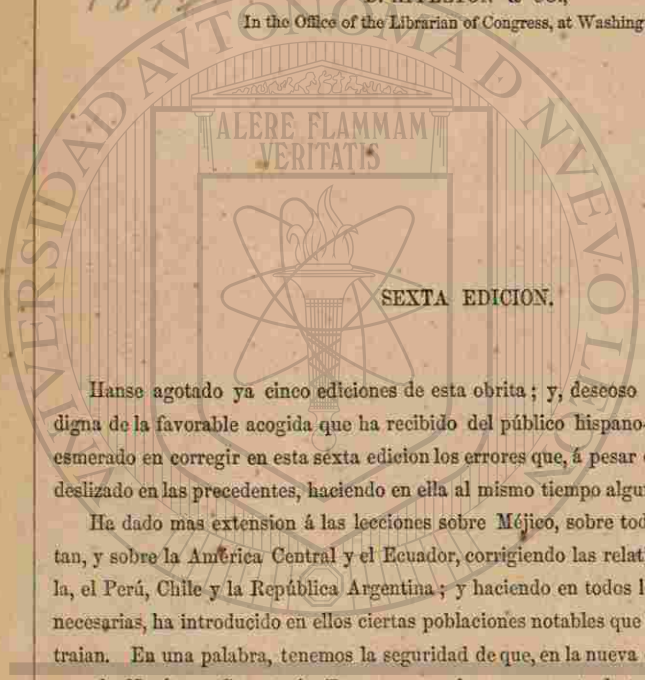
V.4

1877

ENTERED, according to Act of Congress, in the year 1876, by

D. APPLETON & CO.,

In the Office of the Librarian of Congress, at Washington



SEXTA EDICION.


Hanse agotado ya cinco ediciones de esta obra; y, deseoso de hacerla cada vez mas digna de la favorable acogida que ha recibido del público hispano-americano, el autor se ha esmerado en corregir en esta sexta edicion los errores que, á pesar de su vigilancia, se habian deslizado en las precedentes, haciendo en ella al mismo tiempo algunas reformas importantes.

Ha dado mas extension á las lecciones sobre Méjico, sobre todo en lo referente á Yucatan, y sobre la América Central y el Ecuador, corrigiendo las relativas á Colombia, Venezuela, el Perú, Chile y la República Argentina; y haciendo en todos los mapas las correcciones necesarias, ha introducido en ellos ciertas poblaciones notables que las ediciones anteriores no traian. En una palabra, tenemos la seguridad de que, en la nueva edicion que hoy presentamos, la NOVÍSIMA GEOGRAFÍA ELEMENTAL es la mas correcta de todas las geografías *primarias* que han visto la luz pública hasta ahora.

Para el uso de las clases mas avanzadas, La Geografía de Smith, de que estamos preparando una nueva edicion enteramente refundida, presenta un texto mas completo que el que corresponde á la enseñanza primaria.

Julio, de 1876.

GEOGRAFÍA ELEMENTAL.



LECCION I.

¿Qué es la Tierra?
La Tierra es el planeta que habitamos.

¿Cuál es la forma de la Tierra?
La Tierra es redonda, como una naranja.

¿Qué ciencia nos enseña á conocer la superficie de la Tierra?
La Geografía.

¿Qué se entiende por Geografía?
Geografía es la descripción de la superficie de la Tierra.

¿Qué quiere decir la superficie de la Tierra?
Su parte exterior.



Nosotros ¿ dónde vivimos?
En la superficie de la Tierra.
¿ De qué se compone la superficie de la Tierra?
De tierra y agua.

LECCION II.

¿ Cómo se representa la superficie de la Tierra?

Por medio de Mapas.

¿ Qué es, pues, un Mapa?

Un Mapa es un dibujo ó representación de la superficie de la Tierra.

¿ Qué enseñan los Mapas?

Los Mapas enseñan cómo está dividida la superficie de la Tierra.

¿ Qué nombres se dan á los cuatro lados de un Mapa?

Norte, Este, Sur y Oeste, que se llaman puntos cardinales.

¿ Qué parte del mapa es Norte?

La parte superior.

¿Cuál es Este?

El lado derecho.

¿Cuál Sur?

La parte inferior.

Y ¿ qué parte es el Oeste en el Mapa?

El lado izquierdo.

LECCION III.

¿ No existen otros puntos además de los cuatro cardinales ya enumerados?

Sí, señor; y son: Nordeste, Sudeste, Noroeste y Sudoeste.

¿ Qué parte del Mapa es Nordeste?

El punto medio entre el Norte y el Este.

¿Cuál es el Sudeste?

El punto medio entre el Sur y el Este.

¿Cuál es el Noroeste?

El punto medio entre el Norte y el Oeste.

¿Cuál es el Sudoeste?

El punto medio entre el Sur y el Oeste.

¿ Entre qué puntos se halla el Nordeste?

Entre el Norte y el Este.

¿ Entre qué puntos se halla el Sudeste?

Entre el Este y el Sur.

¿ Entre qué puntos se halla el Noroeste?

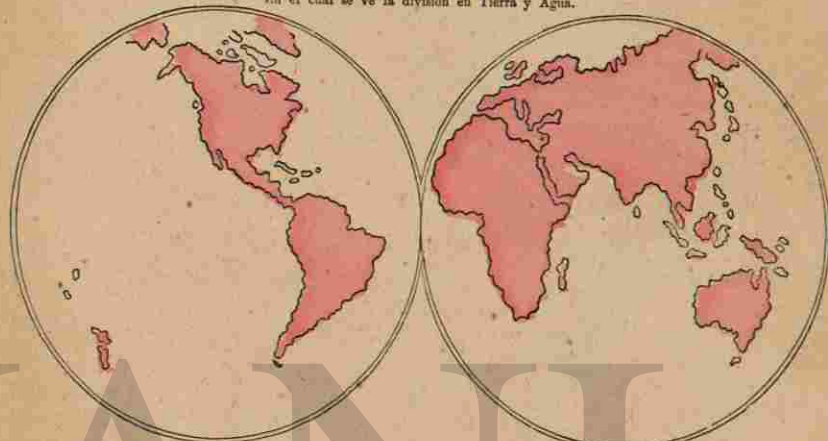
Entre el Norte y el Oeste.

¿ Entre qué puntos se halla el Sudoeste?

Entre el Sur y el Oeste.

MAPAMUNDI,

En el cual se ve la división en Tierra y Agua.



Hemisferio Occidental.

Hemisferio Oriental.

LECCION IV.

¿ Cómo se llama el Mapa precedente?

Mapamundi, ó sea Mapa del Mundo.

¿ Qué cosa muestra?

La división en Tierra y Agua.

¿ Qué es la parte pintada del Mapa?

La Tierra.

¿ Y la parte en blanco?

Representa el Agua.

¿ Están divididas por igual el agua y la tierra?

No, Señor, hay tres veces mas agua que tierra.

¿ Cómo está dividido ese Mapa?

En dos partes.

¿ Cómo se llaman?

Hemisferio Occidental, y Hemisferio Oriental.

¿ De qué se compone la palabra Hemisferio?

De dos voces griegas: Hemi y Esfera.

¿ Qué significa Hemi?

Mitad.

¿ Y Esfera?

Esfera significa un cuerpo redondo.

Entonces, ¿ qué significa Hemisferio?

Hemisferio quiere decir, mitad de una esfera.

¿ Qué otros nombres tiene la Tierra?

Esfera y Globo.

¿ Por qué?

Porque es redonda como una esfera ó un globo.

¿Cómo se llama el Mapa de la mitad Occidental de la Tierra?

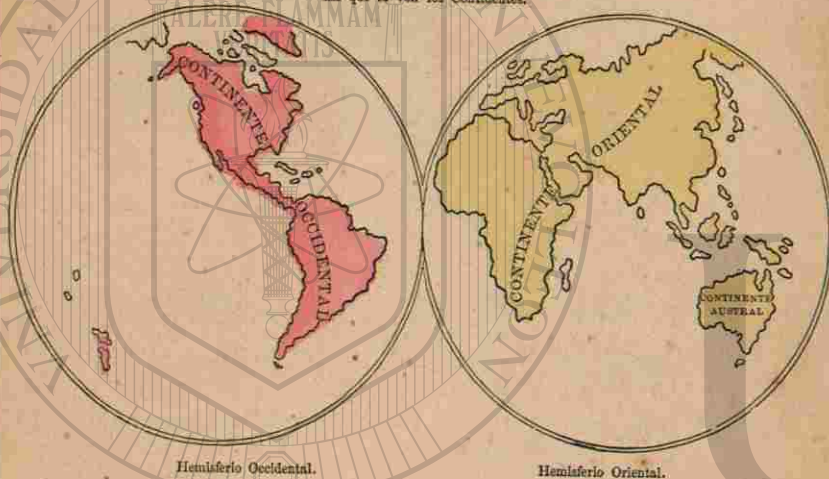
Mapa del Hemisferio Occidental.

¿Cómo se llama el Mapa de la mitad Oriental de la Tierra?

Mapa del Hemisferio Oriental.

MAPAMUNDI,

En que se ven los Continentes.



LECCION V.

¿Cómo se llama ese Mapa?

Mapamundi, ó sea Mapa del Mundo.

¿Qué cosa contiene?

Los nombres de las tres divisiones mayores de la Tierra.

¿Cuáles son estas?

El Continente Occidental, el Continente Oriental, y la Australia, ó el Continente Austral.

¿Qué es Continente?

Un Continente es una vasta porcion de tierra rodeada de agua.

¿Cuántos Continentes hay?

Tres Continentes.

¿Cuántos Continentes comprende el Hemisferio Occidental?

El Continente Occidental.

¿En qué parte del Hemisferio Occidental está situado el Continente Occidental?

En la parte del norte y del este.

Y el Continente Oriental ¿en qué parte del Hemisferio Oriental está situado?

En la parte del norte y del oeste.

¿En qué parte del Hemisferio Oriental se halla Australia?

En la parte sudeste.

¿En qué direccion, respecto del Continente Occidental, se halla el Oriental?

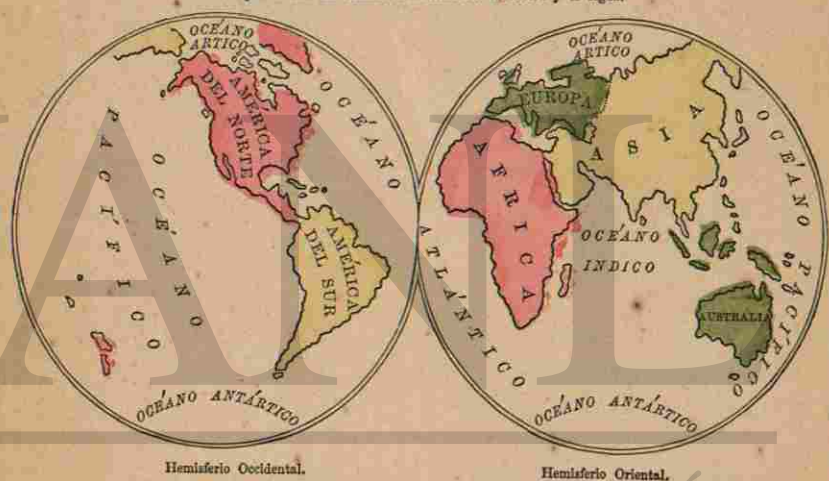
Al este.

¿En qué direccion, respecto del Continente Oriental, está Australia?

Al sudeste.

MAPAMUNDI,

En que se ven las Grandes Divisiones de la Tierra y el Agua.



LECCION VI.

¿Qué Mapa es este?

El que enseña cómo están divididos los Continentes.

¿Cómo está dividido el Continente Occidental?

En América del Norte y América del Sur.

¿Cómo se divide el Continente Oriental?

En Europa, Asia y Africa.

¿Cómo se llaman estas divisiones?

Las Grandes Divisiones de la Tierra.

¿Cuántas Grandes Divisiones hay en el Hemisferio Occidental?

Dos.

Y ¿cuántas en el Hemisferio Oriental?
Cuatro.

¿Cuántas son por todas estas Grandes Divisiones?

Seis: América del Norte, América del Sur, Europa, Asia, África y Australia.

¿Cuál es la mayor de todas?

Asia.

¿Cuál es la menor?

Australia.

¿Qué otra cosa representa ese Mapa además de las Grandes Divisiones de la Tierra?

Las Grandes Divisiones del Océano.

¿Qué es el Océano?

Una gran porción de agua salada.

LECCION VII.

¿Cómo se divide el Océano?

En cinco partes.

¿Cómo se llama cada una de estas partes?

Océano.

¿Cuáles son los nombres de los cinco Océanos?

El Océano Artico, el Antártico, el Pacífico, el Indico y el Atlántico.

¿Dónde está el Océano Artico?

Baña el Norte de ámbos Hemisferios.

¿Qué costas baña el Océano Pacífico?

Las costas orientales del Hemisferio Oriental, y las occidentales del Hemisferio Occidental.

¿Dónde está situado el Océano Indico?

En el centro del Hemisferio Oriental.

¿Dónde se encuentra el Océano Antártico?

El Océano Antártico, ó Mar del Sur, está situado al sur de ámbos Hemisferios.

¿Qué tierras baña el Océano Atlántico?

Las costas orientales del Hemisferio Occidental y las occidentales del Hemisferio Oriental.

¿Cómo está situado el Océano Artico con respecto á la América del Norte?

Al Norte.

¿Y con respecto á Europa y Asia?

Al Norte.

¿A qué lado de Asia está el Océano Pacífico?

Al Este.

¿A cuál de Europa y África está el Océano Atlántico?

Al Oeste.


¿En qué direccion respecto de África se halla el Océano Indico?

Al Este.

¿Hacia qué parte de ámbas Américas está situado el Océano Pacífico?

Al Oeste.

LECCION VIII.



Hé aquí un Dibujo de una porcion de tierra rodeada de agua: se llama Isla.

¿Qué es Isla?

Una porcion de tierra rodeada de agua.



Este es un Mapa de una Isla.


¿Por qué está rodeada una Isla?

Por agua.

¿Qué es Península?

Una porcion de tierra rodeada

de agua, ménos por una parte que la une al Continente.



Este es un Dibujo de una porcion de tierra parecida á una isla, pero no está enteramente rodeada de agua. Se llama Península.

¿Qué es Istmo?

La parte angosta de tierra que une dos porciones mayores.



Vé aquí un Mapa de una Península y un Istmo.

LECCION IX.



Este es un Dibujo de un Cabo.

¿Qué se entiende por Cabo?
Una punta de tierra que se entra en el mar.



Este es un Dibujo de la costa de un país, donde pueden verse tres Cabos.

¿Cómo se llama una punta de tierra que se entra en el mar?

Un Cabo.

¿Qué es una Montaña?

Una Montaña es una parte de tierra muy elevada.



Dibujo de algunas Montañas.

¿Qué se entiende por Cordillera ó Cadena de Montañas?

Muchas Montañas unidas entre sí.

¿Qué es un Volcan?

Es una montaña que arroja fuego, humo, cenizas y lava.




Este es un Mapa de una Cordillera de Montañas.

¿Cuáles son las divisiones naturales de la tierra?

Continentes, Islas, Penínsulas, Istmos, Cabos y Montañas.

LECCION X.



Hé aquí un Dibujo de una porcion de agua, llamada Mar.

¿Qué es un Mar?

Una porcion de agua salada, menor que un Océano.




Mapa de un Mar.

¿Qué porciones de agua son mayores que un Mar?

Los Océanos.

¿Qué rodea un Mar en su mayor parte?

La tierra.



Dibujo de una porcion de agua que se llama Golfo ó Bahía.

¿Qué se entiende por Golfo ó Bahía?

Una porcion de mar que entra en la tierra.



Este es un Mapa de una Bahía.

¿Cómo se llama una porcion de mar que se interna en la tierra?

Una Bahía.

LECCION XI.

¿Qué se entiende por Canal?

Un Canal es un estrecho ancho.

¿Qué es Sonda?

Un estrecho ó bahía de poca profundidad.



Este es un Dibujo de una parte angosta de agua entre dos porciones mayores. Se llama Estrecho.

¿Qué es un Estrecho?

Un Estrecho es una parte angosta de agua, que une dos porciones mayores.



Este es un Mapa de un Estrecho.

¿Para qué sirve un Estrecho?

Para unir dos porciones mayores de agua.

¿Y qué separa?

Separa dos partes de tierra.



Este es un Dibujo de una porcion de agua llamada Lago.

¿Qué es Lago?

Lago es una porcion de agua rodeada de tierra por todos lados.



Este es un Mapa de dos Lagos.



Este es un Dibujo de una bonita corriente de agua: se llama Río.

¿Qué es un Río?

Un Río es una corriente de agua que nace en la tierra, y va á dar á la mar, ó se pierde en otro río.



Este es un Mapa de dos Ríos.

¿Qué se llama nacimiento de un río?

Fuente, ó nacimiento, de un río es el lugar donde nacen sus aguas.

¿Qué es la boca, ó desembocadura, de un Río?

El lugar donde desagua en el mar.

¿Cuáles son las Divisiones Naturales del Agua?

Océanos, Mares, Golfos, Bahías, Estrechos, Sondas, Canales, Lagos y Ríos.

LECCION XII.

Repaso de las Definiciones Principales.

GEOGRAFÍA es una descripción de la Tierra.

LA TIERRA es el planeta ó cuerpo que habitamos.

LA SUPERFICIE DE LA TIERRA se compone de Agua y Tierra.

UN MAPA es un dibujo de la Superficie de la Tierra.

LOS CUATRO LADOS DE UN MAPA se llaman Norte, Este, Sur y Oeste: los cuatro puntos cardinales, y se subdividen en Nordeste, Sudeste, Noroeste y Sudoeste.

EL NORTE es la parte superior del Mapa.

EL SUR es la parte inferior del Mapa.

EL ESTE el lado derecho del Mapa.

EL OESTE el lado izquierdo del Mapa.

LECCION XIII.

Continuacion.

LA TIERRA se llama algunas veces Esfera, ó Globo.

ESFERA es un cuerpo redondo.

HEMISFERIO es la mitad de un cuerpo redondo.

UN MAPAMUNDI contiene dos Hemisferios; uno se llama Hemisferio Occidental, y el otro Hemisferio Oriental.

EL MAPA DEL HEMISFERIO OCCIDENTAL es el Mapa de la mitad occidental de la Tierra.

EL MAPA DEL HEMISFERIO ORIENTAL es el Mapa de la mitad oriental de la Tierra.

LECCION XIV.

Continuacion.

UN CONTINENTE es una gran porcion de tierra rodeada de agua.

UNA ISLA es una porcion de tierra rodeada de agua por todos lados.

UNA PENÍNSULA es una porcion

de tierra no enteramente rodeada de agua.


UN ISTMO es una porcion de tierra que une dos porciones mayores.

UN CABO es una punta de tierra que se entra en el mar.

UNA MONTAÑA es una porcion de tierra muy elevada.

UNA CADENA DE MONTAÑAS, ó CORDILLERA, son montañas unidas entre sí.

UN VOLCAN es una montaña que arroja fuego, humo, cenizas y lava.



Un Volcan.

LECCION XV.

Continuacion.

UN OCÉANO es una gran porcion de agua salada.

UN MAR es una porcion de agua salada menor que un Océano.

UN GOLFO ó BAHÍA es una parte de agua que se interna en la tierra.

UN ESTRECHO es una porcion angosta de agua, que une dos porciones mayores.

UN CANAL es un estrecho ancho.

UNA SONDA es un estrecho ó bahía de poca profundidad.

UN LAGO es una porcion de agua rodeada de tierra.

UN RIO es una corriente de agua que nace en la tierra, y desagua en el mar, ó se une con otro rio.

LA FUENTE ó NACIMIENTO DE UN RIO es el lugar donde nace.

LA BOCA, ó DESEMBOCADURA, DE UN RIO es donde desemboca.

LECCION XVI.

PREGUNTAS GENERALES.

¿Cuál es el nombre del planeta que habitamos?

¿A qué se parece la Tierra por su forma?

¿Qué nos enseña la Geografía?

¿Cuál es la superficie de la Tierra?

La parte exterior.

¿De qué se compone la superficie de la Tierra?

¿Qué parte de la superficie está compuesta de Tierra?

Como la cuarta parte.

¿Qué parte de su superficie ocupan las aguas?

Cerca de tres cuartas partes.

¿Están divididas por igual la tierra y el agua?

¿Cuáles son los nombres de las divisiones naturales de la tierra?

¿Por qué se llaman naturales estas divisiones?


Porque han sido formadas por la Naturaleza.

¿Cómo se llaman las divisiones hechas por el hombre?

Divisiones políticas.

Nombre V. algunas divisiones políticas?

Estados, Ciudades, Pueblos, etc.



El niño en el adjunto grabado trata de averiguar dónde están el ESTE, OESTE, NORTE y SUR. Tiene los brazos abiertos, con la mano derecha hacia la parte del cielo por donde sale el sol—este es el ESTE; la mano izquierda hacia el punto por donde el sol se pone—este es el OESTE; el punto hacia el cual está mirando es el NORTE, y el punto opuesto, el SUR. Estos son los Puntos Cardinales del horizonte.

¿Cómo pueden conocerse los puntos del horizonte?

Viendo por dónde sale y se pone el sol.



¿ Por dónde sale el sol ?

Por el Este.

¿ Por dónde se pone ?

Por el Oeste.

Si abre V. los brazos, como el niño del grabado, de modo que la mano derecha señale el Este y la izquierda el Oeste, ¿ dónde estará el Norte ?—¿ Dónde el Sur ?

¿ Qué parte del Mapa llamamos Norte ?

¿ Qué parte del Mapa llamamos Sur ?

¿ Qué parte del Mapa llamamos Este ?

¿ Qué parte del Mapa llamamos Oeste ?

LECCION XVII.

¿ Cuáles son las dos grandes divisiones del Hemisferio Occidental ?

La América del Norte y la América del Sur.

¿Cuál es la mayor ?

La América del Norte.

¿ Qué gran isla se halla al nordeste de la América del Norte ?

La Groenlandia.

¿ En qué parte del Hemisferio Occidental está Groenlandia ?

¿ Qué isla está al este de la América del Norte ?

Terra Nova.

¿ Cómo se llama un grupo de islas situadas entre ambas Américas ?

Las Antillas ó Indias Occidentales.

¿ Cuáles son los cuatro grupos de islas del Océano Pacífico ?

Las Islas Sandwich, las de la

Sociedad, Nueva Zelanda, y las de los Amigos.

LECCION XVIII.

¿ Qué Istmo une la América del Norte y la del Sur ?

El Istmo de Panamá.

¿ Qué Cabo hay al sur de la América del Sur ?

El Cabo de Hornos.

¿ Qué Montañas hay en la América del Sur ?

La Cordillera de los Andes.

¿ En qué parte están situadas ?

En la parte oeste.

¿ Qué Montañas hay en la América del Norte ?

Las Montañas Rocallosas.

¿ Dónde están situadas ?

En la parte oeste.

¿ Cuáles son los Océanos del Hemisferio Occidental ?

El Océano Artico, el Antártico, el Atlántico y el Pacífico.

¿Cuál está al norte de la América del Norte ?

¿Cuál al este de ambas Américas ?

¿Cuál está al sur de la América del Sur ?

¿ Qué Bahía hay al oeste de Groenlandia ?

La Bahía de Baffin.

¿ Qué Bahía está al norte de la América del Norte ?

La Bahía de Hudson.

¿ Qué Estrecho hay entre la América del Norte y Asia ?

El Estrecho de Behring.



¿ Qué Mar hay entre Africa y Asia ?
 El Mar Rojo.
 ¿ Qué Mar hay entre Africa y Europa ?
 El Mar Mediterráneo.
 ¿ Cuáles son los dos Rios principales de Africa ?
 El Nilo y el Niger.

¿Cuál es la Capital de los Estados Unidos de Colombia ?
 Bogotá.
 ¿ En qué parte de la América del Sur están situados los Estados Unidos de Colombia ?
 ¿ De qué país es capital Bogotá ?

LECCION XXII.

LECCION XXI.
 ¿ Cuáles son los limites de la América del Sur ?
 La América del Sur tiene al norte el Mar Caribe, al este el Océano Atlántico, al sur el Estrecho de Magallanes, y al oeste el Océano Pacífico.
 ¿ Cuáles son los países de la América del Sur ?

¿ Qué país hay al este de los Estados Unidos de Colombia ?
 ¿Cuál es la capital de Venezuela ?
 Caracas.
 ¿ Qué país hay al sur de Venezuela y de Guayana ?
 ¿Cuál es la capital del Brasil ?
 Rio Janeiro.
 ¿ Qué Océano baña al Brasil por el este ?
 ¿ Qué país hay al este de Chile ?
 ¿Cuál es la capital de la República Argentina ?


Los Estados Unidos de Colombia, Venezuela, Guayana, Brasil, Uruguay, Paraguay, República Argentina, Patagonia, Chile, Bolivia, Perú, y Ecuador.

Buenos Ayres.
 ¿ Qué Océano baña á Chile por el oeste ?
 ¿Cuál es la capital de Chile ?
 ¿ Qué país hay al norte de Chile y la República Argentina ?
 ¿Cuál es la capital de Bolivia ?
 Sucre.
 ¿ Qué país hay al oeste de Bolivia ?
 El Perú.

¿Cuál es el mayor de estos países ?
 ¿Cuál es el menor ?
 Uruguay.
 ¿ Cuáles son los tres situados mas al norte ?
 ¿Cuál está mas al sur ?
 ¿ Cuáles son los seis que baña el Océano Pacífico ?

¿Cuál es la capital del Perú ?
 ¿ Cuáles son los dos países al este del Perú ?
 ¿ Qué país está situado al norte del Perú ?
 ¿Cuál es la capital del Ecuador ?
 Quito.
 ¿ Qué país hay al norte del Ecuador ?

Los Estados Unidos de Colombia, Ecuador, Perú, Bolivia, Chile, y Patagonia.
 ¿Cuál está situado en el interior ?
 Paraguay.



Modo de coger el Ganado en la América del Sur.

LECCION XXIII.

¿Qué Isla hay al sur de Patagonia?
La Tierra del Fuego.

¿Qué Istmo une la América del Norte y la América del Sur?
El Cabo de Hornos.

¿Qué Montañas hay en la parte oriental del Brasil?
Los Montes del Brasil.

¿Qué Montañas hay en la parte occidental de la América del Sur?
La Cordillera de los Andes.

¿Qué Océano hay al este de la América del Sur?
El Mar del Sur.

¿Qué Océano baña la América del Sur por el oeste?
El Océano Pacífico.

¿Qué Mar hay al norte de la América del Sur?
El Mar Caribe.

¿Qué Estrecho hay entre Patagonia y la Tierra del Fuego?
El Estrecho de Magallanes.

¿Qué gran Río nace en el Perú?
El Amazonas.

¿En qué dirección corre el Río Amazonas?
De oeste á este.

¿En qué Océano desemboca?
En el Océano Atlántico.

¿Qué gran Río nace en Bolivia?
El Río de la Plata.

¿En qué otro Río desemboca?
En el Río Amazonas.

¿Qué Río en el Brasil está al este del Río Madera?
El Río Tocantins.

¿En qué dirección corre?
De sur á norte.

¿Qué Río nace en los montes del Brasil?
El Río Paraná.

¿Qué nombre toma su parte baja?
Río de la Plata.

¿Entre qué países corre el Río Paraná?
Entre el Paraguay y la República Argentina.

LECCION XXIV.


¿Cuál es el mas largo de los Ríos de la América del Sur?
El Río Amazonas.

¿Cuál es la ciudad mas populosa de la América del Sur?
Río Janeiro.

¿De qué país es capital Río Janeiro?
Brasil.

¿Qué ciudad populosa hay despues de Río Janeiro?
Buenos Ayres.

¿De qué país es capital Buenos Ayres?
De la República Argentina.



Animales de ambas Américas.

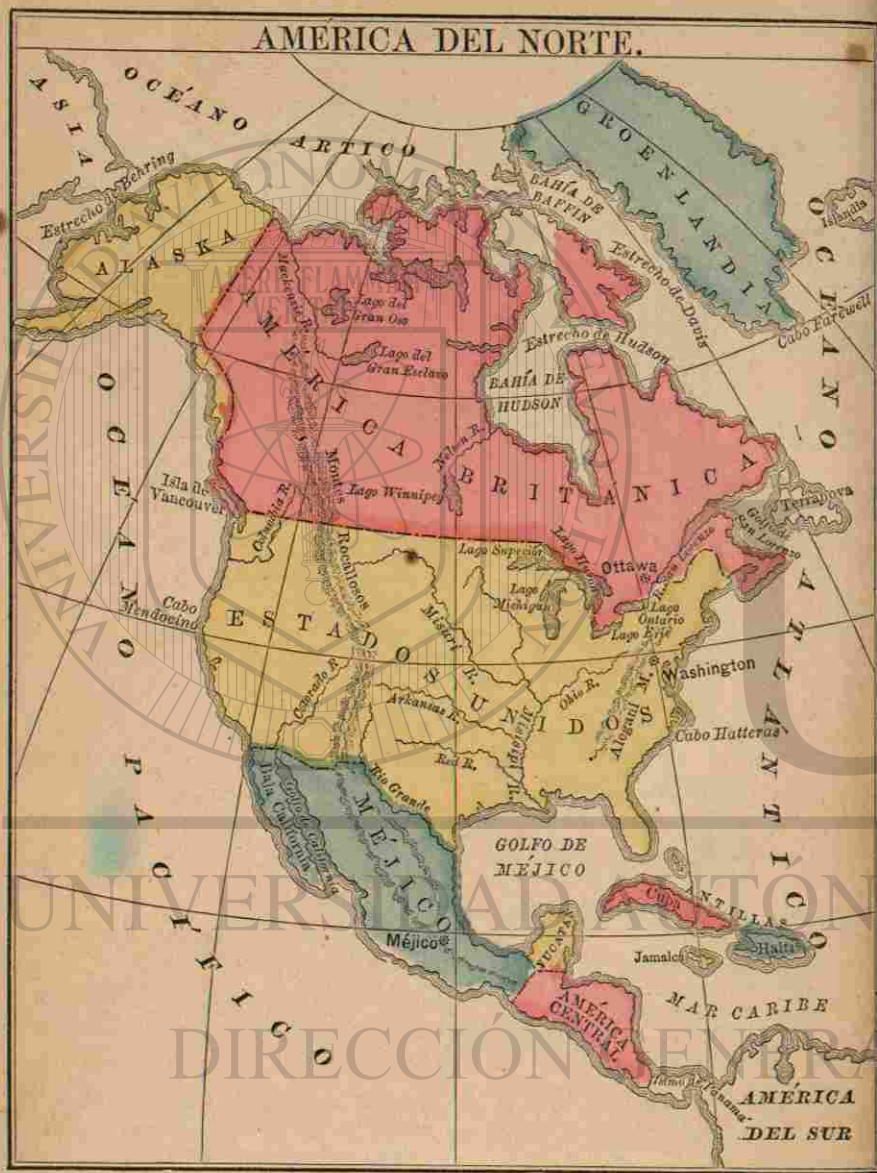
¿Sobre qué Río está Buenos Ayres?
A orillas del Río de la Plata.

¿Qué países recorre la Cordillera de los Andes?
Venezuela, E. U. de Colombia, Ecuador, Perú, Bolivia, República Argentina, Chile y Patagonia.

¿Qué es la América del Sur?
La América del Sur es una de las grandes divisiones del Continente Occidental.

¿Cuáles son las producciones mas importantes de la América del Sur?
Caña de azúcar, café, cacao, naranjas, piñas, índigo, palo de rosa, caucho, drogas, trigo y maíz.

¿Cuál es el clima del centro y norte de la América del Sur?
Muy cálido.



¿Qué clima es el de Patagonia?
Es un clima muy frío.

¿Qué país de la América del Sur es célebre por sus ricas minas de oro y diamantes?
El Brasil.

¿Y cuál por sus minas de oro y plata?
El Perú.

¿Qué se entiende por ciudad?
Es una gran aglomeración de casas y habitantes.

¿Qué es la capital de un Estado ó Nación?
Es la ciudad donde se hacen las leyes.

Nota.—Viendo el mapa se notará en los Estados Unidos una marca así * cerca del nombre Washington. Del mismo modo se marcarán las demas capitales en este mapa.

LECCION XXV.

¿Cuáles son los límites de la América del Norte?
La América del Norte tiene al norte el Océano Artico, al este el Atlántico, al sur el Istmo de Panamá, y al oeste el Océano Pacífico.

¿Cuáles son los países de la América del Norte?
Alaska, la América Inglesa, los Estados Unidos, Méjico y la América Central.

¿En qué parte de la América del Norte está Alaska?
Al noroeste.

¿A qué nación pertenece?
A los Estados Unidos.

¿Dónde está la América Inglesa?
Al norte.

¿En qué parte están los Estados Unidos?
En el centro.

¿Qué partes ocupan Méjico y la América Central?
La parte sur.

¿Cuál es la capital de la América Inglesa?
Ottawa.

¿Y la capital de los Estados Unidos?
Washington.

¿Qué ciudad es capital de Méjico?
Méjico.

LECCION XXVI.

¿Qué Isla hay al nordeste de la América Inglesa?
¿Qué Isla hay al este de la América Inglesa?


¿Qué Islas se hallan al sudeste de los Estados Unidos?
Las Antillas ó Indias Occidentales.

¿Qué Isla hay al oeste de la América Inglesa?
La Isla de Vancouver.

¿Qué Península pertenece á Méjico?
La Península de California.

¿Qué Istmo une la América del Norte y la del Sur?

¿Qué Cabo hay al este de los Estados Unidos?
El Cabo Hatteras.



El Capitolio de Washington.

¿Qué Cabo hay en la costa occidental de los Estados Unidos?

El Cabo Mendocino.

¿Qué Cabo hay al sur de Groenlandia?

El Cabo Farewell.

¿Qué Montañas hay en la parte oriental de los Estados Unidos?

¿Qué Montañas hay en la parte oeste de los Estados Unidos?

LECCION XXVII.

¿Qué Océanos bañan las costas de la América del Norte?

El Océano Artico, el Atlántico y el Pacífico.

¿Cuál está al norte de la América del Norte?

¿Cuál al este?

¿Cuál al oeste?

¿Qué Mar hay al este de la América Central?

El Mar Caribe.

¿Qué Bahía hay al oeste de Groenlandia?

La Bahía de Baffin.

¿Qué Bahía hay en la América Inglesa?

La Bahía de Hudson.

¿Qué Golfo hay al este de la América Inglesa?

El Golfo de San Lorenzo.

¿Qué Golfo se halla al sur de los Estados Unidos?

El Golfo de Méjico.

¿Qué Golfo está al este de la Península de California?

El Golfo de California.

¿Qué Estrecho hay al oeste de Groenlandia?

El Estrecho de Davis.

¿Qué Estrecho hay al norte de la América Inglesa?

El Estrecho de Hudson.

¿Qué dos Lagos hay en la parte norte de la América Inglesa?

El Gran Esclavo y el Gran Oso.

¿Qué Lago hay en la América Inglesa, al sudoeste de la Bahía de Hudson?

El Lago Winnipeg.

¿Qué Lagos hay entre la América Inglesa y los Estados Unidos?

Los Lagos Superior, Huron, Erie y Ontario.

LECCION XXVIII.

¿Qué Río hay en la parte norte de la América Inglesa?

El Río Mackenzie.

¿En qué Lago nace?

En el Lago Gran Esclavo.

¿En qué Océano desagua?

En el Océano Artico.

¿Qué Río nace en el Lago Winnipeg?

¿Dónde desemboca el Río Nelson?

En la Bahía de Hudson.

¿En qué Lago nace el Río San Lorenzo?

En el Lago Ontario.

¿En qué Golfo desemboca?

¿Cuáles son los dos grandes Ríos que desembocan en el Golfo de Méjico?

El Misisipí y el Río Grande.

¿Qué Río desemboca en el Misisipí por el este?

El Río Ohio.

¿Cómo se llama un Río que se une con otro Río?

Afluente.

¿Cuáles son los tres Ríos que desaguan en el Misisipí por el oeste?

El Misuri, el Arkansas y el Rojo.

LECCION XXIX.

¿Qué Río hay entre los Estados Unidos y Méjico?

El Río Grande.

¿Qué Río desemboca en el Golfo de California?

¿Qué Río de los Estados Unidos desemboca en el Océano Pacífico?

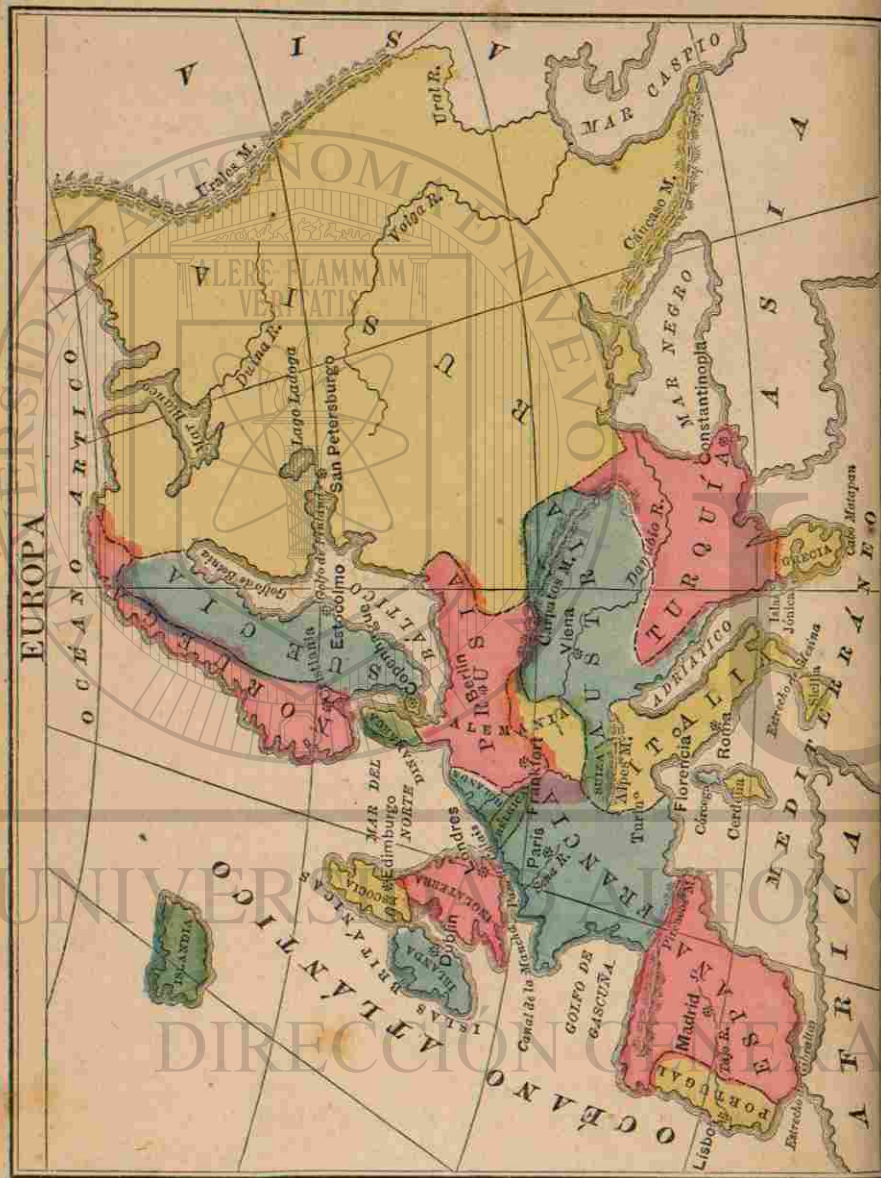
El Río Columbia.

¿Qué es la América del Norte?

La América del Norte es una de las Grandes Divisiones del Continente Occidental.



Indio Norte Americano.



¿ Qué pueblo habita la parte norte de la América del Norte ?

Está habitada principalmente por Indios y Esquimales.

¿ Cómo viven esos pueblos ?

Viven de la caza y la pesca.

¿ Qué clima es el de la parte norte de la América del Norte ?

Muy frío.

¿ En qué partes de la América del Norte es el clima muy caliente durante todo el año ?

En Méjico y en la América Central.

¿ Qué dos países hay al este de Austria ?
¿ Dónde se halla Italia ?

Italia está situada en la parte sur de Europa.

¿ Qué Mar hay al este de Italia ?

¿ Dónde está Francia ?

Francia está situada en la parte occidental de Europa.

¿ Dónde está España ?

España está situada al sudoeste de Europa.

¿ Qué país hay al oeste de España ?

¿ Qué país hay al este de Portugal ?

LECCION XXX.

¿ Cuáles son los límites de Europa ?

Europa tiene al norte, el Océano Artico; al este, el Asia y el Mar Caspio; al sur, el Mar Negro y el Mediterráneo; y al oeste, el Océano Atlántico.

¿ Cuáles son los tres países al norte de Europa ?

Noruega, Suecia y Rusia.

¿ Dónde está Turquía ?

La Turquía está en la parte sur de Europa.

¿ Qué Mar hay al este de Turquía ?

¿ Qué país está al sur de Turquía ?

Grecia.

¿ Dónde está situada Austria ?

Austria está en el centro de Europa.

LECCION XXXI.

¿ Dónde está Bélgica ?

Al norte de Francia.

¿ Qué país la limita por el sur ?

¿ Qué país la limita por el norte ?

Holanda.

¿ Qué Mar hay al norte de Holanda ?

¿ Qué país hay al sur de Dinamarca ?

Prusia.

¿ Qué país hay al este de Prusia ?

¿ Qué Mar está al este de Suecia ?


¿ Qué Mar hay al oeste de Dinamarca ?

¿ Dónde está Prusia ?

Prusia está situada en el centro de Europa al norte de Austria.

¿ Dónde está Suiza ?

Suiza se halla situada en el centro de Europa, entre Francia y Austria.



La Bolsa Real de Londres.

- ¿ Dónde está situado Portugal ?
Portugal está situado en la parte sudoeste de Europa.
- ¿ Qué países forman las Islas Británicas ?
Escocia, Inglaterra é Irlanda.
- ¿Cuál de ellas está mas al norte ?
¿Cuál es la capital de Suecia y de Noruega ?
Estocolmo lo es de Suecia, y Cristiania lo es de Noruega.
- ¿Cuál es la capital de Rusia ?
San Petersburgo.
- ¿ En qué parte de Rusia se halla ?

LECCION XXXII.

- ¿Cuál es la capital de Turquía ?
Constantinopla.
- ¿ Dónde está situada Constantinopla ?
¿Cuál es la capital de Austria ?
Viena.
- ¿ A orillas de qué Rio está Viena ?
¿ Qué país hay al sur de Suiza ?
Italia.
- ¿Cuál es la capital de Italia, y donde está situada ?
Roma, sobre el Tíber.

- ¿ En qué parte de Italia está Roma ?
En la parte occidental.
- ¿ Qué Mar hay al sur de Francia ?
¿Cuál es la capital de Francia ?
Paris.
- ¿ Sobre qué Rio está Paris ?
¿Cuál es la capital de España ?
Madrid.
- ¿ Sobre qué Rio está Madrid ?
¿Cuál es la capital de Portugal ?
Lisboa.
- ¿ A orillas de qué Rio está Lisboa ?
¿ De qué país es capital Lisboa ?
¿ De qué país es capital Paris ?

LECCION XXXIII.

- ¿ Qué Mar baña las costas de Dinamarca ?
¿Cuál es la capital de Dinamarca ?
Copenhague.
- ¿ Dónde está situada ?
En una Isla de Dinamarca.
- ¿ Qué país hay al sur de Dinamarca ?
¿ Qué país está situado al este de Prusia ?
¿Cuál es la capital de Prusia ?
Berlin, que lo es tambien del imperio alemán.
- ¿ Dónde está situado Frankfort ?
Frankfort está en la parte sudoeste del imperio alemán.
- ¿ Nombre V. los países de las Islas Británicas ?
¿Cuál es la capital de Escocia ?
Edimburgo.
- ¿Cuál es la capital de Inglaterra ?
Londres.

- ¿Cuál es la capital de Irlanda ?
Dublin.
- ¿ Qué tres Islas grandes hay en el Mediterraneo ?
Sicilia, Córcega y Cerdeña.
- ¿ Cuáles están al oeste de Italia ?
¿ Qué Isla hay al oeste de Noruega ?
Islandia.
- ¿ En qué Océano está Islandia ?
¿ Qué Penínsulas hay en Europa ?
Noruega y Suecia, Grecia, Italia, España y Portugal, y Dinamarca.

LECCION XXXIV.

- ¿ Qué Cabo hay al sur de Grecia ?
El Cabo Matapan.
- ¿ Qué Montañas hay entre Europa y Asia ?
Los Montes Urales y el Cáucaso.
- ¿ Dónde están los Pirineos ?
Entre Francia y España.
- ¿ Qué Montañas hay en el centro de Europa ?
Los Alpes y los Montes Carpáticos, ó Cárpatos.
- ¿ En qué país están los Montes Cárpatos ?
¿ En qué países están los Alpes ?
Los Alpes están principalmente en Suiza y en la parte norte de Italia.
- ¿ Qué Océano hay al norte de Europa ?
¿ Qué Océano hay al oeste de Europa ?
¿ Qué Mar está al norte de Rusia ?
El Mar Blanco.



¿Qué Mar se encuentra al sudeste de Rusia?

El Mar Caspio.

¿Qué Mar hay al sur de Rusia?

El Mar Negro.

¿Dónde está el Mar Mediterráneo?

El Mediterráneo está al sur de Europa.

¿Qué Mar hay entre Italia y Austria?

El Mar Adriático.

¿Dónde se encuentra el Mar del Norte?

El Mar del Norte está al este de Escocia é Inglaterra.

¿Dónde está el Mar Báltico?

El Mar Báltico está al norte de Prusia, entre Suecia y Rusia.

¿Dónde se halla, con respecto á Rusia?

LECCION XXXV.

¿Dónde está la Bahía de Vizcaya, ó Golfo de Gascuña?

La Bahía de Vizcaya está al oeste de Francia.

¿Qué dos Golfos hay al oeste de Rusia?

El Golfo de Botnia y el de Finlandia.

¿Cuál de estos dos Golfos está mas al norte?

¿Dónde está situado el Estrecho de Mesina?

El Estrecho de Mesina está entre Italia y Sicilia.

¿Qué Estrecho hay entre España y Africa?

El Estrecho de Gibraltar.

¿Dónde está el Estrecho de Dover, ó paso de Calais?

Entre Inglaterra y Francia.

¿Qué Canal hay entre Inglaterra y Francia?

¿Dónde está el Lago Ladoga?

El Lago Ladoga está situado en la parte occidental de Rusia.

¿Qué Rio de Rusia desemboca en el Mar Blanco?

El Rio Duina.

¿Qué Ríos desembocan en el Mar Caspio?

El Volga y el Ural.

¿Por qué países corre el Rio Danubio?

El Rio Danubio corre por Alemania, Austria y Turquía.

¿En qué Mar desemboca?

¿Por qué países corre el Rio Tajo?

El Rio Tajo corre entre España y Portugal.

¿En qué Océano desemboca el Tajo?

¿Qué país riega el Sena?

La Francia.

¿En qué Canal desemboca?

¿Por qué países corre el Rin?

El Rin corre por Suiza, Prusia y Holanda.

¿En qué Mar desemboca?

LECCION XXXVI.

¿Qué es Europa?

Europa es una de las Grandes Divisiones del Continente Oriental.

¿Cuál es la Ciudad mas grande de Europa?

Londres.

Nota.—Londres es la ciudad mas extensa y rica del mundo.

¿Cuál es la Ciudad que sigue á Londres?

Paris.

¿Qué clima es el de la parte norte de Europa?

En su generalidad es frio.

¿Qué clima es el de la parte sur de Europa?

Cálido.

¿Cuáles son los principales minerales de Europa?

Hierro, plomo, estaño, cobre, azogue y carbon de tierra, ó hulla.

¿Cuáles son los productos vegetales de mayor importancia de Europa?

Trigo y otros cereales; tambien una gran variedad de frutas deliciosas.

¿Qué país de Europa es conocido por lo delicioso de su clima y la belleza de su aspecto general?

Italia.

¿Por qué es nombrada Turquía?

Por la fabricacion de sedas y alfombras.

¿Qué país de Europa tiene las mas altas montañas y mas hermosos lagos?

Suiza.



Animales de Europa.

¿En qué producciones sobresale Francia?

Vinos, brandi y seda.

¿Qué distingue la Inglaterra?

La fabricacion de tejidos de lana y algodón, y quincalla.

¿Cómo se llama la Isla en que están situadas Inglaterra y Escocia?

La Gran Bretaña.

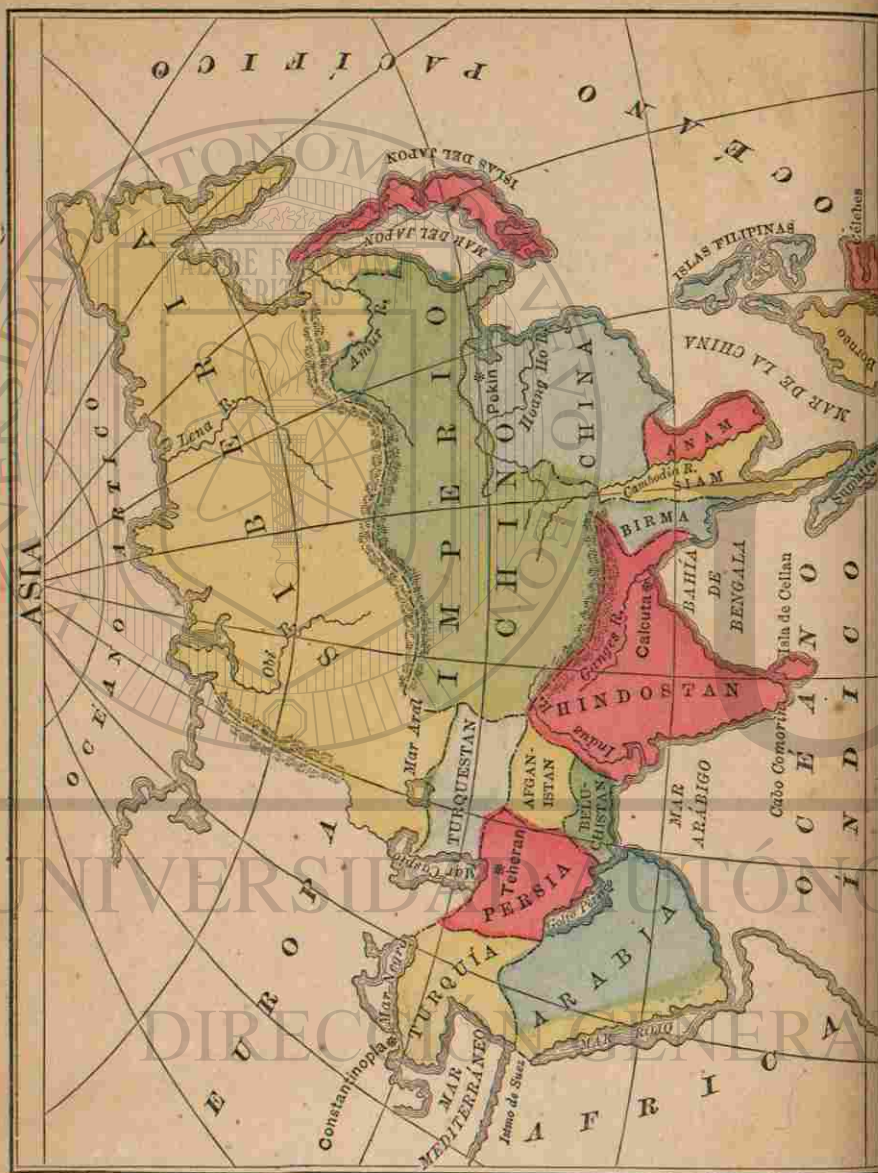
¿De qué forma parte?

Forma parte de las Islas Británicas.

LECCION XXXVII.

¿Cuáles son los límites de Asia?

Asia tiene al norte el Océano Artico, al este el Océano Pacífico,



al sur el Océano Indico, y al oeste Africa y Europa.

¿Dónde está situada la Siberia?

La Siberia se halla en la parte norte de Asia.

¿Qué dos países hay al sur de la Siberia?

¿Dónde está situado el Imperio Chino?

Al oriente de Asia.

¿Cómo se llama la parte sudeste de este Imperio?

Se llama China.

¿Cuáles son los dos países al sur de la China?

Anam y Siam.

¿Qué país hay al oeste de Siam?

¿Dónde está el Indostan?

El Indostan está en la parte meridional de Asia.

¿Cuáles son los dos países que están al oeste del Indostan?

Afganistan y Beluchistan.

¿Cuál está mas al norte?

¿Dónde se halla la Arabia?

La Arabia está en la parte sudoeste de Asia.

¿Cuál es el país que está al este de Turquía?

Persia.

¿Cuáles son los dos países situados al este de la Persia?

¿Dónde se encuentra el Turkestan?

El Turkestan está en la parte occidental de Asia, al oeste del Imperio Chino.

¿Cuál es la capital del Imperio Chino?

Pekin.

¿En qué parte del Imperio está Pekin?

Pekin está en la parte norte de China.

¿Cuál es la capital del Indostan?

Calcutta.

¿Cuál es la capital de Turquía?

Constantinopla.

Nota.—Constantinopla es la capital de las Turquías Europea y Asiática.

¿Cuál es la capital de Persia?

Teheran.

¿En qué parte de Persia está Teheran?

¿A qué país de Asia baña el Océano Arctico?

¿A qué dos países de Asia baña el Océano Pacifico?

La Siberia y el Imperio Chino.

¿A qué país baña el Mar Rojo?

Arabia.

¿A qué país baña el Mediterráneo?

Turquía.

¿De qué país es capital Pekin?

LECCION XXXVIII.

¿Dónde está situada Turquía?

Turquía se halla en la parte occidental de Asia, al norte de la Arabia.



Animales de Asia.

LECCION XXXIX.

¿Dónde están situadas las Islas del Japon?

Las Islas del Japon están al este del Imperio Chino.

¿Dónde se encuentran las Islas Filipinas?
Las Islas Filipinas están situadas al sudeste de la China.

¿Qué Islas hay al sur de las Filipinas?

¿Qué Isla hay al oeste de Borneo?

¿Qué Isla está al sur del Indostan?

Ceilan.

¿Qué Penínsulas hay en Asia?

El Indostan y la Arabia.

¿Qué Istmo une el Asia con el Africa?

El Istmo de Suez.

¿Qué Cabo hay al sur del Indostan?

El Cabo Comorin.

¿Dónde se hallan los Montes Urales?

Los Montes Urales están entre Asia y Europa.

¿Dónde están las Montañas Altai?

Entre la Siberia y el Imperio Chino.

¿Dónde se encuentran los Montes Himalaya?

Entre el Indostan y el Imperio Chino.

¿Qué Océano baña el Asia por el norte?

¿Qué Océano hay al este de Asia?

¿Qué Océano está al sur de Asia?

LECCION XL.

¿Qué Mar hay al oeste de las Islas del Japon?

El Mar del Japon.

¿Qué Mar hay al oeste de las Islas Filipinas?

El Mar de la China.

¿Qué Mar hay entre el Indostan y la Arabia?

El Mar Arábigo.

¿Dónde está el Mar Rojo?

El Mar Rojo está al oeste de Arabia.

¿Qué Mar hay al oeste de Turquía?

El Mediterráneo.

¿Qué Mar hay al norte de Turquía?

El Mar Negro.

¿Qué Mar hay al norte de Persia?

El Mar Caspio.

¿En qué dirección respecto del Turkestan está el Mar Caspio?

¿Qué Mar hay al norte del Turkestan?

El Mar Aral.

¿Qué Bahía hay al este del Indostan?

La Bahía de Bengala.

¿Qué Golfo hay al sur de Persia?

El Golfo Pérsico.

¿Qué dos Ríos hay en la Siberia?

Los Ríos Obi y Lena.

¿En qué Océano desembocan?

¿Cuál es el clima de Asia?

En la parte norte es frío, y en la parte sur, cálido.

¿Por qué es nombrada la Siberia?

Por sus metales y pieles de animales.

¿Cuáles son las principales producciones de la China?

Arroz y té.

¿Cuáles son las principales producciones del Indostan?

Piedras preciosas, especias, drogas y maderas finas.

¿Cuál es el producto principal de Arabia?

Café.

¿Cuáles son los principales productos de Turquía?

Olivas é higos.

¿Por qué es célebre Persia?

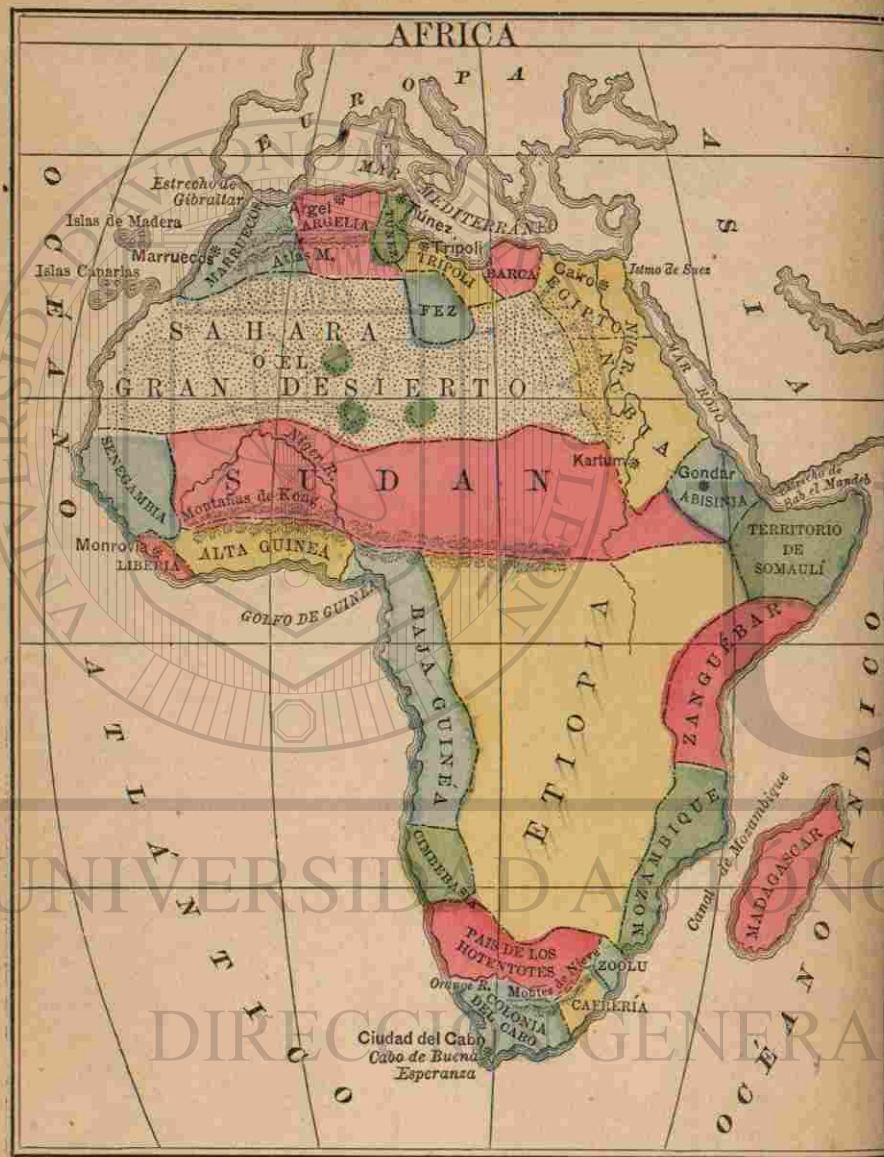
Por la fabricacion de sus ricos chales y alfombras.

¿Qué piedras preciosas se encuentran en Persia?

Perlas y turquesas.



Tipo Arabe.



LECCION XLII.

¿ Cuáles son los límites de Africa ?
Africa está limitada al norte por el Mar Mediterráneo; al este por el Mar Rojo y el Océano Indico, al sur y al oeste por el Océano Atlántico.

Nombre V. los países de Africa sobre el Mar Mediterráneo ?

Marruecos, Argelia, Túnez, Trípoli, Barca y Egipto.

¿ Qué países baña el Mar Rojo ?
Egipto, Nubia y Abisinia.

¿ Qué países de Africa hay sobre el Océano Indico y el Canal de Mozambique ?

El Territorio de Somaulí, Zanguebar, Mozambique, Zoolú y Cafrería.

¿Cuál es el país de Africa mas al sur ?
La Colonia del Cabo.

¿ Qué países de Africa hay sobre el Océano Atlántico ?

Marruecos, Sahara, Senegambia, Liberia, Guinea Superior, Guinea Inferior, Cimbebasia y el País de los Hotentotes.

¿ Qué país hay al sur de Trípoli ?
Fez.

¿ Dónde está Sudan ?
Sudan ocupa el centro de Africa.

¿ Dónde se halla la Etiopia ?
La Etiopia está al sur del Sudan.

LECCION XLIII.

¿Cuál es la capital de Marruecos ?
Marruecos.

¿Cuál es la capital de Argelia ?
Argel.

¿Cuál es la capital de Túnez ?
Túnez.

¿Cuál es la capital de Egipto ?
El Cairo.

¿ Sobre qué Río está el Cairo ?
¿Cuál es la capital de Nubia ?
Kartum.

¿ Sobre qué Río está Kartum ?
¿Cuál es la capital de Abisinia ?
Gondar.

¿Cuál es la capital de la Colonia del Cabo ?
La Ciudad del Cabo.

¿ En qué parte de la Colonia está la Ciudad del Cabo ?

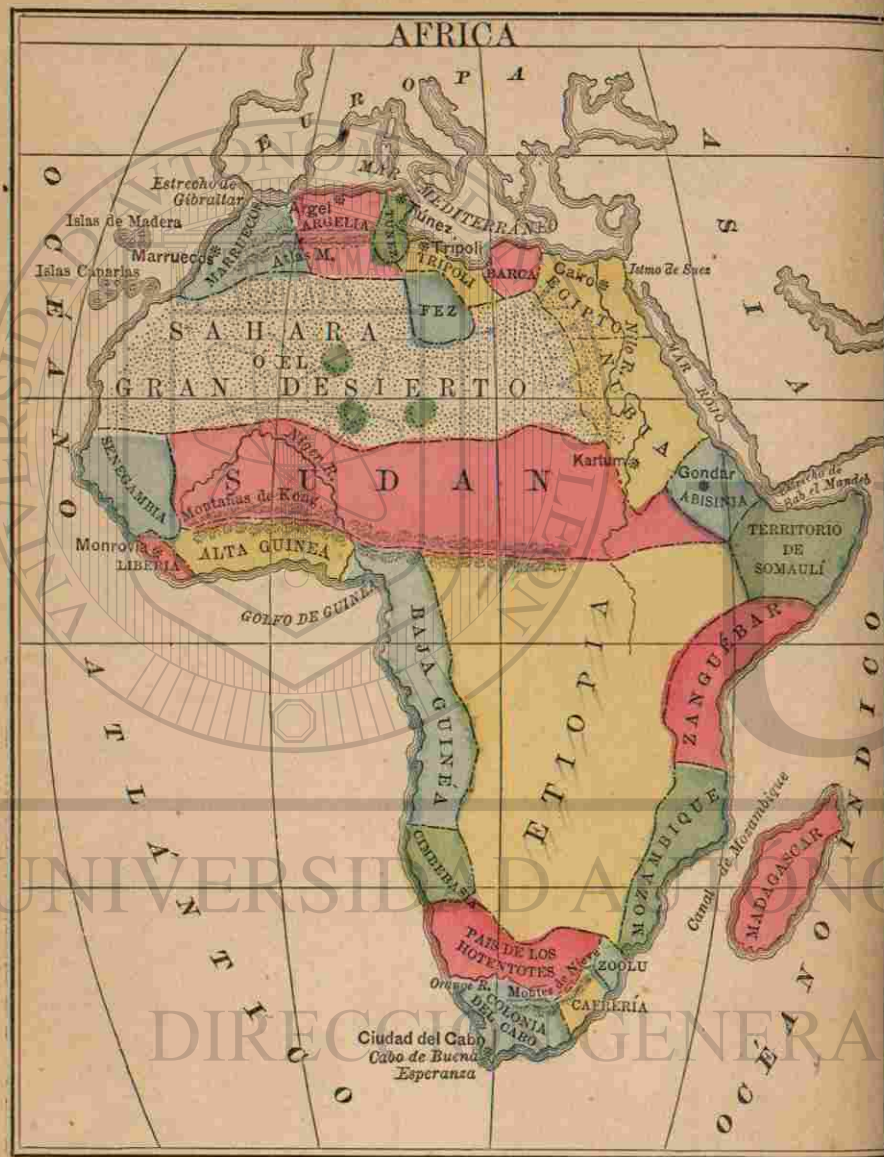
¿Cuál es la capital de Liberia ?
Monrovia.

¿ Qué Isla hay al este de Mozambique ?
¿ Qué Islas hay al oeste de Marruecos ?
Las Islas de Madera, y las Canarias.

¿ Qué Cabo hay en la extremidad sur de la Colonia del Cabo ?
El Cabo de Buena Esperanza.

¿ Dónde están los Montes Atlas ?
Los Montes Atlas se extienden

al noroeste de Africa.



LECCION XLII.

¿ Cuáles son los límites de Africa ?
 Africa está limitada al norte por el Mar Mediterráneo; al este por el Mar Rojo y el Océano Indico, al sur y al oeste por el Océano Atlántico.

Nombre V. los países de Africa sobre el Mar Mediterráneo ?

Marruecos, Argelia, Túnez, Trípoli, Barca y Egipto.

¿ Qué países baña el Mar Rojo ?
 Egipto, Nubia y Abisinia.

¿ Qué países de Africa hay sobre el Océano Indico y el Canal de Mozambique ?

El Territorio de Somaulí, Zanguebar, Mozambique, Zoolú y Cafrería.

¿ Cuál es el país de Africa mas al sur ?
 La Colonia del Cabo.

¿ Qué países de Africa hay sobre el Océano Atlántico ?

Marruecos, Sahara, Senegambia, Liberia, Guinea Superior, Guinea Inferior, Cimbebasia y el País de los Hotentotes.

¿ Qué país hay al sur de Trípoli ?
 Fez.

¿ Dónde está Sudan ?
 Sudan ocupa el centro de Africa.

¿ Dónde se halla la Etiopia ?
 La Etiopia está al sur del Sudan.

LECCION XLIII.

¿ Cuál es la capital de Marruecos ?
 Marruecos.

¿ Cuál es la capital de Argelia ?
 Argel.

¿ Cuál es la capital de Túnez ?
 Túnez.

¿ Cuál es la capital de Egipto ?
 El Cairo.

¿ Sobre qué Río está el Cairo ?
 ¿ Cuál es la capital de Nubia ?
 Kartum.

¿ Sobre qué Río está Kartum ?
 ¿ Cuál es la capital de Abisinia ?
 Gondar.

¿ Cuál es la capital de la Colonia del Cabo ?
 La Ciudad del Cabo.

¿ En qué parte de la Colonia está la Ciudad del Cabo ?

¿ Cuál es la capital de Liberia ?
 Monrovia.

¿ Qué Isla hay al este de Mozambique ?
 ¿ Qué Islas hay al oeste de Marruecos ?
 Las Islas de Madera, y las Canarias.

¿ Qué Cabo hay en la extremidad sur de la Colonia del Cabo ?
 El Cabo de Buena Esperanza.

¿ Dónde están los Montes Atlas ?
 Los Montes Atlas se extienden

al noroeste de Africa.



Animales de Africa.

¿Qué Montañas hay en la parte sur de Africa?

Los Montes de las Nieves.

¿Qué Montañas se extienden por la parte occidental de Africa?

Los Montes de Kong.

LECCION XLIV.

¿Qué Océano hay al este de Africa?

¿Qué Océano hay al oeste de Africa?

¿Qué Mar hay entre Africa y Europa?

¿Qué Mar hay entre Africa y Asia?

¿Qué Golfo hay al oeste de Africa?

El Golfo de Guinea.

¿Qué Estrecho une el Mar Mediterráneo y el Océano Atlántico?

El Estrecho de Gibraltar.

¿Qué Estrecho une el Mar Rojo y el Océano Indico?

El Estrecho de Bab-el-Mandeb.

¿Qué Canal hay entre la Isla de Madagascar y Africa?

¿Qué países riega el Rio Nilo?

El Sudan, Nubia y Egipto.

¿En qué Mar desemboca?

¿Qué Rio desemboca en el Golfo de Guinea?

El Niger.

¿Qué es Africa?

Africa es una de las Grandes Divisiones del Continente Oriental.

¿Cuál es el clima de Africa?

Cálido.

¿Qué distingue al Africa?

Sus inmensos desiertos de arena.

¿Cuáles son algunos de los productos mas importantes de Africa?

Marfil, dátiles, polvo de oro, y aceite de palma.

¿Por qué es célebre el Egipto?

Por sus templos y pirámides.

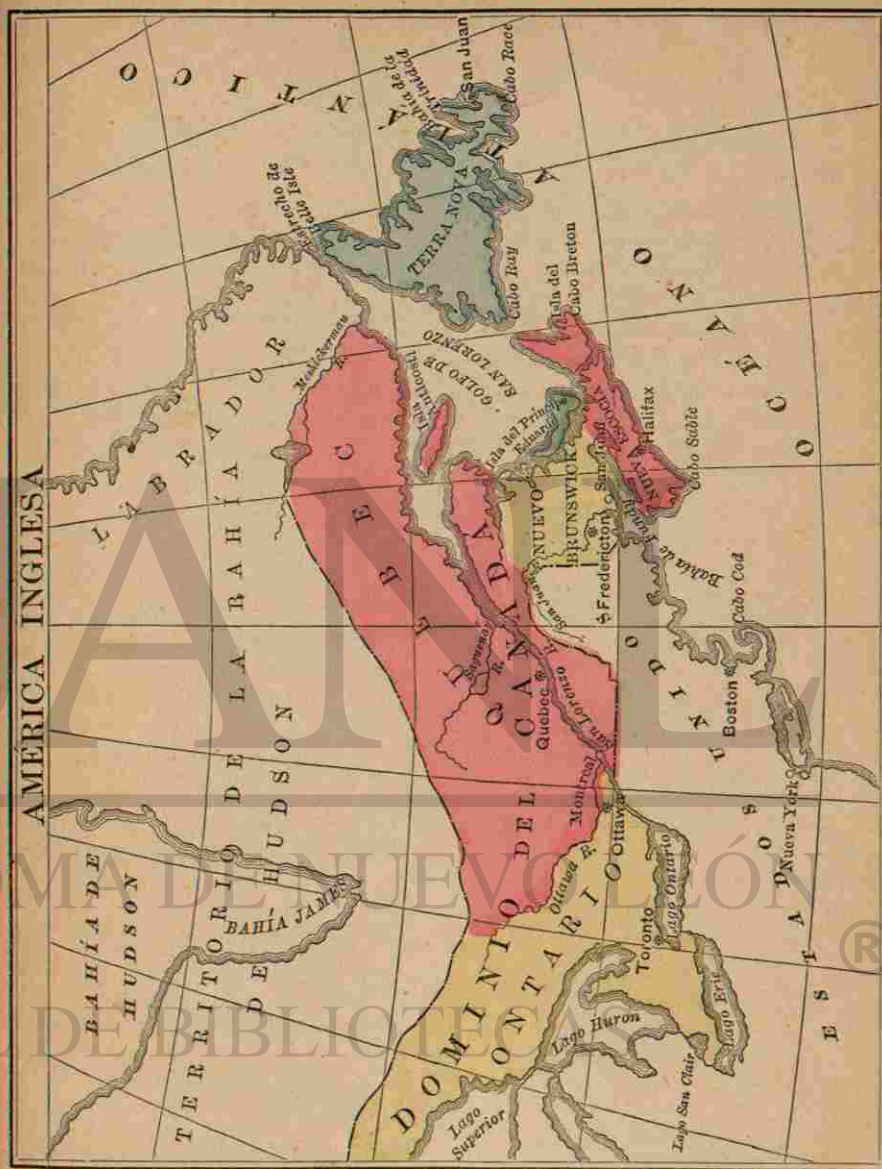
LECCION XLV.

¿Dónde están las Provincias Británicas?

Se hallan situadas al sudeste de la América Inglesa.

¿De qué Provincias se compone el Dominio del Canadá?

De las Provincias de Ontario,



Quebec, Nuevo Brunswick, y Nueva Escocia.

¿Cuál es la capital de la América Británica?
Ottawa.

Nombre V. otras dos Ciudades de Ontario?

¿Qué dos Ciudades hay en Quebec?

¿Dónde está situada Montreal?

Sobre una Isla del San Lorenzo.

¿Cuál es la capital del Nuevo Brunswick?

¿Cuál es la capital de la Nueva Escocia?

¿Cuál es la capital de Terranova?

¿Qué Océano hay al este de Terranova?

¿Dónde se halla la Isla del Cabo Breton?

Al nordeste de la Nueva Escocia.

¿Y la Isla del Príncipe Eduardo?

¿Cuál es la situación del Golfo de San Lorenzo?

¿Qué Río riega el Nuevo Brunswick?

¿Dónde está el Río Ottawa?

¿De qué Río es afluente* el Ottawa?

LECCION XLVI.

¿Con quién confinan los Estados Unidos del Norte América?

Al norte con la América Inglesa, al este con el Atlántico, al sur con el Golfo de Méjico y la República Mejicana, y al oeste con el Océano Pacífico.

¿Cómo están divididos los Estados Unidos?

En treinta y ocho Estados, diez Territorios, y un Distrito.

* Tributarios, ó Afluentes, se denominan los rios que entran en otros mas grandes.

¿Cuáles son los Estados?

Los del Este son: Vermont, New Hampshire, Massachusetts, Maine, Rhode Island y Connecticut.

¿Y los del Centro?

Nueva York, New Jersey, Delaware y Pensilvania.

Nombre V. los del Sur?

Marilandia, Virginia, Virginia Occidental, Carolina del Norte, Carolina del Sur, Georgia, Florida, Alabama, Misisipí, Luisiana y Téjas.

¿Y los del Oeste?

Minnesota, Wisconsin, Michigan, Ohio, Kentucky, Tennessee, Arkansas, Misuri, Kansas, Colorado, Nebraska, Iowa, Illinois, Indiana, California, Oregon y Nevada.

¿Cuáles son los diez Territorios?

Washington, Idaho, Montana, Dakota, Indian, Nuevo Méjico, Arizona, Utah, Wyoming y Alaska.

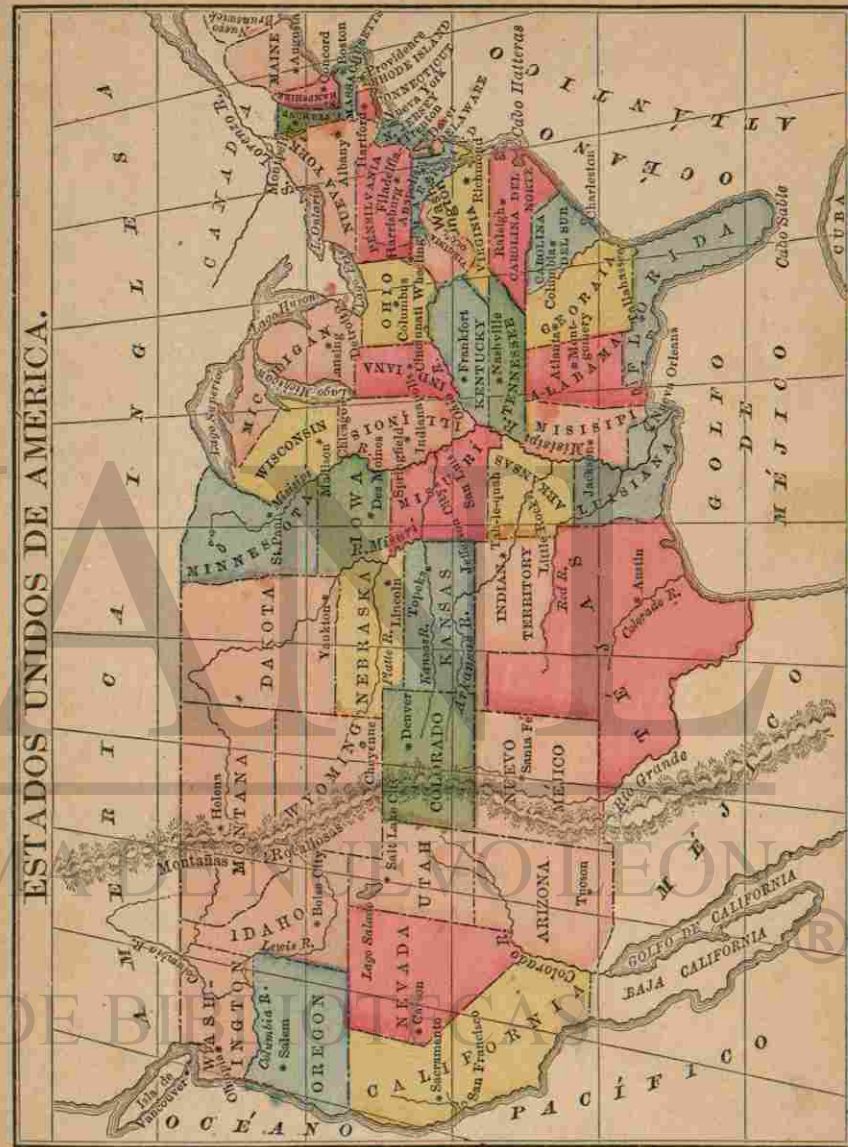
¿Dónde está situado el Distrito de Columbia, ó el Distrito Federal?

Entre Marilandia y Virginia.

¿A qué Ciudad tienen por capital los Estados Unidos?

¿Dónde está Washington?

A orillas del Río Potomac, en el Distrito de Columbia.



¿Cuáles son las capitales de los Estados del Este?

La de Vermont, Montpelier; la de New Hampshire, Concord; la de Maine, Augusta, siendo Portland su ciudad principal; la de Massachusetts, Boston; Rhode Island tiene dos capitales: Providence y Newport; y la de Connecticut es Hartford, siendo New Haven la ciudad principal.

¿Nombre V. las capitales de los Estados del Centro?

La de Nueva York, Albany, siendo Nueva York la ciudad principal y mas populosa del Hemisferio Occidental; la capital de New Jersey es Trenton, siendo Jersey City la ciudad mas importante del Estado; Delaware tiene por capital á Dover; y Pensilvania á Harrisburg, habiendo además en este Estado la grande y hermosa ciudad de Filadelfia.

¿Cuáles son las capitales de los Estados del Sur?

Marilandia, Anápolis; Virginia Occidental, Wheeling; Virginia, Richmond; Carolina del Norte, Raleigh; Carolina del Sur, Columbia, tiene tambien á Charleston, hermoso puerto; Georgia, Atlanta; Florida, Tallahassee; Ala-

bama, Montgomery; Misisipí, Jackson; Luisiana, Nueva Orleans; Texas, Austin; hay además Galveston, puerto.

¿Nombre V. las capitales de los Estados del Oeste?

Minnesota, San Pablo (ó Saint Paul); Wisconsin, Madison; Michigan, Lansing, hay además Detroit, buen puerto en el Lago S. Clair; Ohio, Columbus, ciudad principal Cincinnati, comercio importante; Kentucky, Frankfort, ciudad principal Louisville; Tennessee, Nashville, ciudad principal Memphis; Arkansas, Little Rock; Misuri, Jefferson City, ciudad principal San Luis, gran comercio; Kansas, Topeka; Colorado, Denver; Nebraska, Lincoln; Iowa, Des Moines, ciudad principal Iowa City; Illinois, Springfield, ciudad principal Chicago; Indiana, Indianápolis; California, Sacramento, ciudad principal San Francisco, puerto importante, hermosa bahía.

¿Cuáles son las capitales de los Territorios?

Washington tiene por capital á Olympia; Idaho, á Boise City; Montana, á Helena; Dakota, á Yankton; Indian, á Tahlequah; Nuevo Méjico, á Santa Fé; Ari-

zona, á Tucson; Utah, á Salt Lake City; Wyoming, á Cheyenne City; Colorado, á Denver.

¿Cuál es la capital del Distrito de Columbia, ó Distrito Federal?

Washington.

LECCION XLVII.

¿Cuáles son las principales Montañas de los Estados Unidos?

Al este el sistema Alegani, de que es núcleo el Montenegro en la Carolina del Norte.

¿Y al oeste qué Montañas hay?

Las Montañas Rocallosas, con nieve perpetua.

¿Cuáles son los principales Rios de los Estados Unidos?

El San Lorenzo, que forma parte del límite con la América Inglesa; el Hudson, Potomac y James, que desaguan en el Atlántico.

¿Cuáles otros hay?

El Misisipí, con sus afluentes Misuri, Ohio, Arkansas, Red (ó Rojo), y el Rio Grande del Norte, que desaguan en el Golfo de Méjico.

¿Cuáles otros?

El Colorado, que desemboca en la Bahía de California; y el Columbia, que desagua en el Pacífico.

Nombre V. los Lagos mas notables de los Estados Unidos?

El Superior (el mayor depósito de agua dulce conocido), Huron, Erie y Ontario, que separan los Estados Unidos de la América Inglesa.

¿Qué otros?

Michigan, Champlain, y Gran Salado, notable por ser salado, y hallarse á 1,000 metros sobre el nivel del mar.

LECCION XLVIII.

¿Cuáles son los límites de Méjico?

La República Mejicana confina al norte con los Estados Unidos; al este con el Golfo de Méjico; al sudeste con Baliza y la República de Guatemala; al sur y al oeste con el Océano Pacífico.

¿Cómo se divide Méjico?

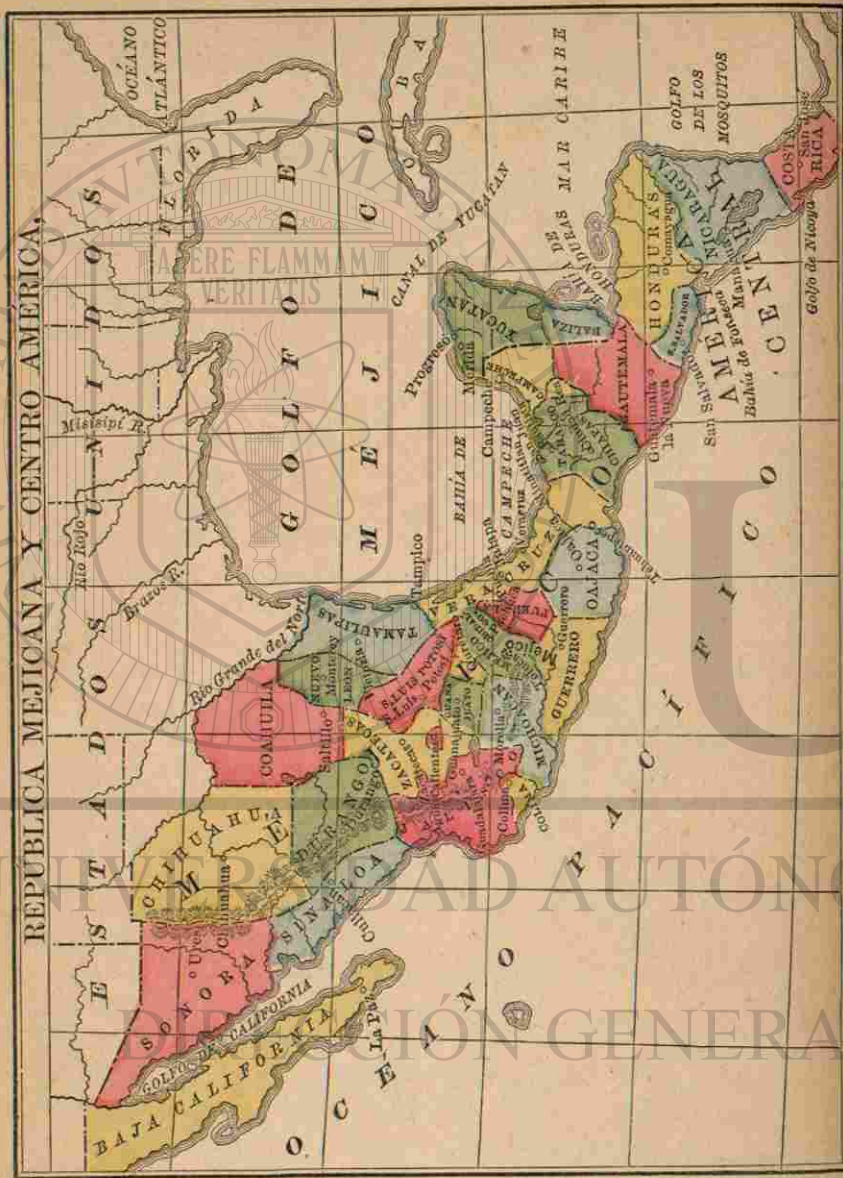
En veinte y siete Estados, un Distrito Federal y un Territorio.

Diga V. los Estados del norte con sus capitales?

Chihuahua, capital del mismo nombre; Cohahuila, capital Saltillo; Durango, capital Durango.

¿Y los del este?

Tamaulipas, capital Victoria; Nuevo Leon, capital Monterey; y San Luis Potosí, capital del mismo nombre.



¿Cuáles son los Estados del centro?

Zacatecas, capital del mismo nombre; Guanajuato, capital Guanajuato; Aguascalientes, capital del mismo nombre; Jalisco, capital Guadalajara, y Colima, capital del mismo nombre.

¿Cuáles son los Estados del oeste?

Sonora, capital Ures; y Sinaloa, capital Culiacan.

Diga V. los Estados del sur?

Michoacan, capital Morelia; Querétaro, capital del mismo nombre; Méjico, capital Toluca; Hidalgo, capital Pachuca; Morelos, capital Cuernavaca; Guerrero, capital Guerrero.

¿Cuáles otros hay al sur?

Puebla, Tlaxcala, Campeche y Oajaca, con sus capitales del mismo nombre; Tabasco, capital San Juan Bautista; Chiapas, capital San Cristóbal; Vera Cruz, capital Jalapa, y finalmente Yucatan, capital Mérida.

¿Cuál es la capital del Distrito Federal?

La ciudad de Méjico, que es tambien la capital de la república.

¿Y la del Territorio de Baja California?

La Paz.

¿Qué Montañas hay en Méjico?

La gran cadena de la Sierra Madre.

¿Cuál es la mayor altura de Méjico?

La del volcan Popocatepetl, que tiene unos 17,540 piés sobre el nivel del mar.

¿Hay algunos otros volcanes?

Sí, señor; hay los de Orizaba, Colima, Jorullo, Tuxtla.

¿Dónde está el Golfo de California?

Entre la península de Baja California y Méjico.

¿Dónde desagua el Rio Grande (ó Bravo) del Norte?

En el Golfo de Méjico, por el puerto de Matamoros.

¿Cuáles otros Rios hay?

El Santiago, que desemboca en el Océano Pacífico, cerca de San Blas; el Pánuco, que desagua en el puerto de Tampico, despues de haber recibido las aguas del Támesi; el Yaqui, que desagua en el Golfo de California; el Sumasinta (ó Usumasinta), y el Colorado que desagua en el Golfo de California.

¿Qué Lagos hay en Méjico?

El Chapala en el Estado de Jalisco, los de San Cristóbal, de Chalco, de Texcoco, de Xochimilco, de Jalcotan y de Zumpango cerca de la capital; el de Términos en Campeche, y el del Caiman en el Estado de Chihuahua.

¿Cuáles son los principales puertos de la República Mejicana?

Matamoros, Tampico, Tuxpan, Vera Cruz, Coatzacoalcos, Tabasco, Campeche y Progreso, en el Golfo de Méjico; Guaymas y La Paz, en el Golfo de California; y Mazatlan, San Blas, Manzanillo y Acapulco, en la costa del Pacífico.

¿Cuál es el clima de la República?

Suave en el interior, pero en las costas es excesivo el calor, y el aire en algunas partes malsano.

YUCATAN.

¿Qué es Yucatan?

Es la península que forma la extremidad sudeste del territorio Mejicano.

¿Qué montañas hay en Yucatan?

Hacia el interior hay una cadena de cerros de corta elevación.

¿Cuál es la división política de la península?

Divídese en los dos Estados de Yucatan y Campeche, partes integrantes de la federación de los Estados Unidos Mejicanos.

¿Cómo se subdividen dichos Estados?

El de Yucatan se subdivide en diez y seis partidos, y el de Campeche, en cinco.

¿Cuáles son sus capitales?

La ciudad capital de Yucatan es

Mérida, con mas de 33,000 habitantes; y la de Campeche, la ciudad de su nombre, con unos 13,000.

¿Cuáles son los principales puertos?

Progreso, puerto de Mérida, en el Estado de Yucatan; y Campeche, en el Estado de su nombre.

¿Hay rios en la península Yucateca?

Son escasos y de poca importancia; pero lluvias periódicas y un copioso rocío mantienen una lozana vegetación.

¿Qué son Cenotes?

Llevan este nombre ciertos rios subterráneos que existen en el país.

¿Qué Islas hay?

En el Mar Caribe, la de Cozumel ó de las Golondrinas, célebre por haber sido el mayor santuario de los indígenas de la península, quienes iban allá en romería á visitar sus grandes *Kúes* ó adoratorios de ídolos; la Isla Mujeres y la Isla Blanca; y en el Golfo de Méjico, la de Polbox, los Alacranes, la del Carmen ó la Perla del Golfo, notable por su gran exportación de palo de Campeche; la de Puerto Real, y alguna otra.

¿Cuál es el clima?

Es uno de los mas salubres, aunque tambien uno de los mas cálidos, de la América tropical.

¿Quiénes eran los habitantes indígenas de la península?

Los mayas, gente muy civilizada é instruida en agricultura y arquitectura, como lo probaban los campos cultivados y los grandiosos edificios que encontraron en su territorio los descubridores.

¿Existen vestigios de aquellas obras?

Numerosos é importantes en toda la península é islas adyacentes, testificando la grandeza de un pueblo cuya historia, á pesar de los esfuerzos de la ciencia, queda todavía desconocida.

¿Cuáles son las ruinas mas notables?

Los de Uxmal, Izamal, Chichen Itzá y Mayapan.

LECCION XLIX.

¿Cuáles son los límites de la América Central?

Al norte el Mar Caribe y la República Mejicana; al este el mismo Mar Caribe y el Istmo de Panamá; al oeste Méjico y el Océano Pacífico, y al sur dicho Océano Pacífico.

¿Cuáles son los países de la América Central?

Las Repúblicas de Guatemala, San Salvador, Honduras, Nicaragua y Costa Rica.

Nombre V. los principales Golfos y Bahías de la América Central?

La Bahía de Honduras y el Golfo de los Mosquitos, en el Mar Caribe; y la Bahía de Fonseca y el Golfo de Nicoya, en el Pacífico.

¿Qué Cabos hay?

Los de Honduras, Camaron y Gracias á Dios, en el Mar Caribe; y el Cabo Blanco, al sudoeste de Costa Rica.

¿Hay Montañas?

La cadena de los Andes atraviesa todo el territorio.

¿Cuántos volcanes hay?

Unos veinte, la mayor parte de los cuales arden continuamente.

Nombre V. algunos de los mas notables?

Los de Agua y de Fuego y Atitlan, en Guatemala; Izalco y San Vicente, en San Salvador; y Masaya, Cosigüina, Mombacho y Motombo, en Nicaragua.

¿Cuáles son los Rios mas importantes?

El Polochic ó Polochique y Motagua, en Guatemala; Uña, Camalecon y Choluteca, en Honduras; el Segovia y San Juan, en Nicaragua.

¿Y los principales Lagos?

Managua y Granada ó Nicaragua en Nicaragua; Atitlan, Amatitan, Dulce y Peten, en Guatemala; y Yofoa, en Honduras.

¿Cuál es el clima de Centro-América?

Caliente ó templado, segun la elevacion del terreno.

Mencione V. las ciudades principales de Guatemala?

Guatemala la Nueva, la capital; Guatemala la Antigua, Quezaltenango, Chiquimula, Totonicapan, y Escuintla.

¿Y sus puertos?

San José, Izabal y Santo Tomás.

¿Cuáles son las ciudades principales de Honduras?

Comayagua, la capital; Tegucigalpa, Gracias y Trujillo.

¿Y sus puertos?

Trujillo y Omoa.

¿Cuáles son las ciudades mas importantes de San Salvador?

La capital de su nombre, San Miguel, Santa Ana, Zonzonate y Cojutepeque.

¿Y sus puertos?

La Libertad, La Union y Acajutla.

Nombre V. las principales ciudades de Nicaragua?

Managua, la capital; Leon, Rivas, Granada, Masaya y Chinandega.

¿Cuáles son sus puertos?

San Juan del Norte, San Juan del Sur y Corinto.

Diga V. las principales ciudades de Costa Rica?

San José, la capital, Cartago, Heredia, Alajuela y Nicoya.

Y sus puertos?

Puntarenas y Limon.

¿A quién pertenece el Territorio de los Mosquitos?

A la República de Nicaragua.

¿Qué es Baliza?

Una pequeña colonia inglesa en la parte nordeste de la América Central, siendo su capital la ciudad de Baliza.

LECCION L.

¿Cuáles son los limites de la Union Colombiana?

Por el norte el Mar Caribe; por el sur y el sudeste el Ecuador y el Brasil; por el este Venezuela; por el oeste el Océano Pacífico, y por el noroeste la República de Costa Rica.

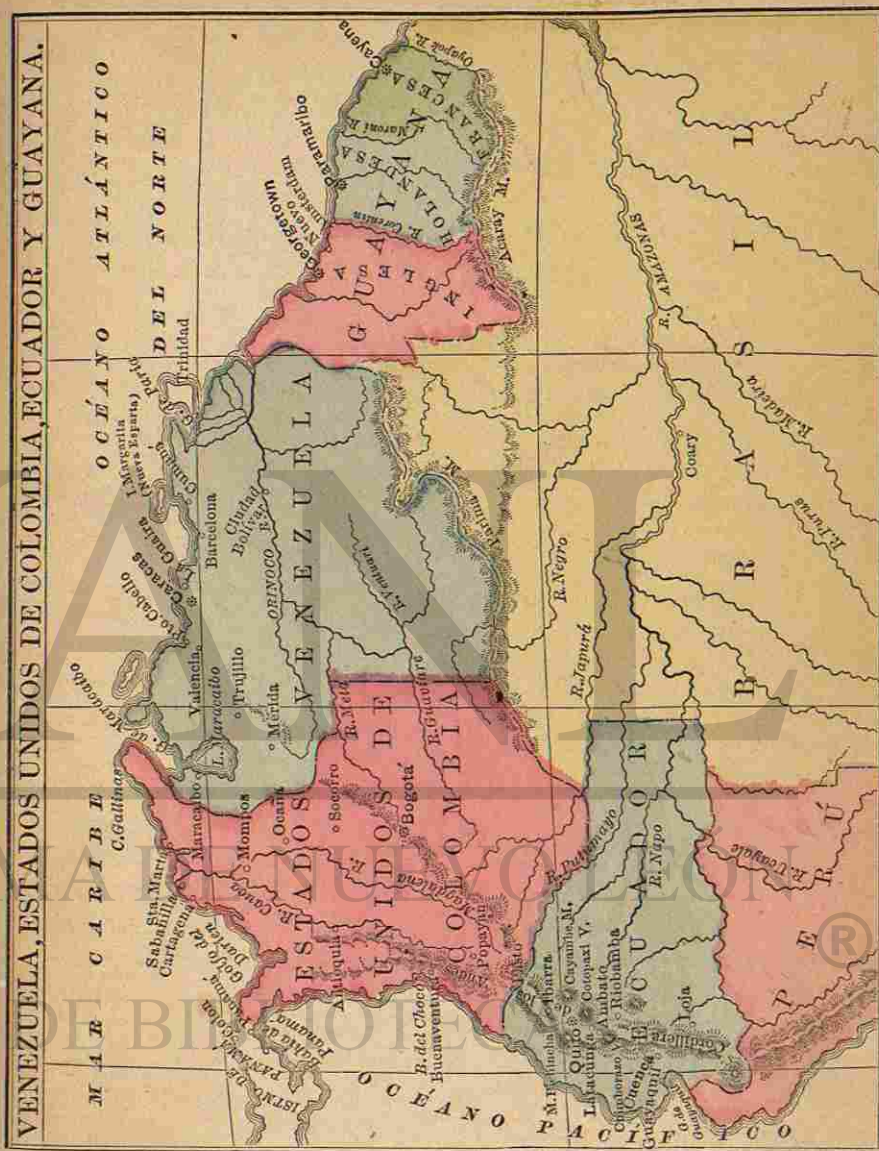
Diga V. su division territorial?

ESTADOS.	CAPITALES.	PUERTOS.
Antioquia.	Medellin.	
Bolivar.	Cartagena.	Cartagena, Sabanilla.
Boyacá.	Tunja.	
Cauca.	Popayan.	Buenaventura.
Cundinamarca.	Bogotá,	
	Capital de la república.	
Magdalena.	Santa Marta.	Santa Marta.
Panamá.	Panamá.	Panamá.
		Colon.
Santander.	Socorro.	
Tolima.	Ibagué.	

LECCION LI.

¿Qué Montañas hay en Colombia?

La Cordillera Oriental ó de Sumapaz, la Central ó de Quindío, y la Occidental.



¿Diga V. los principales Volcanes?
Los de Pasto, Puracé, Chillés,
Cumbal y Chiriquí.

¿Qué Río caudaloso riega la Unión Co-
lombiana?

El Magdalena, que desagua en
el Mar Caribe; el Atrato, que des-
emboca en el Golfo de Darien; el
Patía, en el Pacífico, y el Cauca, y
el Sogamoso, que se juntan con el
Magdalena; el Arauca, el Meta y
el Guaviare, que se echan en el
Orinoco.

¿Qué Lagos se encuentran en Colom-
bia?

Los mas importantes son el Chi-
riquí y Ciénege Grande.

¿Qué Cabo hay?

El de gallinas en la costa seten-
trional.

¿Qué Golfos?

El del Darien, y la Bahía de Pa-
namá.

LECCION LII.

Diga V. los límites de la República de
Venezuela?

Al norte, el Mar Caribe, y el
Océano Atlántico; al este Gua-
yana y el Brasil; al sur el mismo
imperio, y al oeste los Estados Uni-
dos de Colombia.

¿Cuál es la división de Venezuela?

Divídese en veinte Estados, un
Territorio y un Distrito Federal, á
saber:

Estados, etc.	Capitales.
Apure.....	San Fernando.
Barcelona.....	Barcelona.
Barquisimeto.....	Barquisimeto.
Bolívar.....	La Guaira.
Carabobo.....	Valencia.
Cojedes.....	San Carlos.
Cumaná.....	Cumaná.
Falcon ó Coro.....	Coro.
Guárico.....	Calabozo.
Guayana.....	Ciudad Bolívar.
Guzmán Blanco.....	Victoria.
Maturín.....	Maturín.
Mérida.....	Mérida.
Nueva Esparta (Margarita).....	Asunción.
Portuguesa.....	Guanare.
Táchira.....	San Cristóbal.
Trujillo.....	Trujillo.
Yaracuí.....	San Felipe.
Zamora.....	Barinas.
Zulia.....	Maracaibo.
Distrito Federal.....	Caracas.
Territorio de Amazonas.....	

¿Cuál es la capital de los Estados Unidos
de Venezuela?

Caracas, con 49,000 habitantes.

Nombre V. los principales puertos de la
república?

Maracaibo, Coro, Puerto Cabe-
llo, La Guaira, Barcelona, Cumaná,
y Ciudad Bolívar.

¿Qué Montañas hay en Venezuela?

La Cordillera de los Andes, que
alcanza su mayor altura en los ne-
vados picos de Mérida; la Sierra
Costanera y la de Parima.

¿Qué Ríos caudalosos hay?

El Orinoco, que desagua en el
Atlántico; el Apure, Guaviare,
Meta, Caroní y Cuyuní, y el Río
Negro, afluente del Amazonas.

¿Qué hermosos Lagos se encuentran en
esta República?

El de Maracaibo y el de Va-
lencia.

¿Cuáles son los Golfos de Venezuela?

El de Paria y el de Maracaibo.

LECCION LIII.

¿Cuáles son los límites de la Guayana?

Por el norte el Océano Atlán-
tico; por el este y por el sur, Bra-
sil; por el oeste, el mencionado
Imperio y Venezuela.

¿Cómo está dividida la Guayana?

En tres partes; á saber, la Gua-
yana Inglesa, la Guayana Ho-
landesa y la Guayana Francesa.

¿De dónde les vienen estos nombres?

De las tres potencias que las do-
minan.

¿Cuál es la capital de la Guayana Inglesa?

Georgetown, sobre el Demerari.

¿Cuál es la de la Guayana Holandesa?

Paramaribo, en el Surinam.

¿Y la de la Guayana Francesa?

Cayena, situada en una isla de
su nombre.

¿Cuál es el clima de Guayana?

Cálido en el interior, siendo tem-
plado el calor en las costas por las
brisas del mar.

¿Qué país hay al este de la Guayana Ho-
landesa?

La Guayana Francesa.

¿Qué país queda al oeste?

La Guayana Inglesa.

¿Tiene algunos Montes notables la Gua-
yana?

Sí señor; los nombrados Tumu-
eucuraque.

¿Cuáles son los Ríos?

El Esequibo, el Surinam, el De-
merari, el Bérbice, y el Oyapok,
que desaganan en el Atlántico.

LECCION LIV.

¿Cuáles son los límites del Ecuador?

Confina al norte con los Estados
Unidos de Colombia y el Brasil;
al este con el mismo imperio; al
sur con el Perú; y al oeste con el
Pacífico.

¿Cuál es la división de la República?

Está dividida en trece provin-
cias.

Nómbrelas V.?

Pichincha, capital Quito, que lo
es también de la República; Im-
babura, capital Ibarra; Leon, capi-
tal Latacunga; Tunguragua, capi-
tal Ambato; Chimborazo, capital
Riobamba; Azuai, capital Cuenca;

Loja, capital de su nombre; Los Rios, capital Babahoyo; Guáyas, capital Guayaquil; Manabí, capital Portoviejo; Esmeraldas, capital del mismo nombre; Oriente (ó Napo), Archidona; Galápagos (islas), capital Albemarle.

¿Qué otras poblaciones notables hay?

Entre otras hay Guaranda y Jipijapa.

¿Cuáles son los puertos principales?

Guayaquil y Esmeraldas.

¿Qué Montañas tiene el Ecuador?

La Cordillera de los Andes recorre la República de norte á sur, y entre otros enormes picos volcánicos hay el Chimborazo, de 6,530 metros de altura, el Cayambé, Cotopaxi, Sangay, Altar, Antisana é Iliniza.

Nombre V. los principales Rios?

El Marañon (ó Amazonas) riega parte de la República.

¿Hay otros?

Sí, señor: el Napo, el Putumayo, el Japurá, el Tigre y el Pastasa, en su mayor parte tributarios del Marañon.

¿Tiene algunos Lagos?

Varios, siendo los mas notables el San Pablo, el Cuicocha y el Jaguarcocha.

¿Cuál es el clima del Ecuador?

Cálido en las costas, mientras que en las regiones elevadas reina una primavera perpetua.

LECCION LV.

¿Con quién confina la República del Perú?

Por el norte con el Ecuador; por el este y el sur con el Brasil y Bolivia; y por el oeste con el Océano Pacífico.

¿Cuál es la division política del Perú?

En catorce departamentos; dos departamentos fluviales, una provincia litoral, y una constitucional.

¿Cómo se subdividen los departamentos?

En provincias.

Y estas ¿cómo se subdividen?

En distritos.

¿Cuántos departamentos hay en el norte?

Seis.

Mencione V. las provincias de Piura?

Piura, Paíta, Ayabaca, Huanca-bamba y Tumbéz.

¿Cuál es la capital de Piura?

La ciudad del mismo nombre.

¿Y las provincias de Cajamarca?

Cajamarca, Cajabamba, Celdin, Chota, Jaen, Hualgayoc y Contumazá.

PERÚ Y BOLIVIA



Loja, capital de su nombre; Los Rios, capital Babahoyo; Guáyas, capital Guayaquil; Manabí, capital Portoviejo; Esmeraldas, capital del mismo nombre; Oriente (ó Napo), Archidona; Galápagos (islas), capital Albemarle.

¿Qué otras poblaciones notables hay?

Entre otras hay Guaranda y Jipijapa.

¿Cuáles son los puertos principales?

Guayaquil y Esmeraldas.

¿Qué Montañas tiene el Ecuador?

La Cordillera de los Andes recorre la República de norte á sur, y entre otros enormes picos volcánicos hay el Chimborazo, de 6,530 metros de altura, el Cayambé, Cotopaxi, Sangay, Altar, Antisana é Iliniza.

Nombre V. los principales Rios?

El Marañon (ó Amazonas) riega parte de la República.

¿Hay otros?

Sí, señor: el Napo, el Putumayo, el Japurá, el Tigre y el Pastasa, en su mayor parte tributarios del Marañon.

¿Tiene algunos Lagos?

Varios, siendo los mas notables el San Pablo, el Cuicocha y el Jaguarcocha.

¿Cuál es el clima del Ecuador?

Cálido en las costas, mientras que en las regiones elevadas reina una primavera perpetua.

LECCION LV.

¿Con quién confina la República del Perú?

Por el norte con el Ecuador; por el este y el sur con el Brasil y Bolivia; y por el oeste con el Océano Pacífico.

¿Cuál es la division política del Perú?

En catorce departamentos; dos departamentos fluviales, una provincia litoral, y una constitucional.

¿Cómo se subdividen los departamentos?

En provincias.

Y estas ¿cómo se subdividen?

En distritos.

¿Cuántos departamentos hay en el norte?

Seis.

Mencione V. las provincias de Piura?

Piura, Paíta, Ayabaca, Huanca-bamba y Túmbez.

¿Cuál es la capital de Piura?

La ciudad del mismo nombre.

¿Y las provincias de Cajamarca?

Cajamarca, Cajabamba, Celen-din, Chota, Jaen, Hualgayoc y Contumazá.

PERÚ Y BOLIVIA



¿Capital de Cajamarca?
Cajamarca.

¿Y las provincias de Amazonas?
Chachapoyas, Luya, y Bongorá.

¿Su capital?
Chachapoyas.

¿Cuáles son las provincias del departamento fluvial de Loreto?

Moyobamba, Huallaga, Alto Amazonas y Bajo Amazonas.

¿Y la capital?
Moyobamba.

LECCION LVI.

Diga V. las provincias de Libertad?
Trujillo, Lambayeque, Chiclayo, Pacasmayo, Otuzco, Pataz y Huamachuco.

¿Capital?
Trujillo.

¿Y las provincias de Ancachs?
Huaraz, Huaylas, Santa, Huari, Cajatambo, Pomabamba y Pallasca.

¿Capital?
Huaraz.

¿Cuántos Departamentos hay en el Centro?
Seis.

¿Cuáles son las provincias de Lima?
Lima, Chancay, Canta, Huarochirí, Yauyos y Cañete.

¿Cuál es la capital de este Departamento?
Lima, capital de la República.

¿En cuántas provincias se divide la constitucional del Callao?

En una sola de su mismo nombre.

Diga V. las provincias de Junin?
Cerro de Pasco, Jauja, Tarma y Huancayo.

¿La capital de Junin?
Cerro.

¿Cuáles son las provincias de Huancavélica?
Huancavélica, Tayacaja, Angaraes y Castrovireina.

¿Su capital?
Huancavélica.

¿Qué provincias tiene el Departamento fluvial de Huánuco?
Huánuco, Huamalies, y Dos de Mayo.

¿Cuál es su capital?
Huánuco.

Diga V. las provincias de Ica?
Ica y Chincha.

¿Capital?
Ica.

¿Cuántos Departamentos hay en el Sur?
Cinco y una provincia litoral.

Diga V. las provincias de Ayacucho?
Ayacucho, Huanta, Lamar, Canchallo, Lucanas, Parinacochas y Andahuaylas.

¿Y su capital?
Ayacucho.

¿Cuáles son las provincias del Cuzco?
Cuzco, Anta, Abancay, Aymaráes, Chunvibilea, Cotabamba, Canchis, Canas, Quispicanchi, Acornayo, Paucartambo, Calca, Uru-bamba, Paruro y Convencion.

¿Cuál es su capital?
Cuzco.

¿Y las provincias de Puno?
Puno, Chucuito, Huancané, Lampa, Azángaro y Carabaya.

¿Cuál es su capital?
Puno.

LECCION LVII.

Diga V. las provincias de Arequipa?
Arequipa, Islay, Castilla, Camaná, Union, Condesuyos y Cailloma.

¿Capital?
Arequipa.

¿Qué provincias tiene Moquegua?
Tacna, Moquegua y Arica.

¿Capital?
Tacna.

¿Cuál es la capital de la provincia litoral de Tarapacá?
Iquique.

Mencione V. los puertos mayores de la República?

Callao; Paita, en Piura; San José, en Lambayeque; Pisco, en

Ica; Islay, en Arequipa; Arica, en la provincia de su nombre, é Iquique y Pisagua en Tarapacá.

¿Qué Montañas se encuentran en el Perú?
La Cordillera de los Andes recorre la República de norte á sur.

¿En cuántas cadenas se divide?
En dos: la cadena oriental y la occidental.

Diga V. los puntos mas altos de la cadena occidental?

Los de Huamachuco y Huaraz.

¿Qué Volcanes se encuentran en dichas cadenas?

Los mas notables son, el Misti en Arequipa; el Omate y el Tutupaca en Tacna.

¿Cuál es la altura del Misti?
Veinte mil piés sobre el nivel del mar.

¿Hay algun volcan en actividad?
El Ubinas hace pocos años dió señales de actividad.

¿Qué desierto hay en Piura?
El de Sechura.

¿Y en Ancachs?
El de Huarmey.

¿Y en Ica?
El de Nazca.

¿Qué otro hay?
El de Tarapacá en la provincia de su nombre.

¿Qué Lagos se encuentran en el Perú?

Titicaca entre Puno en el Perú y La Paz en Bolivia.

En la provincia de Huamalis, ¿qué lago hay?

El Lauricocha.

¿Qué otros Lagos hay en el Perú?

El Junin, cerca del Cerro de Pasco.

¿Y cuáles otros?

El Urco, al sur del Cuzco, y Choelocochoa y Orcocochoa en la provincia de Castrovireina.

Diga V. los principales Rios del Perú?

El Chira en Piura, el Eten en Lambayeque, el Santa entre Libertad y Ancachs, el Rimac que desagua en el puerto del Callao.

¿Cuáles otros?

El Ocaña y el Quilca que pasan por Arequipa.

¿Qué Rio baña la ciudad de Huánuco?

El Huánuco ó Huallaga, afluente del Amazonas.

¿Qué otros hay?

El Mantaro y Apurimac, que se juntan para formar el Tambo.

¿Cuáles otros?

El Paucartambo, tributario del Urubamba cuyo último, unidas sus aguas con las del Tambo, da origen al Ucayali, tributario del Amazonas.

¿Cuál es el clima del Perú?

El calor en la costa suele ser excesivo en el verano, mientras que en las alturas se goza de una temperatura templada.

LECCION LVIII.

¿Cuáles son los límites de Bolivia?

Confina por el norte con el Brasil; por el este con el mismo imperio y el Paraguay; por el sur con la República Argentina y Chile, y por el oeste con el Perú y el Océano Pacífico.

¿Cómo se divide la República de Bolivia?

En siete Departamentos y dos Provincias litorales.

¿Cuál es la capital de Chuquisaca?

La ciudad del mismo nombre.

¿Y la de Beni?

Trinidad.

Nombre V. los demas Departamentos?

Cochabamba, Oruro, Potosí, Santa Cruz y la Paz, con sus capitales de los mismos nombres.

Y las dos provincias litorales, ¿cuáles son?

Cobija y Tarija.

¿Cuál es la capital de Bolivia?

Sucre.

Mencione V. los principales Montes de Bolivia?

En los Andes de Bolivia se encuentran los nevados de Illimani, Soratá y Cochabamba, y el Cerro de Potosí.

¿Cuál es la cima mas elevada de estos montes?

La del Soratá con 6,400 metros.

¿Qué Rios principales hay?

El Bermejo, tributario del Paraguay, el Paspaya y el Cachimayo, que se echan en el Pilcomayo, el Mapiri, el Beni, el Mamoré y Guaporé.

¿Qué Lago grande hay en Bolivia?

Titicaca al oeste de la República.

Nombre V. dos Volcanes de Bolivia?

El de Tacora y el de Gualatieri.

¿Cuál es su clima?

El calor en la costa y en el inhabitable desierto de Atacama es excesivo; en los valles de las Cordilleras reina una primavera perpetua.

LECCION LIX.

¿Cuáles son los confines de Chile?

Confina por el norte con Bolivia; por el este con la República Argentina y una parte de la Pata-

gonia; por el sur con este último país; y por el oeste con el Océano Pacífico.

¿Cómo se divide su territorio?

Tiene 16 provincias y una colonia.

Nómbrelas V.?

PROVINCIAS.	CAPITALES.	PUERTOS.
Aconcagua.	San Felipe.	
Arauco.	Ángeles.	
Atacama.	Copiapó.	Caldera.
Chiloé.	Ancud.	Ancud.
Colchagua.	San Fernando.	
Concepcion.	Concepcion.	Talcahuano.
Coquimbo.	La Serena.	Coquimbo.
Curicó.	Curicó.	
Linares.	Linares.	
Llanquihue.	Puerto-Montt.	Puerto-Montt.
Maule.	Cauquenes.	Constitucion.
Nuble.	Chillan.	
Santiago.	Santiago (Capital de la república).	
Talca.	Talca.	
Valdivia.	Valdivia.	Corral.
Valparaíso.	Valparaíso.	Valparaíso.
Magallanes (Colonias de).	Punta-Arenas.	Punta-Arenas.

¿Qué Montañas hay en esta República?

La atraviesan los Andes de Chile.

¿Cuál es la cima mas elevada de esta cadena?

El volcan Aconcagua.

¿Qué otros Volcanes hay?

Los principales son: Chillan, Antuco, Villarica, Copiapó, Peltorca, Limari, Tucapol, y Osorno.

¿Qué Rios tiene Chile?

El Copiapó, el Huasco, el Coquimbo, el Limarí y el Aconcagua; el Maule, el Maipo, el Mataquito, el Ita, el Chillan, y por último el Ñuble, el Biobio, el Cauten, y el Valdivia.

¿Cuál es el principal Lago de Chile?

El Lauquen.

¿Cuál es su clima?

Aunque cálido y frío en sus respectivas estaciones, es en general muy sano.

¿Quién habita la parte sur de la República?

Los Araucanos, pueblo indómito y guerrero, famoso por haber conservado siempre su independencia.

LECCION LX.

¿Qué es Patagonia?

Se da este nombre á un país estéril que ocupa la extremidad meridional de la América del Sur.

Diga V. sus límites?


Por el norte la República Argentina; por el este el Océano Atlántico; por el sur el Océano Antártico; por el oeste el Océano Pacífico y la República de Chile.

¿Qué Cabo hay al este de Patagonia?

El Cabo Blanco.

Diga V. el puerto que se encuentra al sur del Cabo Blanco?

Puerto Deseado.



Indios Patagones.

¿Qué otro puerto hay al sur de Puerto Deseado?

El de San Julian.

¿Qué Golfos hay al este de Patagonia?

Los de San Matías, Nuevo y de San Jorge.

¿Qué Rio hay al norte?

El Rio Negro, que separa la República Argentina de Patagonia.

¿Hay otro Rio importante?

Sí, señor, el de Santa Cruz.



Ciudad de Buenos Ayres.

¿Qué gran Isla hay al sur de Patagonia?

Tierra del Fuego.

¿Qué Estrecho la separa del Continente?

El de Magallanes.

¿Cuáles son los habitantes de la Patagonia?

Los Patagones ó Tehuelches, afamados por su agilidad en tirar las bolas.

¿Cuál es el nombre del Cabo que se halla al sur de la Tierra del Fuego?

El Cabo de Hornos.

LECCION LXI.

¿Cuáles son los límites de la República Argentina?

Al norte Bolivia; al este el Paraguay, el Brasil, el Uruguay y el

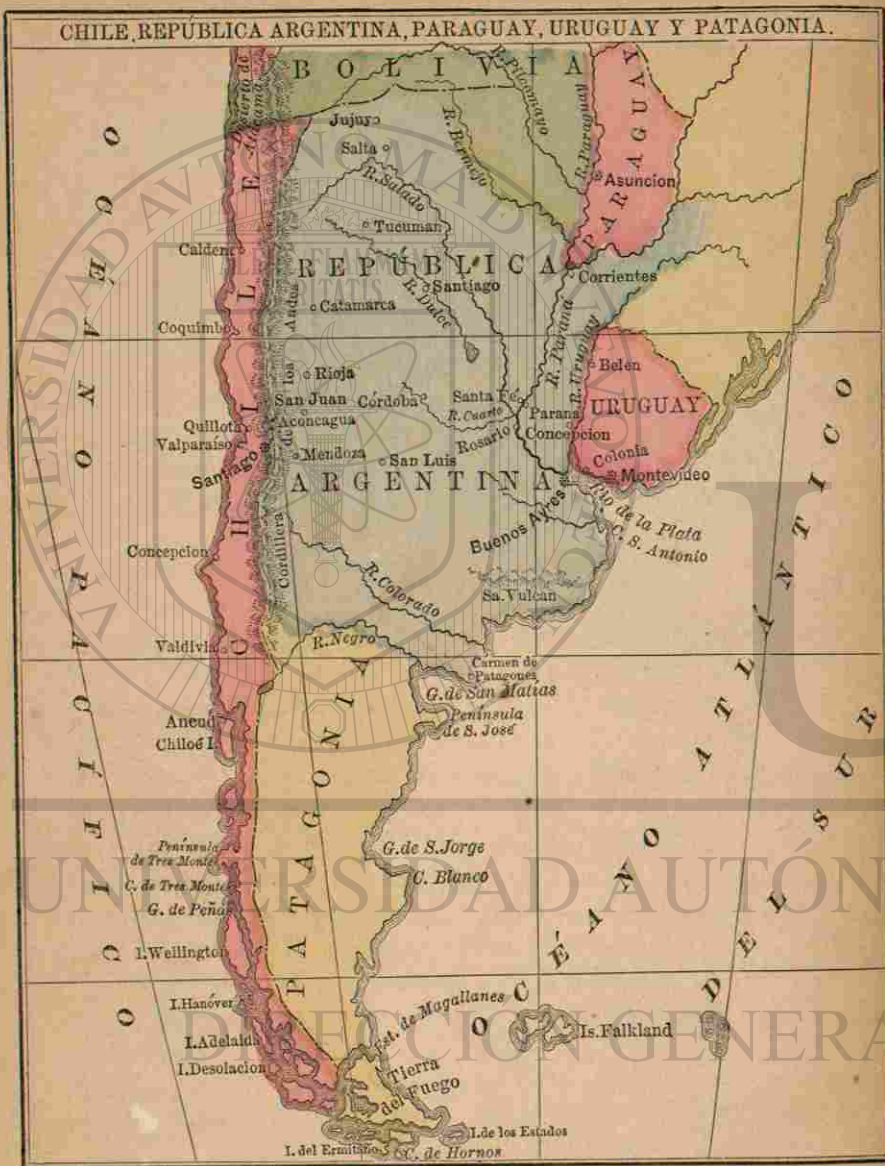
Océano Atlántico; al sur Patagonia, y al oeste la República de Chile.

¿Cómo se divide su territorio?

En catorce provincias.

¿Cuáles son?

Buenos Ayres, capital del mismo nombre, que lo es también de la República; Santa Fé, capital Santa Fé, puerto sobre el Paraná; Entre-Rios, capital Concepcion del Uruguay; Corrientes, La Rioja, Catamarca, San Juan, Mendoza, Córdoba, San Luis, Santiago del Estero, Tucuman, Salta, Jujuy, cuyas capitales tienen los mismos nombres que sus provincias respectivas.



LECCION LXII.

¿Qué vasta region hay al nordeste de la República?

El territorio del Gran Chaco.

¿Quién ocupa este territorio?

Está habitado por Indios.

¿Qué Montañas se encuentran en esta República?

Los Andes, que la separan de Chile.

¿Qué otras?

Los Montes Pulares, Tapatamba, del Oro, Piedra Iman, Salta y Córdoba.

¿Hay algunos Volcanes?

Ninguno en actividad; pero sí señales de algunos extinguidos.

Nombre V. los principales Rios?

El de la Plata, el Paraná, el Salado, el Bermejo, el Pilcomayo, el Uruguay, y el Paraguay, el Colorado y el Negro.

¿Se encuentra algun Lago?

Sí, señor, el Guanacache y algun otro de poca importancia.

¿Qué son las Pampas?

Son unas inmensas llanuras que empiezan en la parte meridional de la República, y se extienden hácia la extremidad austral del Continente.

¿Cuál es el clima de la República Argentina?

Es cálido hácia el norte, templado en el sur, y en general muy sano.

Diga V. los limites de la República Oriental del Uruguay?

Por el norte el Brasil; por el este y el sur el Océano Atlántico y el Rio de la Plata; por el oeste el Rio Uruguay, que la separa de la República Argentina.

¿Cómo se divide su territorio?

En nueve Departamentos, á saber: Montevideo, Maldonado, Canelones, San José, Colonia, Soriano, Paisandú, Durazno, y Cerro Largo.



Indios Guaranis.

¿Cuál es la capital de la República?

La ciudad de Montevideo, sobre el Rio de la Plata.

¿ Hay alguna otra ciudad importante ?
Hay Colonia del Sacramento y Florida.

¿ Qué Montañas hay en Uruguay ?
La Cuchilla Grande de los Tapes cubre la República al este y la limita en parte.

Nombre V. los Ríos ?
El Uruguay, con sus afluentes el Ibicuy y el Negro.

¿ Qué clima tiene Uruguay ?
Tiene una extremada variedad de climas, que contribuyen á la feracidad de su suelo.

LECCION LXIII.

¿ Con quién confina la República del Paraguay ?

Linda al norte y al este con el Brasil; al sur y sudeste con la República Argentina, y al oeste con la misma República y Bolivia.

¿ Cómo se divide su territorio ?
En veinte Departamentos.

¿Cuál es la capital ?
Asuncion, sobre la orilla izquierda del Paraguay.

¿ Qué otras ciudades notables tiene ?
Villarica.

¿ Porqué es notable esta ciudad ?
Por la gran cosecha de la yerba mate que se coge en sus alrededores.

¿ Qué Montañas tiene ?
El terreno es montuoso hácia el norte y en el centro.

¿ Y sus Ríos ?
El Paraguay y el Paraná, que forman sus límites oriental y occidental.

¿ Qué clima tiene ?
Su clima es suave y saludable.

LECCION LXIV.

¿ Qué es el Brasil ?
El único imperio que hay en el hemisferio occidental.

¿ En cuántas provincias se divide su territorio ?

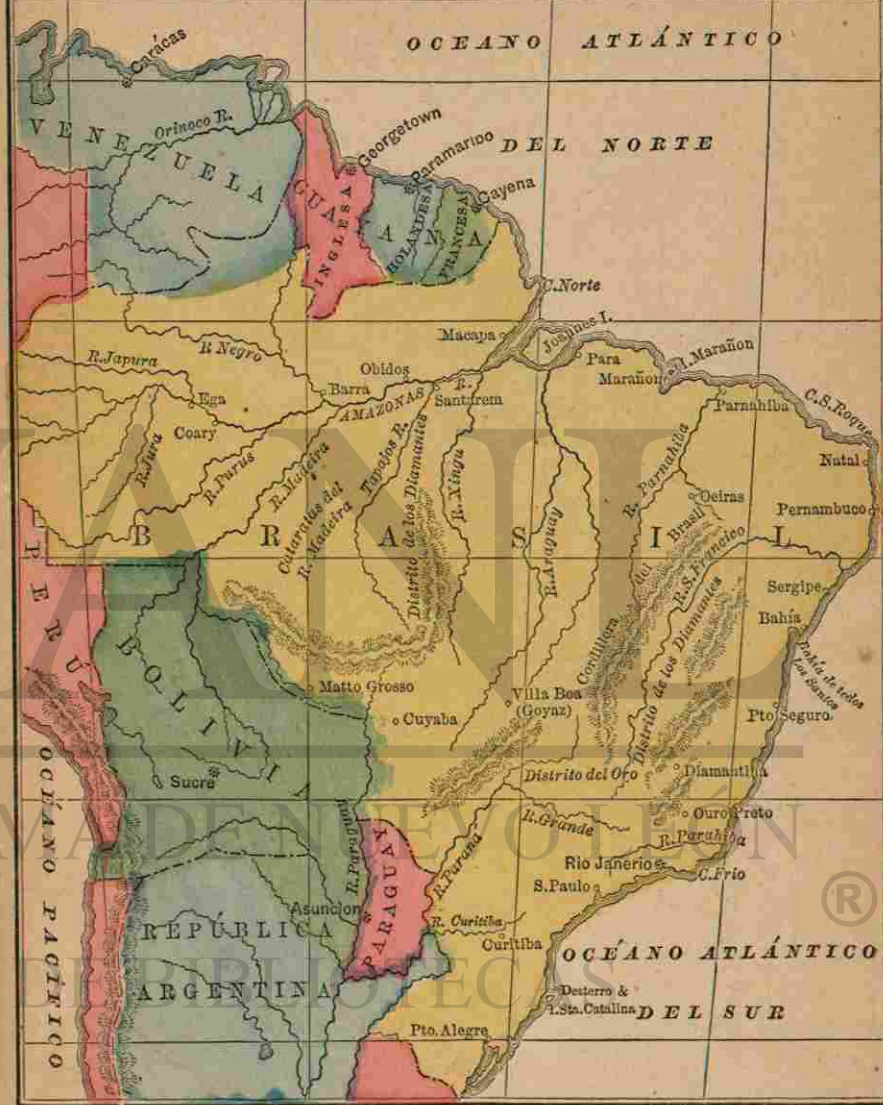
En veinte provincias, que son : Amazonas, Pará, Maraion, Piahy, Ceará, Rio Grande del Norte, Parahiba, Pernambuco, Alagoas, Sergipe, Bahía, Espiritu Santo, Rio de Janeiro, San Pablo, Paraná, Santa Catalina, San Pedro, Minas Geraes, Goyaz, Matto Grosso.

¿ Cuáles son sus ciudades más importantes ?

Rio de Janeiro, capital del imperio, Bahía, Pará, Pernambuco, San Pablo y Villarica.

¿ Qué Montañas tiene ?
La Cordillera del Norte, la Sierra del Mar, la del Espinazo y la de las Vertientes.

BRASIL



¿Cuáles son los principales Ríos?

El Amazonas, el río mas caudaloso del mundo, el Purus, el Madeira, el Jingu, el Negro y el Jurúa, tributarios todos del Amazonas; el Tocantins, el Araguaya, el Parnahiba, el Francisco, el Parnahiba y el Paraná.



Un boa ahogando un venado.

¿Qué Lagos se encuentran en el Brasil?

El principal es el de los Patos, en San Pedro.

¿Cuál es su clima?

Cálido en las costas, húmedo en el interior y bastante sano en general.

LECCION LXV.

¿Qué son las Antillas?

Un gran archipiélago que se extiende entre la América del Norte y la América del Sur, aproximándose á las costas de la Florida y de Venezuela.

¿Qué Océano las baña por el norte y el este?

El Atlántico.

¿Y por el sur?

El Mar Caribe, que tambien se llama Mar de las Antillas.

¿Y por el oeste?

El Golfo de Méjico.

¿Cómo se clasifican?

En tres divisiones principales, que son: las Islas Lucayas, ó archipiélago de Bahama, al norte; las Grandes Antillas en el centro; y las Antillas Menores al sur.

¿Cuál es la capital de las Lucayas?

Nasau, en la Isla de Providencia.

¿Cuál es la isla mayor de las Antillas?

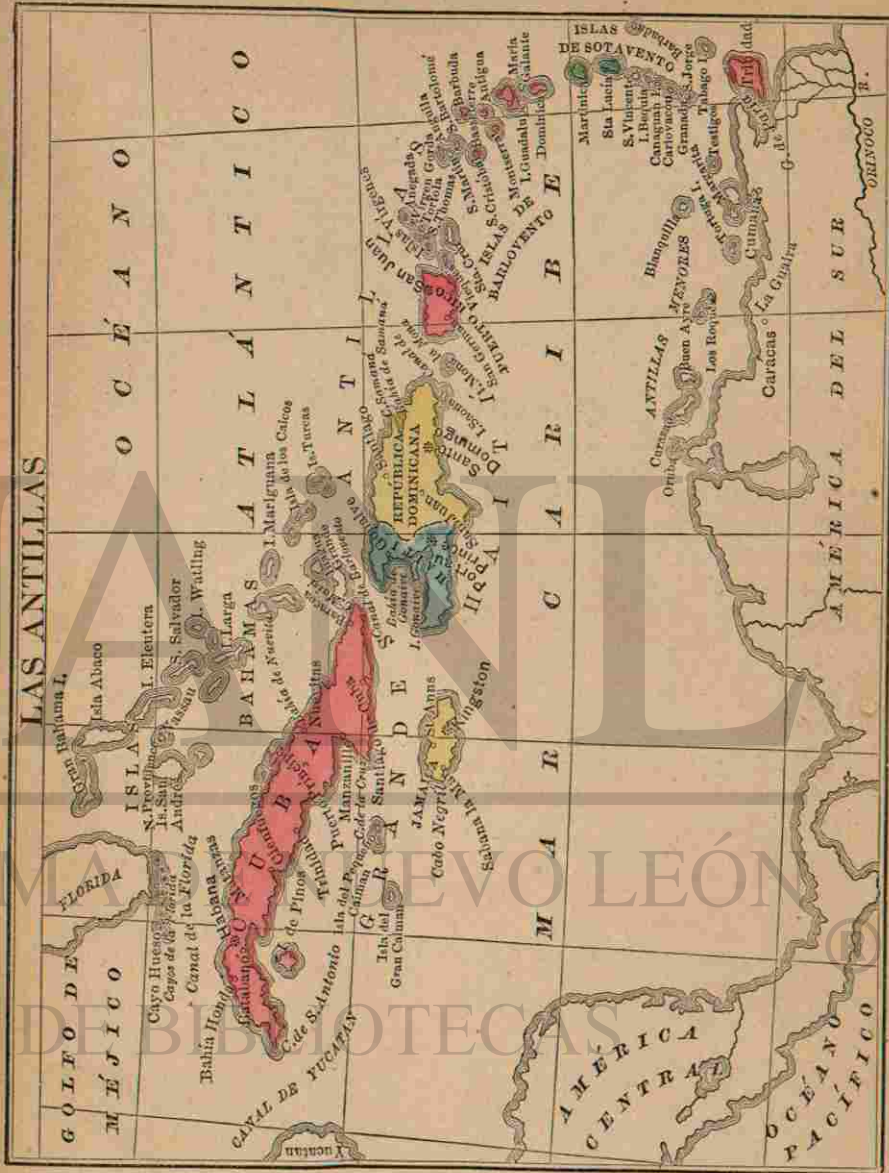
Cuba.

¿A qué division pertenece?

A la de las Grandes Antillas.

¿Qué otras islas forman esta division?

Haití, ó Santo Domingo, Jamaica y Puerto Rico.



¿Cuál es la capital de Cuba?

El importante puerto de la Habana.

¿Qué otras ciudades notables tiene?

Matanzas y Santiago de Cuba, y además Cienfuegos, Trinidad y Cárdenas.

¿Dónde queda la Isla de Pinos?

Cerca de la costa meridional de Cuba.

¿Cómo se divide el territorio de Haití?

En dos Repúblicas independientes: la del mismo Haití y la Dominicana.

¿Cuál es la capital de Haití?

Puerto Príncipe (ó Port-au-Prince).

¿Y la de la República Dominicana?

La ciudad de Santo Domingo.

Diga V. la capital de Puerto Rico?

San Juan.

¿Tiene otras ciudades de importancia?

Tiene á Mayagüez, Ponce, Aguadilla, Arecibo, Arroyo y Guayama.

¿Qué es Spanish-Town?

La capital de Jamaica.

¿Cuál es la ciudad y puerto principal de esta isla?

Kingston.

¿A quién pertenecen las Lucayas y las Grandes Antillas?

Las primeras y la Isla de Jamaica á Inglaterra; Cuba y Puerto

Rico á España; formando Repúblicas independientes Haití.

De las Antillas Menores, ¿cuáles pertenecen á Inglaterra?

Trinidad, capital Puerto España; Barbada, Anguila, Barbuda, San Cristóbal ó Saint Kitts, Nevis, Antigua, Monserrate, Dominica, Santa Lucía, San Vicente, Granada y Tabago.

¿Y cuáles á Dinamarca?

Santómas, San Juan y Santa Cruz.

¿A quién pertenece San Bartolomé?

A Suecia.

Y las Antillas Francesas, ¿cuáles son?

San Martin, Guadalupe, la Desseada, Marigalante, los Santos y Martinica.

Nombre V. las que pertenecen á Holanda?

La parte sur de San Martin, Saba, San Eustaquio, Buen Ayre y Curazao.

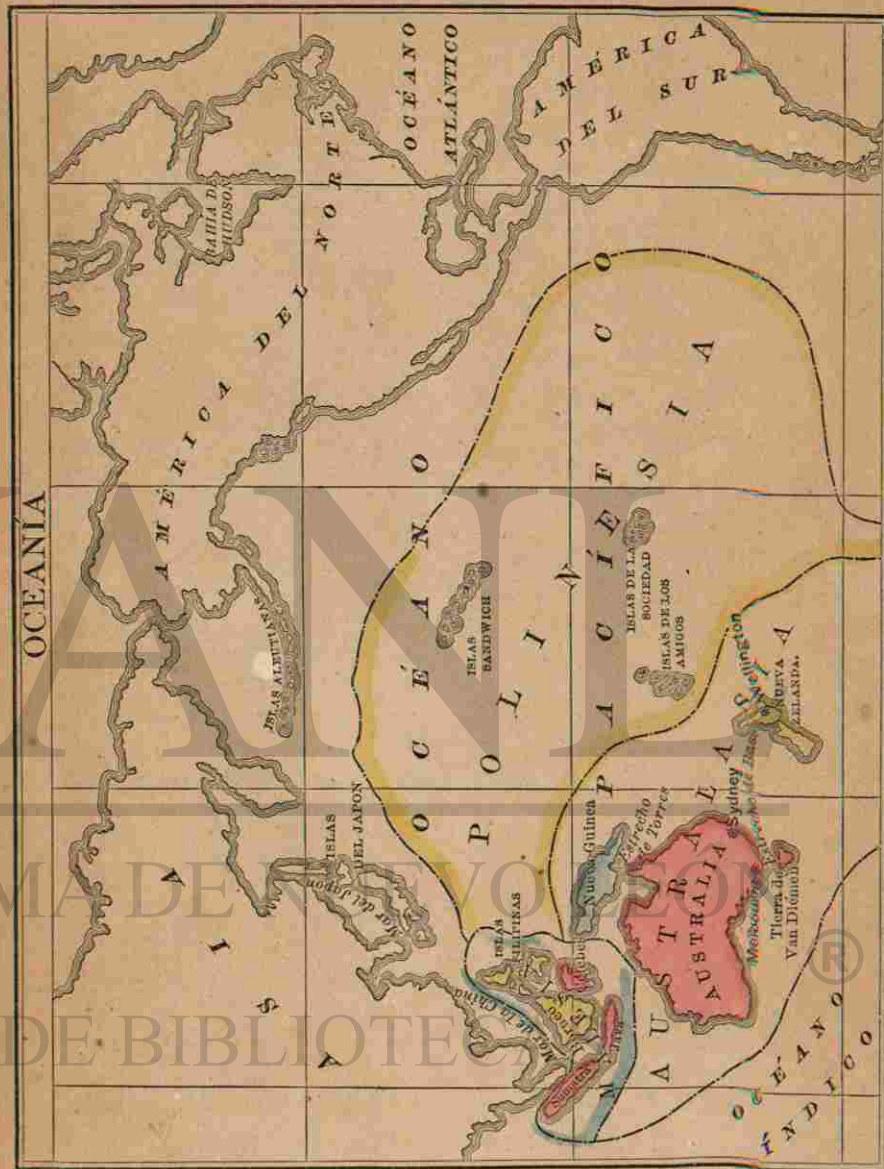
¿Cuál es el clima general de las Antillas?

Cálido, si bien templado por las brisas del mar.

LECCION LXVI.

¿Qué comprende la Océanía?

El Continente de Australia, y casi todas las islas del Océano Pacífico.



¿Cómo está dividida?

La Oceanía se divide en tres partes, llamadas Polinesia, Australasia y Malesia.

Nombre V. los grupos de islas más importantes de Polinesia?

Las Islas Sandwich, de la Sociedad y la de los Amigos.

¿Qué continente hay en Australasia?

¿Cómo se llama Australia algunas veces?

Una Isla.

Mencione V. las Islas de Australasia?

Nueva Guinea, Nueva Zelanda y la Isla de Van Diémen.

¿Y las de la Malesia?

Las Islas Filipinas, Célebes, Java, Sumatra y Borneo.

¿Cuáles son las capitales de la Australia?

Sydney y Melbourne.

Es
propiedad de
Julio Rothiot

UNIVERSIDAD AUTÓNOMA DE NUEVO LEÓN

DIRECCIÓN GENERAL DE BIBLIOTECAS



UANL

UNIVERSIDAD AUTÓNOMA DE NUEVO LEÓN

DIRECCIÓN GENERAL DE BIBLIOTECAS

OBRAS RECIENTE-PUBLICADAS,

Y adoptadas como textos en las escuelas de varios países hispano-americanos.

Epítome de Analogía y Sintáxis, según la Gramática Castellana nuevamente publicada por La Real Academia Española, y dispuesto por la misma para la primera enseñanza elemental. Encartonado.

Compendio de la Gramática de la Lengua Castellana, dispuesto por La Academia Española para la segunda enseñanza. Encartonado.

Dibujo por Krüsi. Nuevo Sistema de Dibujo. Consta de cuatro partes: Sintética, Analítica, y de Perspectiva. Parte Sintética destinada al uso de los niños que concurren á las escuelas primarias. Cuatro números.

Dibujo por Krüsi. Manual del Maestro.

Dibujo por Krüsi. Parte Analítica. Seis números.

Dibujo por Krüsi. Manual del Maestro.

Catecismo y Exposicion Breve de la Doctrina Cristiana, compuesto por el P. M. Gerónimo de la Cruz, para la enseñanza pública. 96 páginas. Rústica.

Conocimiento de las Tablas de Sumar, Restar, Multiplicar y Dividir, para uso de las escuelas. Rústica.

Cartilla y Doctrina Cristiana. Rústica.

Pequeña Historia Sagrada. Por Belze. Un tomo encartonado, unas 150 páginas, en 12°, con láminas intercaladas en el texto. Encartonada.

Nociones de Física. Por Balfour Stewart. Un tomito de unas 140 páginas, percalina. Láminas.

EN PRENSA.

Nociones de Química. Por el Profesor Roscoe. Un tomito de mas de 100 páginas, percalina. Láminas.

Nociones de Fisiología. Por el Dr. Foster. Un tomito de unas 135 páginas, percalina. Láminas.

Nociones de Geografía Física. Por el Dr. G. H. G. U. Un tomito de unas 100 páginas, percalina. Láminas.

Astrología Compendiada, por el profesor Norman Lockyer, F. R. A. S. Un tomito de 120 páginas, percalina.

Historia Universal, en tres partes: Historia Antigua; Historia de la Edad Media; Historia Moderna. Por Belze. Un tomo encartonado, de unas ... páginas, en 12°, láminas intercaladas en el texto.

Las mismas por separado, en un tomo encartonado de mas de ... páginas.

Smith. Primer Libro de Geografía. Nueva edicion enteramente refundida, con nuevos grabados, y puesta al nivel de los actuales conocimientos geográficos.