



Modo de coger el Ganado en la América del Sur.

### LECCION XXIII.

¿Qué Isla hay al sur de Patagonia?  
La Tierra del Fuego.

¿Qué Istmo une la América del Norte y la América del Sur?

¿Qué Cabo hay en la extremidad sur de la América del Sur?

El Cabo de Hornos.

¿Qué Montañas hay en la parte oriental del Brasil?

Los Montes del Brasil.

¿Qué Montañas hay en la parte occidental de la América del Sur?

La Cordillera de los Andes.

¿Qué Océano hay al este de la América del Sur?

¿Qué Océano baña la América del Sur por el oeste?

¿Qué Mar hay al norte de la América del Sur?

El Mar Caribe.

¿Qué Estrecho hay entre Patagonia y la Tierra del Fuego?

El Estrecho de Magallanes.

¿Qué gran Río nace en el Perú?

El Amazonas.

¿En qué dirección corre el Río Amazonas?

De oeste á este.

¿En qué Océano desemboca?  
En el Océano Atlántico.

¿Qué gran Río nace en Bolivia?

¿En qué otro Río desemboca?

En el Río Amazonas.

¿Qué Río en el Brasil está al este del Río Madera?

El Río Tocantins.

¿En qué dirección corre?

De sur á norte.

¿Qué Río nace en los montes del Brasil?

El Río Paraná.

¿Qué nombre toma su parte baja?

Río de la Plata.

¿Entre qué países corre el Río Paraná?

Entre el Paraguay y la República Argentina.



Animales de ambas Américas.

¿Sobre qué Río está Buenos Ayres?  
A orillas del Río de la Plata.

¿Qué países recorre la Cordillera de los Andes?

Venezuela, E. U. de Colombia, Ecuador, Perú, Bolivia, República Argentina, Chile y Patagonia.

### LECCION XXIV.

¿Cuál es el más largo de los Ríos de la América del Sur?

El Río Amazonas.

¿Cuál es la ciudad más populosa de la América del Sur?

Río Janeiro.

¿De qué país es capital Río Janeiro?

¿Qué ciudad populosa hay después de Río Janeiro?

Buenos Ayres.

¿De qué país es capital Buenos Ayres?

De la República Argentina.

¿Qué es la América del Sur?

La América del Sur es una de las grandes divisiones del Continente Occidental.

¿Cuáles son las producciones más importantes de la América del Sur?

Caña de azúcar, café, cacao, naranjas, piñas, índigo, palo de rosa, caucho, drogas, trigo y maíz.

¿Cuál es el clima del centro y norte de la América del Sur?

Muy cálido.





¿Qué clima es el de Patagonia?  
Es un clima muy frío.

¿Qué país de la América del Sur es célebre por sus ricas minas de oro y diamantes?  
El Brasil.

¿Y cuál por sus minas de oro y plata?  
El Perú.

¿Qué se entiende por ciudad?  
Es una gran aglomeración de casas y habitantes.

¿Qué es la capital de un Estado ó Nación?  
Es la ciudad donde se hacen las leyes.

*Nota.*—Viendo el mapa se notará en los Estados Unidos una marca así \* cerca del nombre Washington. Del mismo modo se marcarán las demás capitales en este mapa.

**LECCION XXV.**

¿Cuáles son los límites de la América del Norte?  
La América del Norte tiene al norte el Océano Artico, al este el Atlántico, al sur el Istmo de Panamá, y al oeste el Océano Pacífico.

¿Cuáles son los países de la América del Norte?  
Alaska, la América Inglesa, los Estados Unidos, Méjico y la América Central.

¿En qué parte de la América del Norte está Alaska?  
Al noroeste.

¿A qué nación pertenece?  
A los Estados Unidos.

¿Dónde está la América Inglesa?  
Al norte.

¿En qué parte están los Estados Unidos?  
En el centro.

¿Qué partes ocupan Méjico y la América Central?  
La parte sur.

¿Cuál es la capital de la América Inglesa?  
Ottawa.

¿Y la capital de los Estados Unidos?  
Washington.

¿Qué ciudad es capital de Méjico?  
Méjico.

**LECCION XXVI.**

¿Qué Isla hay al nordeste de la América Inglesa?  
¿Qué Isla hay al este de la América Inglesa?


¿Qué Islas se hallan al sudeste de los Estados Unidos?  
Las Antillas ó Indias Occidentales.

¿Qué Isla hay al oeste de la América Inglesa?  
La Isla de Vancouver.

¿Qué Península pertenece á Méjico?  
La Península de California.

¿Qué Istmo une la América del Norte y la del Sur?  
¿Qué Cabo hay al este de los Estados Unidos?  
El Cabo Hatteras.





El Capitolio de Washington.

¿Qué Cabo hay en la costa occidental de los Estados Unidos?

El Cabo Mendocino.

¿Qué Cabo hay al sur de Groenlandia?

El Cabo Farewell.

¿Qué Montañas hay en la parte oriental de los Estados Unidos?

¿Qué Montañas hay en la parte oeste de los Estados Unidos?

#### LECCION XXVII.

¿Qué Océanos bañan las costas de la América del Norte?

El Océano Artico, el Atlántico y el Pacífico.

¿Cuál está al norte de la América del Norte?

¿Cuál al este?

¿Cuál al oeste?

¿Qué Mar hay al este de la América Central?

El Mar Caribe.

¿Qué Bahía hay al oeste de Groenlandia?

La Bahía de Baffin.

¿Qué Bahía hay en la América Inglesa?

La Bahía de Hudson.

¿Qué Golfo hay al este de la América Inglesa?

El Golfo de San Lorenzo.

¿Qué Golfo se halla al sur de los Estados Unidos?

El Golfo de Méjico.

¿Qué Golfo está al este de la Península de California?

El Golfo de California.

¿Qué Estrecho hay al oeste de Groenlandia?

El Estrecho de Davis.

¿Qué Estrecho hay al norte de la América Inglesa?

El Estrecho de Hudson.

¿Qué dos Lagos hay en la parte norte de la América Inglesa?

El Gran Esclavo y el Gran Oso.

¿Qué Lago hay en la América Inglesa, al sudoeste de la Bahía de Hudson?

El Lago Winnipeg.

¿Qué Lagos hay entre la América Inglesa y los Estados Unidos?

Los Lagos Superior, Huron, Erie y Ontario.

#### LECCION XXVIII.

¿Qué Río hay en la parte norte de la América Inglesa?

El Río Mackenzie.

¿En qué Lago nace?

En el Lago Gran Esclavo.

¿En qué Océano desagua?

En el Océano Artico.

¿Qué Río nace en el Lago Winnipeg?

¿Dónde desemboca el Río Nelson?

En la Bahía de Hudson.

¿En qué Lago nace el Río San Lorenzo?

En el Lago Ontario.

¿En qué Golfo desemboca?

¿Cuáles son los dos grandes Ríos que desembocan en el Golfo de Méjico?

El Misisipí y el Río Grande.

¿Qué Río desemboca en el Misisipí por el este?

El Río Ohio.

¿Cómo se llama un Río que se une con otro Río?

Afluente.

¿Cuáles son los tres Ríos que desaguan en el Misisipí por el oeste?

El Misuri, el Arkansas y el Rojo.

#### LECCION XXIX.

¿Qué Río hay entre los Estados Unidos y Méjico?

El Río Grande.

¿Qué Río desemboca en el Golfo de California?

¿Qué Río de los Estados Unidos desemboca en el Océano Pacífico?

El Río Columbia.

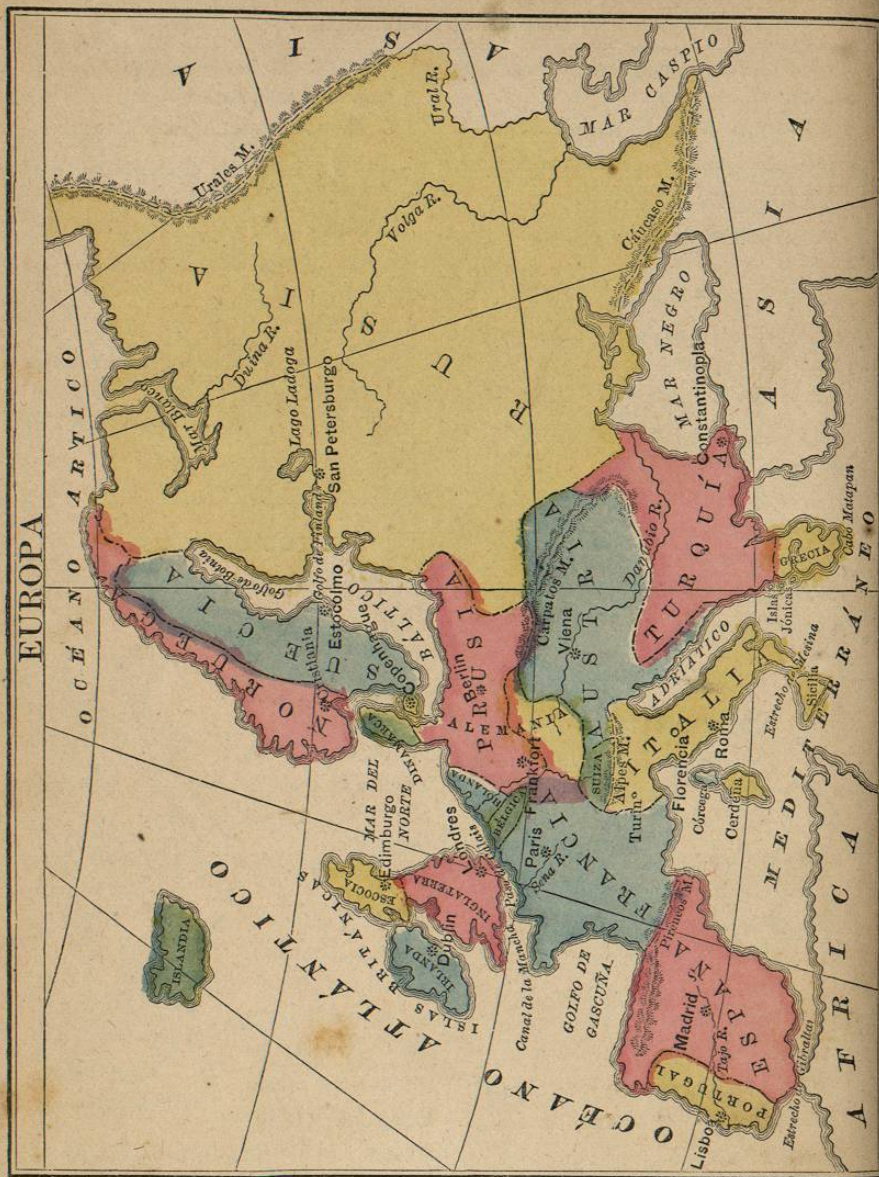
¿Qué es la América del Norte?

La América del Norte es una de las Grandes Divisiones del Continente Occidental.



Indio Norte Americano.





¿Qué pueblo habita la parte norte de la América del Norte?

Está habitada principalmente por Indios y Esquimales.

¿Cómo viven esos pueblos?

Viven de la caza y la pesca.

¿Qué clima es el de la parte norte de la América del Norte?

Muy frio.

¿En qué partes de la América del Norte es el clima muy caliente durante todo el año?

En Méjico y en la América Central.

¿Qué dos países hay al este de Austria?

¿Dónde se halla Italia?

Italia está situada en la parte sur de Europa.

¿Qué Mar hay al este de Italia?

¿Dónde está Francia?

Francia está situada en la parte occidental de Europa.

¿Dónde está España?

España está situada al sudoeste de Europa.

¿Qué país hay al oeste de España?

¿Qué país hay al este de Portugal?

**LECCION XXX.**

¿Cuáles son los límites de Europa?

Europa tiene al norte, el Océano Artico; al este, el Asia y el Mar Caspio; al sur, el Mar Negro y el Mediterráneo; y al oeste, el Océano Atlántico.

¿Cuáles son los tres países al norte de Europa?

Noruega, Suecia y Rusia.

¿Dónde está Turquía?

La Turquía está en la parte sur de Europa.

¿Qué Mar hay al este de Turquía?

¿Qué país está al sur de Turquía?

Grecia.

¿Dónde está situada Austria?

Austria está en el centro de Europa.

**LECCION XXXI.**

¿Dónde está Bélgica?

Al norte de Francia.

¿Qué país la limita por el sur?

¿Qué país la limita por el norte?

Holanda.

¿Qué Mar hay al norte de Holanda?

¿Qué país hay al sur de Dinamarca?

Prusia.

¿Qué país hay al este de Prusia?

¿Qué Mar está al este de Suecia?

¿Qué Mar hay al oeste de Dinamarca?


¿Dónde está Prusia?

Prusia está situada en el centro de Europa al norte de Austria.

¿Dónde está Suiza?

Suiza se halla situada en el centro de Europa, entre Francia y Austria.





La Bolsa Real de Londres.

¿ Dónde está situado Portugal ?  
Portugal está situado en la parte sudoeste de Europa.

¿ Qué países forman las Islas Británicas ?  
Escocia, Inglaterra é Irlanda.

¿Cuál de ellas está mas al norte ?  
¿Cuál es la capital de Suecia y de Noruega ?  
Estocolmo lo es de Suecia, y Cristiania lo es de Noruega.

¿Cuál es la capital de Rusia ?  
San Petersburgo.

¿ En qué parte de Rusia se halla ?

**LECCION XXXII.**

¿Cuál es la capital de Turquía ?  
Constantinopla.

¿ Dónde está situada Constantinopla ?  
¿Cuál es la capital de Austria ?  
Viena.

¿ A orillas de qué Rio está Viena ?  
¿ Qué país hay al sur de Suiza ?  
Italia.

¿Cuál es la capital de Italia, y donde está situada ?  
Roma, sobre el Tíber.

¿ En qué parte de Italia está Roma ?  
En la parte occidental.

¿ Qué Mar hay al sur de Francia ?  
¿Cuál es la capital de Francia ?  
Paris.

¿ Sobre qué Rio está Paris ?  
¿Cuál es la capital de España ?  
Madrid.

¿ Sobre qué Rio está Madrid ?  
¿Cuál es la capital de Portugal ?  
Lisboa.

¿ A orillas de qué Rio está Lisboa ?  
¿ De qué país es capital Lisboa ?  
¿ De qué país es capital Paris ?

¿Cuál es la capital de Irlanda ?  
Dublin.

¿ Qué tres Islas grandes hay en el Mediterraneo ?  
Sicilia, Córcega y Cerdeña.

¿ Cuáles están al oeste de Italia ?  
¿ Qué Isla hay al oeste de Noruega ?  
Islandia.

¿ En qué Océano está Islandia ?  
¿ Qué Penínsulas hay en Europa ?  
Noruega y Suecia, Grecia, Italia, España y Portugal, y Dinamarca.

**LECCION XXXIV.**

¿ Qué Mar baña las costas de Dinamarca ?  
¿Cuál es la capital de Dinamarca ?  
Copenhague.

¿ Dónde está situada ?  
En una Isla de Dinamarca.

¿ Qué país hay al sur de Dinamarca ?  
¿ Qué país está situado al este de Prusia ?  
¿Cuál es la capital de Prusia ?  
Berlin, que lo es tambien del imperio alemán.

¿ Dónde está situado Frankfort ?  
Frankfort está en la parte sudoeste del imperio alemán.

¿ Nombre V. los países de las Islas Británicas ?  
¿Cuál es la capital de Escocia ?  
Edimburgo.

¿Cuál es la capital de Inglaterra ?  
Londres.

¿ Qué Cabo hay al sur de Grecia ?  
El Cabo Matapan.

¿ Qué Montañas hay entre Europa y Asia ?  
Los Montes Urales y el Cáucaso.

¿ Dónde están los Pirineos ?  
Entre Francia y España.

¿ Qué Montañas hay en el centro de Europa ?  
Los Alpes y los Montes Carpáticos, ó Cárpatos.

¿ En qué país están los Montes Cárpatos ?  
¿ En qué países están los Alpes ?  
Los Alpes están principalmente en Suiza y en la parte norte de Italia.

¿ Qué Océano hay al norte de Europa ?  
¿ Qué Océano hay al oeste de Europa ?  
¿ Qué Mar está al norte de Rusia ?  
El Mar Blanco.





¿Qué Mar se encuentra al sudeste de Rusia?

El Mar Caspio.

¿Qué Mar hay al sur de Rusia?

El Mar Negro.

¿Dónde está el Mar Mediterráneo?

El Mediterráneo está al sur de Europa.

¿Qué Mar hay entre Italia y Austria?

El Mar Adriático.

¿Dónde se encuentra el Mar del Norte?

El Mar del Norte está al este de Escocia é Inglaterra.

¿Dónde está el Mar Báltico?

El Mar Báltico está al norte de Prusia, entre Suecia y Rusia.

¿Dónde se halla, con respecto á Rusia?

### LECCION XXXV.

¿Dónde está la Bahía de Vizcaya, ó Golfo de Gascuña?

La Bahía de Vizcaya está al oeste de Francia.

¿Qué dos Golfos hay al oeste de Rusia?

El Golfo de Botnia y el de Finlandia.

¿Cuál de estos dos Golfos está mas al norte?

¿Dónde está situado el Estrecho de Mesina?

El Estrecho de Mesina está entre Italia y Sicilia.

¿Qué Estrecho hay entre España y Africa?

El Estrecho de Gibraltar.

¿Dónde está el Estrecho de Dover, ó paso de Calais?

Entre Inglaterra y Francia.

¿Qué Canal hay entre Inglaterra y Francia?

¿Dónde está el Lago Ladoga?

El Lago Ladoga está situado en la parte occidental de Rusia.

¿Qué Rio de Rusia desemboca en el Mar Blanco?

El Rio Duina.

¿Qué Rios desembocan en el Mar Caspio?

El Volga y el Ural.

¿Por qué países corre el Rio Danubio?

El Rio Danubio corre por Alemania, Austria y Turquía.

¿En qué Mar desemboca?

¿Por qué países corre el Rio Tajo?

El Rio Tajo corre entre España y Portugal.

¿En qué Océano desemboca el Tajo?

¿Qué país riega el Sena?

La Francia.

¿En qué Canal desemboca?

¿Por qué países corre el Rin?

El Rin corre por Suiza, Prusia y Holanda.

¿En qué Mar desemboca?

### LECCION XXXVI.

¿Qué es Europa?

Europa es una de las Grandes Divisiones del Continente Oriental.

¿Cuál es la Ciudad mas grande de Europa?

Londres.

*Nota.*—Londres es la ciudad mas extensa y rica del mundo.

¿Cuál es la Ciudad que sigue á Londres?

Paris.

¿Qué clima es el de la parte norte de Europa?

En su generalidad es frio.

¿Qué clima es el de la parte sur de Europa?

Cálido.

¿Cuáles son los principales minerales de Europa?

Hierro, plomo, estaño, cobre, azogue y carbon de tierra, ó hulla.

¿Cuáles son los productos vegetales de mayor importancia de Europa?

Trigo y otros cereales; tambien una gran variedad de frutas deliciosas.

¿Qué país de Europa es conocido por lo delicioso de su clima y la belleza de su aspecto general?

Italia.

¿Por qué es nombrada Turquía?

Por la fabricacion de sedas y alfombras.

¿Qué país de Europa tiene las mas altas montañas y mas hermosos lagos?

Suiza.



Animales de Europa.

¿En qué producciones sobresale Francia? Vinos, brandi y seda.

¿Qué distingue la Inglaterra?

La fabricacion de tejidos de lana y algodón, y quincalla.

¿Cómo se llama la Isla en que están situadas Inglaterra y Escocia?

La Gran Bretaña.

¿De qué forma parte?

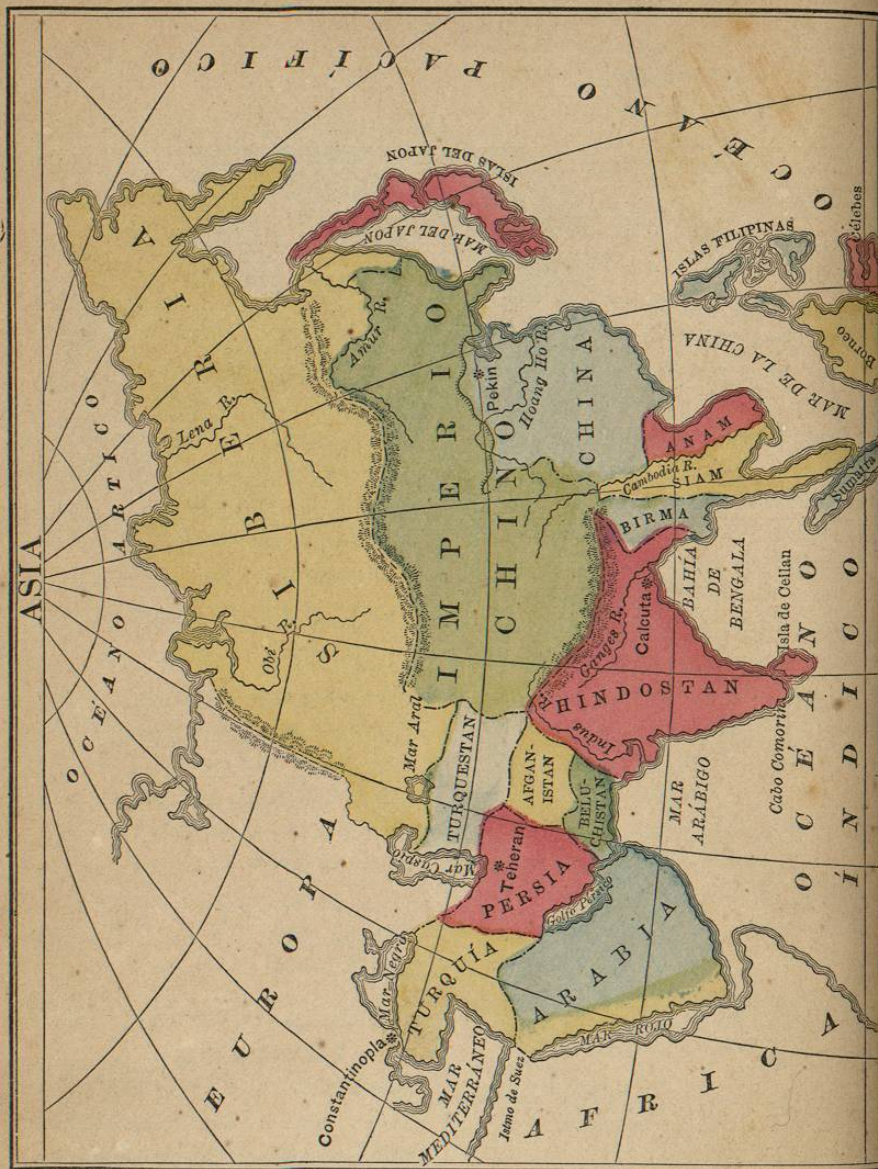
Forma parte de las Islas Británicas.

### LECCION XXXVII.

¿Cuáles son los límites de Asia?

Asia tiene al norte el Océano Artico, al este el Océano Pacífico,





al sur el Océano Indico, y al oeste Africa y Europa.

¿Dónde está situada la Siberia?

La Siberia se halla en la parte norte de Asia.

¿Qué dos países hay al sur de la Siberia?

¿Dónde está situado el Imperio Chino?

Al oriente de Asia.

¿Cómo se llama la parte sudeste de este Imperio?

Se llama China.

¿Cuáles son los dos países al sur de la China?

Anam y Siam.

¿Qué país hay al oeste de Siam?

¿Dónde está el Indostan?

El Indostan está en la parte meridional de Asia.

¿Cuáles son los dos países que están al oeste del Indostan?

Afganistan y Beluchistan.

¿Cuál está mas al norte?

¿Dónde se halla la Arabia?

La Arabia está en la parte sudoeste de Asia.

¿Cuál es el país que está al este de Turquía?

Persia.

¿Cuáles son los dos países situados al este de la Persia?

¿Dónde se encuentra el Turkestan?

El Turkestan está en la parte occidental de Asia, al oeste del Imperio Chino.

¿Cuál es la capital del Imperio Chino?

Pekin.

¿En qué parte del Imperio está Pekin?

Pekin está en la parte norte de China.

¿Cuál es la capital del Indostan?

Calcutta.

¿Cuál es la capital de Turquía?

Constantinopla.

*Nota.*—Constantinopla es la capital de las Turquías Europea y Asiática.

¿Cuál es la capital de Persia?

Teheran.

¿En qué parte de Persia está Teheran?

¿A qué país de Asia baña el Océano Arctico?

¿A qué dos países de Asia baña el Océano Pacifico?

La Siberia y el Imperio Chino.

¿A qué país baña el Mar Rojo?

Arabia.

¿A qué país baña el Mediterráneo?

Turquía.


¿De qué país es capital Pekin?

**LECCION XXXVIII.**

¿Dónde está situada Turquía?

Turquía se halla en la parte occidental de Asia, al norte de la Arabia.





Animales de Asia.

**LECCION XXXIX.**

¿Dónde están situadas las Islas del Japon?

Las Islas del Japon están al este del Imperio Chino.

¿Dónde se encuentran las Islas Filipinas?  
Las Islas Filipinas están situadas al sudeste de la China.

¿Qué Islas hay al sur de las Filipinas?

¿Qué Isla hay al oeste de Borneo?

¿Qué Isla está al sur del Indostan?

Ceilan.

¿Qué Penínsulas hay en Asia?

El Indostan y la Arabia.

¿Qué Istmo une el Asia con el Africa?

El Istmo de Suez.

¿Qué Cabo hay al sur del Indostan?

El Cabo Comorin.

¿Dónde se hallan los Montes Urales?

Los Montes Urales están entre Asia y Europa.

¿Dónde están las Montañas Altai?

Entre la Siberia y el Imperio Chino.

¿Dónde se encuentran los Montes Himalaya?

Entre el Indostan y el Imperio Chino.

¿Qué Océano baña el Asia por el norte?

¿Qué Océano hay al este de Asia?

¿Qué Océano está al sur de Asia?

**LECCION XL.**

¿Qué Mar hay al oeste de las Islas del Japon?

El Mar del Japon.

¿Qué Mar hay al oeste de las Islas Filipinas?

El Mar de la China.

¿Qué Mar hay entre el Indostan y la Arabia?

El Mar Arábigo.

¿Dónde está el Mar Rojo?

El Mar Rojo está al oeste de Arabia.

¿Qué Mar hay al oeste de Turquía?

El Mediterráneo.

¿Qué Mar hay al norte de Turquía?

El Mar Negro.

¿Qué Mar hay al norte de Persia?

El Mar Caspio.

¿En qué direccion respecto del Turkestan está el Mar Caspio?

¿Qué Mar hay al norte del Turkestan?

El Mar Aral.

¿Qué Bahía hay al este del Indostan?

La Bahía de Bengala.

¿Qué Golfo hay al sur de Persia?

El Golfo Pérsico.

¿Qué dos Rios hay en la Siberia?

Los Rios Obi y Lena.

¿En qué Océano desembocan?

¿Cuál es el clima de Asia?

En la parte norte es frio, y en la parte sur, cálido.

¿Por qué es nombrada la Siberia?

Por sus metales y pieles de animales.

¿Cuáles son las principales producciones de la China?

Arroz y té.

¿Cuáles son las principales producciones del Indostan?

Piedras preciosas, especias, drogas y maderas finas.

¿Cuál es el producto principal de Arabia?

Café.

¿Cuáles son los principales productos de Turquía?

Olivas é higos.

¿Por qué es célebre Persia?

Por la fabricacion de sus ricos chales y alfombras.

¿Qué piedras preciosas se encuentran en Persia?

Perlas y turquesas.



Tipo Arabe.

**LECCION XLI.**

¿Qué Rios hay en el Imperio Chino?

El Amur y el Hoang-Ho (ó Rio Amarillo).

¿Qué Rio hay entre Anam y Siam?

El Rio Cambodia.

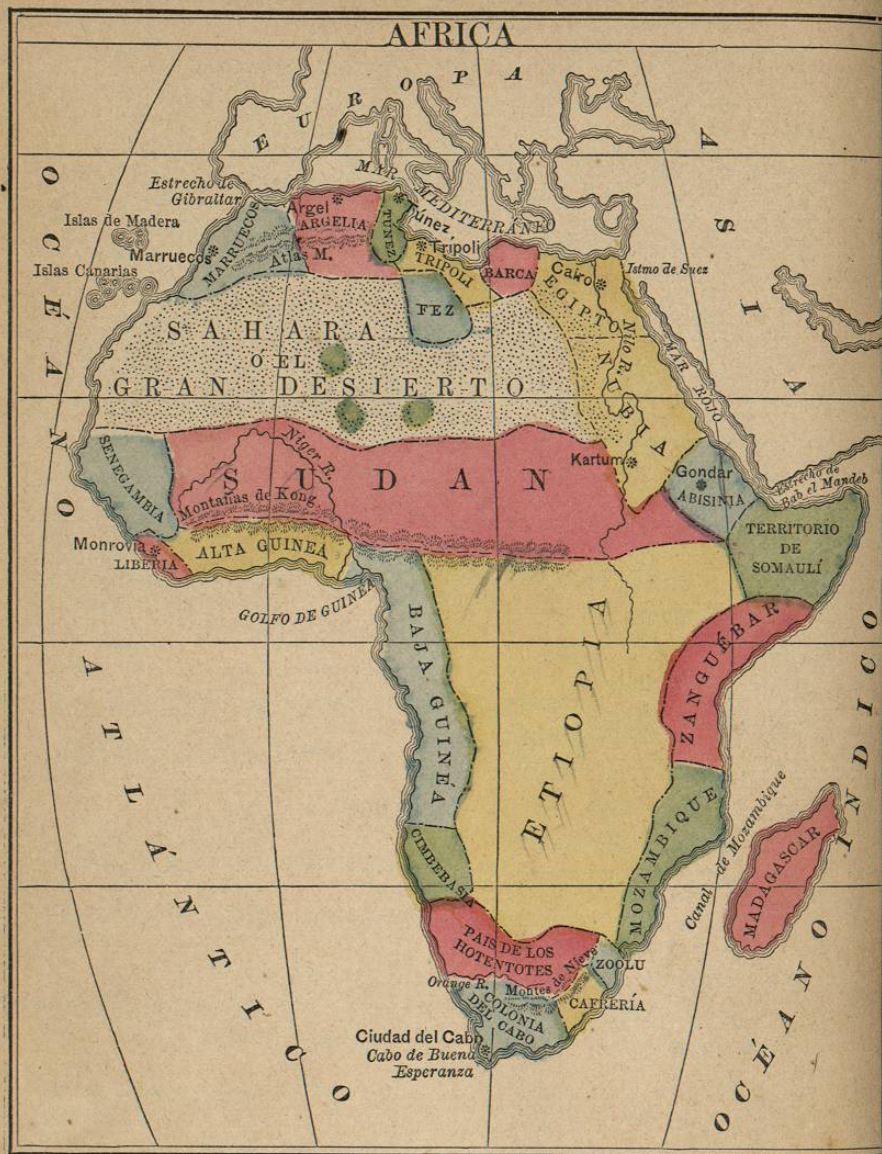
¿Qué Rios hay en el Indostan?

El Ganges y el Indo.

¿Qué es Asia?

Asia es una de las Grandes Divisiones del Continente Oriental.





**LECCION XLII.**

¿ Cuáles son los límites de Africa ?  
 Africa está limitada al norte por el Mar Mediterráneo, al este por el Mar Rojo y el Océano Indico, al sur y al oeste por el Océano Atlántico.

Nombre V. los países de Africa sobre el Mar Mediterráneo ?

Marruecos, Argelia, Túnez, Trípoli, Barca y Egipto.

¿ Qué países baña el Mar Rojo ?  
 Egipto, Nubia y Abisinia.

¿ Qué países de Africa hay sobre el Océano Indico y el Canal de Mozambique ?

El Territorio de Somaulí, Zanguebar, Mozambique, Zoolú y Cafrería.

¿Cuál es el país de Africa mas al sur ?  
 La Colonia del Cabo.

¿ Qué países de Africa hay sobre el Océano Atlántico ?

Marruecos, Sahara, Senegambia, Liberia, Guinea Superior, Guinea Inferior, Cimbabasia y el País de los Hotentotes.

¿ Qué país hay al sur de Trípoli ?  
 Fez.

¿ Dónde está Sudan ?  
 Sudan ocupa el centro de Africa.

¿ Dónde se halla la Etiopia ?  
 La Etiopia está al sur del Sudan.

**LECCION XLIII.**

¿Cuál es la capital de Marruecos ?  
 Marruecos.

¿Cuál es la capital de Argelia ?  
 Argel.

¿Cuál es la capital de Túnez ?  
 Túnez.

¿Cuál es la capital de Egipto ?  
 El Cairo.

¿ Sobre qué Río está el Cairo ?  
 ¿Cuál es la capital de Nubia ?  
 Kartum.

¿ Sobre qué Río está Kartum ?  
 ¿Cuál es la capital de Abisinia ?  
 Gondar.

¿Cuál es la capital de la Colonia del Cabo ?  
 La Ciudad del Cabo.

¿ En qué parte de la Colonia está la Ciudad del Cabo ?  
 ¿Cuál es la capital de Liberia ?  
 Monrovia.

¿ Qué Isla hay al este de Mozambique ?  
 ¿ Qué Islas hay al oeste de Marruecos ?  
 Las Islas de Madera, y las Canarias.

¿ Qué Cabo hay en la extremidad sur de la Colonia del Cabo ?  
 El Cabo de Buena Esperanza.

¿ Dónde están los Montes Atlas ?  
 Los Montes Atlas se extienden

al noroeste de Africa.