

88764/54

Antonio
de la S
CV7



A.P.
L\$



LIBRES.



G131


S64

c. 1

AL



1080045518



UANL

UNIVERSIDAD AUTÓNOMA DE NUEVO LEÓN

DIRECCIÓN GENERAL DE BIBLIOTECAS



“LOS CIELOS Y LA TIERRA ESTÁN ¡OH DIOS! LLENOS DE TUS
ADMIRABLES OBRAS.”



PRIMER LIBRO DE GEOGRAFÍA
DE SMITH,

6

GEOGRAFÍA ELEMENTAL,

DISPUESTA PARA LOS NIÑOS.

Adornada con cien grabados y catorce mapas.

POR ASA SMITH,

MAESTRO EN ARTES.

TRADUCIDA DEL INGLÉS Y ADAPTADA AL USO DE LAS ESCUELAS DE SUR AMÉRICA,
LAS INDIAS OCCIDENTALES Y MÉJICO, CON ADICIONES.

POR TEMÍSTOCLES PARÉDES,

SECRETARIO DE LA LEGACION DE LA NUEVA-GUANADA EN LOS ESTADOS UNIDOS.

NUEVA EDICION, REVISADA, CORREGIDA Y AUMENTADA DE UN CAPÍTULO Y MAPA NUEVOS
DE LAS REPÚBLICAS ARGENTINA, DEL PARAGUAY Y DEL URUGUAY.

NUEVA YORK:
D. APPLETON Y COMPAÑÍA,

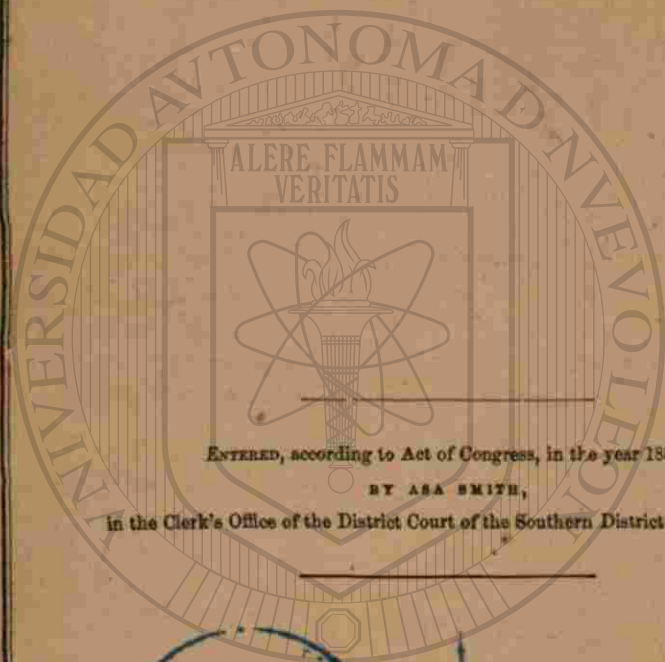
90, 92 y 94 GRAND STREET.

1870.

15303

G131

S64



ENTERED, according to Act of Congress, in the year 1854,
BY ASA SMITH,
in the Clerk's Office of the District Court of the Southern District of New-York.

FONDO BIBLIOTECA PÚBLICA
DEL ESTADO DE NUEVO LEÓN

132062

PREFACIO.

PERSONAS que conocen el estado de la educación, y los libros que sirven de textos en las escuelas de los países de la América del Sur, y en Méjico, han indicado al autor, que siendo allí escasas, obras de Geografía didácticas y cortas, adaptadas para los niños que comienzan este estudio, les haría un bien positivo publicando la presente, que espera será de mucha utilidad, ya por la claridad con que ha tratado de escribirla, como por las nociones variadas que contiene de los diferentes ramos de la ciencia.

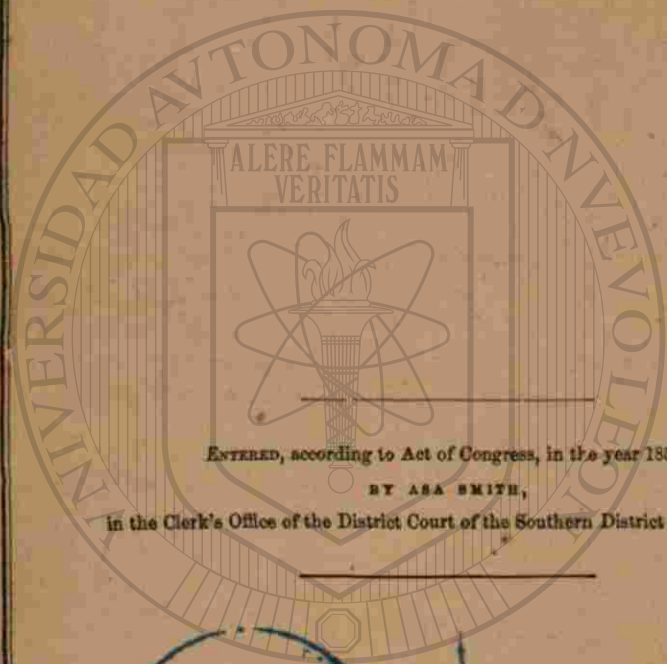
Las viñetas é ilustraciones han sido tomadas del "Primer Libro de Geografía de Smith," publicado en inglés, cuya traducción compone parte del presente.

El Señor TEMÍSTOCLES PARÉDES, Secretario de la Legación de la Nueva Granada en los Estados Unidos, y traductor de la obra, ha preparado cuidadosamente la descripción y parte histórica relativa á los países españoles. Ninguno mas idóneo que este jóven granadino, educado en la lengua española, é igualmente conocedor del inglés, para dar á su traducción y composición, un estilo familiar y conciso, que agrade y á la vez instruya.

El autor se propone publicar otra Geografía mas estensa, en cuarto, para las academias y escuelas superiores de los países españoles, la cual estará lista para el tiempo en que los jóvenes que comiencen su estudio en este primer libro, se hayan familiarizado ya con su contenido.

G131

S64



ENTERED, according to Act of Congress, in the year 1854,

BY ASA SMITH,

in the Clerk's Office of the District Court of the Southern District of New-York.

FONDO BIBLIOTECA PÚBLICA
DEL ESTADO DE NUEVO LEÓN

132062

PREFACIO.

PERSONAS que conocen el estado de la educacion, y los libros que sirven de textos en las escuelas de los países de la América del Sur, y en Méjico, han indicado al autor, que siendo allí escasas, obras de Geografía didácticas y cortas, adaptadas para los niños que comienzan este estudio, les haria un bien positivo publicando la presente, que espera será de mucha utilidad, ya por la claridad con que ha tratado de escribirla, como por las nociones variadas que contiene de los diferentes ramos de la ciencia.

Las viñetas é ilustraciones han sido tomadas del "Primer Libro de Geografía de Smith," publicado en inglés, cuya traduccion compone parte del presente.

El Señor TEMÍSTOCLES PARÉDES, Secretario de la Legacion de la Nueva Granada en los Estados Unidos, y traductor de la obrita, ha preparado cuidadosamente la descripcion y parte histórica relativa á los países españoles. Ninguno mas idóneo que este jóven granadino, educado en la lengua española, é igualmente conocedor del inglés, para dar á su traduccion y composicion, un estilo familiar y conciso, que agrade y á la vez instruya.

El autor se propone publicar otra Geografía mas estensa, en cuarto, para las academias y escuelas superiores de los países españoles, la cual estará lista para el tiempo en que los jóvenes que comiencen su estudio en este primer libro, se hayan familiarizado ya con su contenido.

UNIVERSIDAD AUTÓNOMA DE NUEVA LEÓN
ALERE FLAMMAN
VERITATIS
A LOS MAESTROS.

El autor recomendaría que se hiciese á los alumnos comenzar este libro por el solo estudio de las cuestiones y ejercicios sobre los mapas, dejando la parte histórica, para cuando conociesen bien los límites, posición, & de los diferentes países.

Lo mas importante en el estudio de la Geografía es, familiarizar al alumno con la forma y caracteres jenerales de las porciones de tierra, y con las posiciones relativas de los continentes, oceanos, rios, montes, imperios, estados, ciudades, &. Una vez adquirido este conocimiento, vienen á crecer notablemente de interes para el alumno.

El maestro debe provocar ejercicios frecuentes á sus discípulos, haciéndoles todas aquellas preguntas sueltas que le ocurran. Estos ejercicios que reviven en la memoria de los alumnos lo que habian encomendado á ella anteriormente, son, sin duda, de mucha utilidad.

Los libros de Geografía de Smith, que se han publicado en inglés, son las obras mas populares, de su especie, en los Estados Unidos; y su venta es mas considerable que la de cualesquiera otras. La siguiente es una sola de las muchas recomendaciones que las favorecen.

DE LA JUNTA ENCARGADA DE LA INSPECCION DE LAS ESCUELAS
PÚBLICAS DE LA CIUDAD DE NUEVA-YORK.

La Junta encargada de la inspeccion de los libros de la Asociacion de Maestros de escuelas públicas, informa respetuosamente:

Que ha examinado con mucho cuidado el Primer Libro de Geografía de Smith, y está satisfecha de que, de todas las obras sobre este ramo de la ciencia, esta es la mejor.

El autor, parece que ha querido formar un tratado sencillo, comprensivo, y útil para los principiantes, y la Junta cree que ha alcanzado un éxito feliz.

Las preguntas están arregladas juiciosamente, y las respuestas dan las divisiones jenerales é importantes del Globo, la situacion particular de todos los lugares mas notables, el conocimiento del estado de la sociedad, y de los hábitos y costumbres de las diferentes razas de hombres.

El estudiante puede adquirir bastantes conocimientos de Geografía en esta obra, con mucha mas facilidad que en cualquiera otro libro mas estenso, de los que se usan ahora.

Si no fuera por su tamaño y nombre, de "Primer Libro," ningun otro tratado se haria necesario para las clases adelantadas. Los mapas é ilustraciones están mui bien ejecutados, y esplican claramente las lecciones.

(Firmado)

SENECA DURAND,*
EDWD. MILROY,
JOHN WALSH,

Miembros de la Junta.

La Junta presenta respetuosamente la siguiente resolucion:

Resuelto, Que el "Primer Libro de Geografía" de Smith sea adoptado por esta Asociacion, y que se recomiende su uso á todas nuestras escuelas.

* Habiendo usado esta Geografía en mi escuela, durante muchos meses, con gran éxito, la experiencia propia me hace concurrir con mi voto particular en lo manifestado en el informe anterior: en efecto, el libro nada me deja que desear.

S. DURAND.



A LOS JÓVENES ALUMNOS.

AMIGUITOS DE LOS PAÍSES ESPAÑOLES :

He preparado esta pequeña Geografía espresamente para UU.,— espero que les gustará. Como yo no hablo su idioma, la he hecho traducir por un joven que lo aprendió de niño y fué educado en país español. Estudiando esta obrita con atencion, UU. aprenderán muchas cosas que les gustarán é interesarán ; sabrán de su propio país, lo que produce, como está dividido, y qué ciudades, rios y montañas contiene ; tambien se instruirán de lo que pasa en otros países, y de la jente que vive en ellos ; sabrán de donde viene el té, el café, el azúcar, y qué partes de la Tierra dan naranjas, piñas, higos, uvas, &ª.

En los Estados Unidos todos los niños y niñas, desde su tierna infancia, estudian una Geografía corta, y se les consideraria como mui ignorantes, si no pudieran leer, escribir y contar, y no entendieran ya la Geografía á la edad de 10 años. Los niños, aunque no hayan salido jamás de su país, pueden saber lo concerniente á las jentes, los animales, las montañas y los rios del mundo, solo estudiando este librito y algunos otros sobre diferentes materias ; así es que cuando, con el tiempo, lean UU. en los periódicos, noticias de lo que pasa en otras partes del mundo, sabrán ya todo lo relativo á los países donde tienen lugar los acontecimientos, y á sus habitantes,—y con esta lectura se divertirán y se instruirán al mismo tiempo.

Bien, queridos amiguitos : deseo que UU. se estudien este librito con atencion ; pues tengo de enviarles una *Geografía estensa*, cuando se sepan esta. Ella contendrá mapas grandes de las diferentes naciones, y dará noticias mas detalladas de los países de la Tierra, sus habitantes, sus animales, sus producciones, &ª.

Allá envié ya una *Astronomía Ilustrada*, en español, para que la estudien jóvenes de mayor edad que UU. A UU. les llegará su turno, y entónces aprenderán mucho que les falta por saber, respecto del sol, la luna y las estrellas.


ASA SMITH,

PRINCIPAL DE LA ESCUELA PÚBLICA N^o 12,

á cuyo destino ha consagrado los últimos 15 años, en la ciudad de Nueva-York.

PRIMER LIBRO DE GEOGRAFÍA, DE SMITH.

KNOWLEDGE IS POWER—EL SABER ES PODER.



LECCION I

Pregunta. Qué es Geografía ?

Respuesta. Geografía es una descripción de la Tierra.

Qué es la Tierra ?

La Tierra es un gran globo, compuesto de tierra y agua.



De qué tamaño es la Tierra ?

Su diámetro es como de 8,000

millas, y su circunferencia como de 25,000.

Qué es lo que se llama superficie de la Tierra ?

La parte exterior de ella.

Qué parte de la superficie del globo, se compone de tierra ?

Una cuarta parte.

Qué parte de la superficie del globo, se compone de agua ?

Las tres cuartas partes.

LECCION II

DIVISIONES DE LA TIERRA.

Cuáles son las divisiones naturales de la tierra ?

Continentes, islas, penínsulas, istmos, cabos y montañas.

A LOS JÓVENES ALUMNOS.

AMIGUITOS DE LOS PAÍSES ESPAÑOLES :

He preparado esta pequeña Geografía espresamente para UU.,— espero que les gustará. Como yo no hablo su idioma, la he hecho traducir por un joven que lo aprendió de niño y fué educado en país español. Estudiando esta obrita con atencion, UU. aprenderán muchas cosas que les gustarán é interesarán ; sabrán de su propio país, lo que produce, como está dividido, y qué ciudades, rios y montañas contiene ; tambien se instruirán de lo que pasa en otros países, y de la jente que vive en ellos ; sabrán de donde viene el té, el café, el azúcar, y qué partes de la Tierra dan naranjas, piñas, higos, uvas, &ª.

En los Estados Unidos todos los niños y niñas, desde su tierna infancia, estudian una Geografía corta, y se les consideraria como mui ignorantes, si no pudieran leer, escribir y contar, y no entendieran ya la Geografía á la edad de 10 años. Los niños, aunque no hayan salido jamás de su país, pueden saber lo concerniente á las jentes, los animales, las montañas y los rios del mundo, solo estudiando este librito y algunos otros sobre diferentes materias ; así es que cuando, con el tiempo, lean UU. en los periódicos, noticias de lo que pasa en otras partes del mundo, sabrán ya todo lo relativo á los países donde tienen lugar los acontecimientos, y á sus habitantes,—y con esta lectura se divertirán y se instruirán al mismo tiempo.

Bien, queridos amiguitos : deseo que UU. se estudien este librito con atencion ; pues tengo de enviarles una *Geografía estensa*, cuando se sepan esta. Ella contendrá mapas grandes de las diferentes naciones, y dará noticias mas detalladas de los países de la Tierra, sus habitantes, sus animales, sus producciones, &ª.

Allá envié ya una *Astronomía Ilustrada*, en español, para que la estudien jóvenes de mayor edad que UU. A UU. les llegará su turno, y entónces aprenderán mucho que les falta por saber, respecto del sol, la luna y las estrellas.

ASA SMITH,

PRINCIPAL DE LA ESCUELA PÚBLICA N^o 12,

á cuyo destino ha consagrado los últimos 15 años, en la ciudad de Nueva-York.

PRIMER LIBRO DE GEOGRAFÍA, DE SMITH.

KNOWLEDGE IS POWER—EL SABER ES PODER.




LECCION I

Pregunta. Qué es Geografía ?

Respuesta. Geografía es una descripción de la Tierra.

Qué es la Tierra ?

La Tierra es un gran globo, compuesto de tierra y agua.



De qué tamaño es la Tierra ?

Su diámetro es como de 8,000

millas, y su circunferencia como de 25,000.

Qué es lo que se llama superficie de la Tierra ?

La parte exterior de ella.

Qué parte de la superficie del globo, se compone de tierra ?

Una cuarta parte.

Qué parte de la superficie del globo, se compone de agua ?

Las tres cuartas partes.

LECCION II

DIVISIONES DE LA TIERRA.

Cuáles son las divisiones naturales de la tierra ?

Continentes, islas, penínsulas, istmos, cabos y montañas.

Qué es continente?

Continente es la mayor division natural de la tierra.

Cuántos continentes hay?

Hay dos continentes: el oriental y el occidental.

Cuáles son las grandes divisiones del continente oriental?

Europa, Asia y África.

Cuáles son las grandes divisiones del continente occidental?

La América Setentrional y la América Meridional.

LECCION III.

Qué es isla?

Una porcion de tierra enteramente rodeada de agua.

Qué es península?

Una porcion de tierra casi rodeada de agua.

Qué es istmo?

Una garganta de tierra que une dos porciones mayores de ella.



Volcan, con lava que corre al mar.

Qué es cabo?

Una punta de tierra que se interna en el agua.

Qué nombre se da a los cabos altos y rocallosos?

Se llaman promontorios.

LECCION IV.

Qué es montaña?

Una vasta elevacion de tierra.

Qué es colina?

Una pequeña elevacion de tierra.

Qué es volcan?

Una montaña que arroja fuego, humo y lava.

Qué es cráter de un volcan?

La boca ó apertura que tiene en su cima.

De qué modo sale la lava frecuentemente?

En forma de chorros, borbotones, ó torrentes de un líquido trasparente.

Hasta qué elevacion han subido estos torrentes?

Hasta diez mil pies, ó cerca de dos millas.

Son los volcanes muy destructores?

Algunas veces destruyen ciudades enteras.

Por qué son útiles los volcanes?

Porque dan salida á los fuegos interiores de la tierra, y por consiguiente, impiden los temblores.

Qué es valle?

La parte baja comprendida entre dos colinas ó montañas.

Qué es llano?

Un espacio de tierra plana.

Los llanos cubiertos de yerba solamente, se llaman en la América Setentrional sabanas ó praderas; en la América Meridional suelen llamarse también, pampas ó llanos; y en otros lugares del mundo toman diversos nombres.

Qué es desierto?

Una region de tierra estéril.

Qué es oasis?

Un campo fértil en un desierto.



Ciudad, oceano, puerto, fidal.

LECCION V.

Cuáles son las divisiones naturales del agua?

Oceanos, mares, golfos, bahías, estrechos, lagos y rios.

Qué es oceano?

La mayor division natural del agua.

Cuántos oceanos hay?

Cinco: el Atlántico, el Pacífico,

el Índico, el Ártico y el Antártico.

Qué es mar?

Una porcion de agua salada, ménos considerable que el oceano.

Los lagos de agua salada, suelen llamarse mares, tales son el mar de Aral y el mar Caspio en Asia.

Qué nombre se da á un mar que contiene muchas islas?

El de archipiélago.



Qué es golfo ó bahía?

Una porcion de agua que se interna en la tierra.

Qué es lago?

Una porcion de agua dulce rodeada de tierra.

Cómo se llaman los lagos pequeños?

Lagunas.



LECCION VI

Cuál es el agua salada, sobre la tierra?

La de los oceanos y mares; y la de la mayor parte de los golfos, de las bahías y de los estrechos.

Cuál es el agua dulce?

La de los lagos y rios.

Qué es estrecho?

Un pasaje por donde se unen dos porciones de agua.

Qué es rio?

Una gran corriente de agua.

Cómo se forman los rios?

Por medio de pequeños torrentes de agua.

Cómo se llaman las pequeñas corrientes de agua?

Arroyos y riachuelos.

Cuál es el nacimiento de un rio?

El lugar donde empieza su curso.

Cuál es la boca de un rio?

El lugar donde desagua.



LECCION VII

Qué es lo que empieza á formar los rios?

Los manantiales.

Qué es manantial?

Agua que brota la tierra.



Riachuelo—Manantial.

Cómo se forman los manantiales?

Los manantiales provienen de

la lluvia que penetra en la tierra, y que sale por hendeduras formadas en esta.

“Él envia á los valles los torrentes que corren por entre las colinas. Ellos dan bebida á todas las bestias del campo”—*Biblia.*

Qué es catarata, cascada ó salto?

Agua que se lanza sobre un precipicio.

Para qué se utilizan las cascadas ó cataratas?

Se emplean en los molinos, como potencia motriz.

Qué es puerto?

Una pequeña bahía, donde los buques pueden anclar y estar á cubierto de los vientos.



Cataratas, cascadas, rápidos.

Qué es canal?

Una cavidad prolongada hecha en la tierra, y llena de agua, por donde pueden pasar embarcaciones. También se le da este nombre á un estrecho ancho.


Cómo se hacen andar las embarcaciones por los canales?

Son tiradas, casi siempre, por mulas ó caballos.



Bote de canal.

LECCION VIII.
DIVISIONES POLITICAS.



El Capitolio en Washington.

Cuáles son las divisiones políticas de la tierra?

Los imperios, los reinos, las repúblicas, los estados, &.

Qué es imperio?

Un país gobernado por un emperador.

Qué es reino?

Un país gobernado por un rey.

Qué es república?

Un país cuyos gobernantes son elejidos por el pueblo.

Cómo se llama el principal magistrado de una República?

Se le llama *Presidente*.

Qué es ciudad?

Una gran reunion de casas y de habitantes.

En un sentido mas exacto, ciudad es una porcion colectiva de habitantes, incorpora-

dos y gobernados por autoridades particulares, como un *mayor* y *aldermen* ó *rejidores*.

Qué nombre se da á la ciudad donde se hacen las leyes de una nacion ó estado?

El de capital.

Qué nombre se da á la ciudad mas grande de una nacion?

El de metrópoli.

LECCION IX.

MAPAS Y GLOBOS.



[Para que el alumno pueda encontrar las direcciones exactas en los mapas, debe colocarse enfrente al mapa, quedando en la parte superior el norte; en la inferior el sur; en la parte de la derecha el oriente; y en la de la izquierda el occidente.]

Qué es un mapa?

Un cuadro que representa toda la superficie de la tierra, ó parte de ella.

Cuáles son las direcciones en un mapa?

La parte superior representa el norte; la parte inferior el sur; la parte de la derecha el oriente, y la de la izquierda el occidente.

Qué es globo?

Una esfera ó bola redonda.

Qué es lo que esta representando?

La Tierra.

Qué es lo que hay dibujado en la superficie del globo?

Los continentes, las islas, los oceanos, los mares, los rios, &., en las mismas posiciones que ocupan sobre la Tierra.

Qué es hemisferio?

Medio globo.

Cómo se representa sobre una superficie plana, la superficie del globo?

Por medio de dos mapas circulares, llamados hemisferio oriental y hemisferio occidental.

Qué representa el hemisferio oriental?

El continente oriental.

Qué representa el hemisferio occidental?

El continente occidental.

MAPA DEL HEMISFERIO OCCIDENTAL.



Poblacion de la Tierra.

Países.	Area en millas cuadradas.	Poblacion.
1. ASIA.....	16,313,000	596,000,000
2. EUROPA.....	3,760,000	262,300,000
3. AFRICA.....	10,940,000	61,500,000
4. AMÉRICA SETENTRIONAL.	7,980,000	40,000,000
5. OCEANÍA.....	4,500,000	23,500,000
6. AMÉRICA MERIDIONAL..	6,500,000	20,000,000
	49,993,000	1,003,300,000

LECCION X.

MAPA DEL HEMISFERIO OCCIDENTAL.

[Las respuestas á las siguientes preguntas, se puen, para ayudar al alumno á encontrar las contestaciones en el mapa.]

Qué hemisferio es este?

El hemisferio occidental.

Qué continente hay en el hemisferio occidental?

El continente occidental.

Cómo está dividido el continente occidental?

En América Setentrional y América Meridional.

Qué istmo une la América Setentrional á la Meridional?

El istmo del Darien.

Qué oceano hay al oriente de la América?

El oceano Atlántico.

Qué oceano hay al occidente de la América?

El oceano Pacífico.

Qué oceano queda al norte de la América Setentrional?

El oceano Ártico.

Qué oceano queda al sur de la América Meridional?

El oceano Antártico.

Qué cadena de montañas hay hácia el occidente de la América Setentrional?

Los Montes Rocallosos.

Qué cadena de montañas hay en la parte occidental de la América Setentrional?

Los Andes.

Qué gran bahía hay en la parte del norte de la América Setentrional?

La bahía de Hudson.

Qué golfo se encuentra en la parte del Sur?

El golfo de Méjico.

Qué islas hay entre la América Meridional y la Setentrional?

Las islas de la India Occidental.

tal.

LECCION XI.

Qué gran rio hay en la América Meridional?

El rio de las Amazonas.

Qué gran rio hay en la América Setentrional?

El rio Misisipí.

Qué estrecho se encuentra entre la América Setentrional y Asia?

El estrecho de Bering.

Qué estrecho al Sur de la América Meridional?

El estrecho de Magallanes.

Qué país queda al nordeste de la América Setentrional?

Groenlandia.

Qué bahía al occidente de Groenlandia?

La bahía de Bafin.

Cuál es la ciudad mas grande del continente occidental?

Nueva York, en la América Setentrional.

Qué país queda al nordeste de la América Setentrional?

Asia.

Qué cabo hay al sur de la América Meridional?

El cabo de Hornos.

Qué cabo se encuentra al oriente?

El de San Roque.

Cuál se encuentra al occidente?

El Cabo Blanco.

Qué cabo hay al Sur de Groenlandia?

El cabo Farewell.

Qué islas quedan al nordeste de la América Meridional?

Las islas de Cabo Verde.

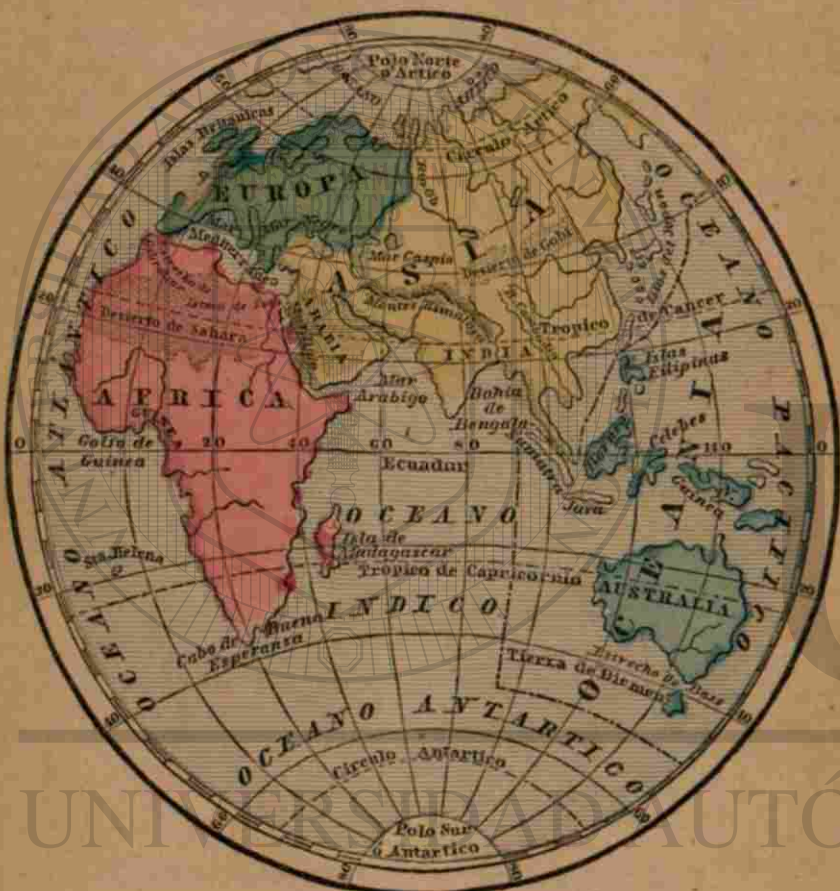
Qué rio grande se halla hácia el norte de la América Meridional?

El Orinoco.

Qué rio grande se halla hácia el sur de la América Meridional?

El rio de la Plata.

MAPA DEL HEMISFERIO ORIENTAL.



Razas de Hombres.

Raza.	Color.	Número.
CAUCASOS	Blanco	400,000,000
MONGOLES	Amarillo de oliva	474,300,000
ETIOPIANOS	Negro	70,000,000
MALAYOS	Pardo oscuro	30,000,000
AMERICANOS (Indios) ..	Colorado ó color de cobre ..	9,000,000
		1,003,300,000

LECCION XII.

MAPA DEL HEMISFERIO ORIENTAL.

[A estas preguntas no se ponen respuestas, sino la primera y última letra de estas, que ayularán suficientemente al alumno para encontrar la contestacion que corresponde.]

- Qué hemisferio es este? O-l.
- Qué continente contiene? O-l.
- Cuáles son sus tres divisiones? E-a, A-a y Á-a.
- Cuál es la mayor division? A-a.
- Cuál es la menor? E-a.
- Cuál es la nacion mas grande de Europa? R-a.
- Qué gran mar hay entre Europa y África? M-o.
- Qué es el Mediterráneo? A-a.
- El mar mas grande del mundo. C-o y N-o.
- Qué separa este de la Europa? A-a.
- Cuáles son los dos mares que hay entre Europa y Asia? A-a.
- Qué gran division hay al Sur de Europa? A-a.
- Qué gran division hay al oriente de Europa? A-a.
- Qué oceano hay al norte de Europa? A-o.
- Cuál al occidente? A-o.
- Qué estrecho une el mar Mediterráneo con el oceano Atlántico? G-r.

LECCION XIII.

- Qué país se encuentra hácia el sudeste de Asia? I-a.
- Qué país se encuentra hácia el sudoeste de Asia? A-a.
- Qué islas hay al oriente de Asia? J-n y F-s.
- Qué mar hay entre Asia y África? R-o.
- De qué lado de Asia queda el Oceano Pacifico? Or-c.
- Cuál es la isla mas grande que hay en el mundo? A-a.
- A qué gobierno pertenece Australia? G-n B-a.
- Qué estrecho hay entre Australia y la tierra de Diemen? B-s.
- Qué istmo une el Asia con el África? S-z.
- Entre qué mares es que se encuentra el istmo de Suez? M-o y R-o.

LECCION XIV.

- Qué oceano hay al occidente de África? A-o.
- Qué mar queda al norte de África? M-o.
- Qué tiene Vd. qué decir del África? S-a ó G-n D-c.
- Qué es la mas cálida de las grandes divisiones de la Tierra. B-a E-a.
- Qué gran desierto hay en la parte setentrional de Africa? G-a.
- Qué cabo hay en la estremidad meridional de Africa? G-a.
- Qué golfo se encuentra al occidente de África? M-r.
- Qué país queda al occidente de África? G-a.
- Qué gran isla hay al sudeste de África? M-r.

LECCION XV.

- Qué oceano hay entre América y Europa? A-o.
- Qué oceano hay entre América y Asia? P-o.
- Cuál es la ciudad mas grande del mundo? L-s.
- Qué bahía hay al sur de Asia? B-a.
- Qué isla queda al sur de Australia? D-n.
- Qué isla queda al norte de Australia? N-a G-a.
- Qué gran desierto se encuentra en Asia? C-i.
- Qué isla se halla al occidente de Africa? S-a H-a.
- Qué islas hay al occidente de Europa? I-s B-s.
- Cuáles son las dos grandes islas que se encuentran al nordoeste de Australia? B-o y J-a.

[Digase los límites de los siguientes países. Ejemplo: La América Meridional está limitada, al norte por el mar Caribe, al este por el oceano Atlántico, al sur por el oceano Antártico, y al oeste por el oceano Pacifico.]

- La América Meridional?
- La América Setentrional?
- Europa? Asia? Africa?
- Arabia? Brasil?

MAPA DE MÉJICO.



LECCION XVI

Cuáles son los límites de Méjico por el norte? E-s U-a
 Qué golfo hay al este? M-o
 Qué río hay entre Méjico y Téjas? R-o G-e
 Qué país queda al sudeste de Méjico? C-o A-a
 Entre qué bahías está Yucatan? C-e y H-s
 En qué golfo se encuentra la bahía de Campeche? M-o
 En qué mar se encuentra la bahía de Honduras? C-e
 Qué gran golfo hay hacia la parte occidental de Méjico? C-a

Qué península hay entre el golfo de California y el Pacífico? C-a
 Qué península hay entre las bahías de Campeche y de Honduras? Y-n
 Qué cadena de montañas hay en Méjico? S-a M-e ó C-s
 Qué dirección lleva esta cadena? S-e
 Cuál es la capital de Méjico? M-o
 Qué ciudad hay cerca de la boca de Río Grande? M-s
 Qué ciudades hay sobre el golfo de Méjico? T-o y V-z

LECCION XVII

Qué ciudad hay sobre el Pacífico? A-o
 Qué ciudad hay al oeste de Matamoros? M-y
 Qué ciudad hay al oeste de Tampico? P-i
 Qué ciudad al sudoeste de Monterey? D-o
 Qué ciudad queda en el interior, un poco al noroeste de Vera Cruz? J-a
 Qué ciudades, un poco al sudeste de Méjico? P-a y O-a
 Qué ciudad queda al noroeste de Matamoros? C-a
 Qué ríos desembocan en la estremidad norte del golfo de California? C-o y G-a
 Qué cabo hay en la estremidad sur de California? S-n L-s

LECCION XVIII

MAPA DE CENTRO-AMÉRICA.

Qué bahía hay al norte de Centro-América? H-s
 Qué mar al este? C-e
 Qué oceano al sur y al oeste? P-o
 Qué istmo une Centro-América á la América del Sur? D-n
 Qué península se encuentra al norte? Y-n
 Qué país al noroeste? M-o
 Cuál es la capital de Yucatan? M-a
 Qué lago hay en Centro-América? N-a
 Qué río forma su desagüe? S, J-n
 Qué pueblo hay en la parte del norte del istmo de Darien? C-p
 Qué ciudad hay en la parte del sur? P-i
 Qué ciudades hay cerca del Pacífico? S, S-r y N-a G-a
 Qué bahía hay al sur del istmo de Darien? D-n


LECCION XIX

MAPA DE LAS ISLAS DE LAS INDIAS OCCIDENTALES.

Qué oceano hay al norte y al este de las islas de las Indias Occidentales? A-o
 Qué mar queda al sur? C-e
 Qué golfo al oeste? M-o
 Cuál es la isla más grande de las Indias Occidentales? C-a
 Cuál le sigue en estension? H-i
 Cuál le sigue á esta? J-o
 Despues de Jamaica, cuál sigue en estension? P-o R-o
 Qué nombre se da á estas cuatro islas juntas? G-s A-s
 Qué islas de menor consideración se encuentran al noroeste de Cuba? B-s
 Qué islas pequeñas al sudeste de Porto Rico? C-s
 Cuál es el nombre de cada una de estas islas? A-a, G-e, M-a, B-a, T-d
 Qué isla pequeña hay al sur de la estremidad oeste de Cuba? P-s
 Qué tierra fué la primera que descubrió Colon? S, S-r ó I-a del G-o

LECCION XX.

Que península hay en los Estados Unidos al norte de Cuba? F-a.
 Qué estrecho hay entre Cuba y Florida? F-a.
 Qué estrecho ó pasaje hay entre Cuba y Haití? B-o.
 Cuál entre Haití y Porto Rico? M-a.
 Qué cabo tiene Cuba al occidente? S. á-o.
 Cuál es la estension longitudinal de Cuba? 700 millas.
 Cuál es la capital de Cuba? H-a.
 Qué ciudad hay al este de la Habana? M-s.
 Qué ciudad hay al sudoeste de Matanzas? P-e.
 Cuál es la capital de Haití? P-o P-e.
 Cuál es la capital de Jamaica? K-n.
 Cómo está situada Jamaica respecto de Cuba? S-d.
 Cómo está situada la isla de Haití, respecto de Cuba? S-e.
 Cómo Porto Rico, respecto de Haití? E-o.
 Qué cabo hay en la estremidad setentrional de Yucatan? C-e.
 Cuál es la longitud del mar Caribe, de este á oeste? 2,000 millas.
 Cuántas millas de largo, y cuántas de ancho tiene el golfo de Méjico? 1,100 millas de E. á O., y 650 de N. á S.
 Hacia qué punto queda Nueva Orleans respecto de la Habana? N-e.



Pueblo de Jemea.

LECCION XXI.

(DÓNDE QUEDAN.)

Ciudades y villas.

Méjico? Tampico?
 Vera Cruz? Monterey?
 Acapulco? Matamoros?
 Guatemala? Matanzas?
 San Salvador? Habana?
 Kingston? Potosí?
 Puerto Príncipe?

Golfos y bahías.

Méjico? California?
 Campeche? Honduras?
 Darien? Panamá?

Cabos.

San Lucas? Catoche?
 San Antonio?

Islas.

Cuba? Porto Rico?
 Haití? Las Bahamas?
 Jamaica? Barbada?
 Antigua? Trinidad?
 San Salvador ó Isla del Gato?



La catedral de Méjico.

LECCION XXII.

HISTORIA Y DESCRIPCION DE MÉJICO.

Qué habitantes se encontraron en Méjico, cuando la América fué descubierta?
 Indios algun tanto civilizados.

En qué se diferenciaban estos indios de los de los Estados Unidos?

En que aquellos eran parcialmente civilizados, edificaban ciudades, fabricaban telas, &ª.

Cómo estaban constituidos?

Tenian sus leyes, y un rey que los gobernaba.

De qué pais eran los primeros individuos de la raza blanca, que fueron á Méjico?

Eran españoles.

Cuál fué el jefe de estos?

Hernan Cortez.

De qué lugar se dió Cortez á la ve.a?
 De Cuba.

Dónde determinó que fuese su desembarco?

En Vera Cruz.

Qué hizo con sus buques?

Los quemó para impedir la desercion de sus hombres.

Qué hizo luego?

Siguió hácia la ciudad de Méjico.

Quién era el rey de los mejicanos?

Montezuma.

Qué armas usaban los mejicanos?

Flechas y cachiporras ó garrotes.

Qué armas llevaban los españoles?


Fusiles y cañones.

Qué hizo Cortez al llegar á la ciudad de Méjico?

Apoderarse del rey Montezuma.

Cuál fué la suerte de Montezuma?

Lo mataron en un tumulto.



Contreras

LECCION XXIII

Quién fue el sucesor de Montezuma?
Su cuñado Guatimozin.

Qué consiguió Cortez por fin?

Conquistó aquel país y lo subordinó al gobierno de España.

Cuánto tiempo perteneció a España?

300 años, poco mas ó ménos.

Cuándo vino á hacerse independiente?

En el año de 1821.

Cuál es el gobierno de Méjico?

Republicano.

Qué especie de superficie es la del país?

El terreno es bajo en la costa;

pero en el interior es llano y elevado.



Mejicanos.



Mision del monasterio de San Diego.

LECCION XXIV.

Cuál es el clima de Méjico?

En las tierras bajas es cálido y mal sano; pero en las altas es delicioso y sano.

Su suelo?

Es fértil; produce dos ó tres cosechas de maiz por año.

Cuáles son sus producciones vegetales?

Maiz, tabaco, azúcar, algodón, y una gran variedad de frutas y granos.

Cuál es su principal produccion mineral?

La plata, de cuyas minas, que son las mas ricas del mundo, se

esplotan muchos millones de pesos al año.

Qué hay digno de observarse sobre el ganado?


Que se encuentran grandes hatos de reces salvajes, ó sin dueño.

De qué modo cojen las reces?

Con una cuerda hecha de cuero, con la cual las enlazan diestramente de los cuernos.

Qué cosa notable hay que decir de la ciudad de Méjico?

Que es la capital de la república, y la ciudad mas antigua de la América.



Punta del Sauc.

LECCION XXV.

Cuál es la religion establecida?
La católica romana.

Cómo está situada la ciudad de Méjico?

En el centro del territorio comprendido entre el Golfo de Méjico y el oceano Pacífico, y cerca del lago Tezcucuo.

Cuál es su elevacion sobre el nivel del mar?

7,500 piés.

Cuál es la forma de la ciudad?
Un cuadrado perfecto.

Qué dice Humboldt de Méjico?

Que es una de las ciudades más bellas que han edificado los europeos en uno y otro hemisferio.

Qué ciudad le sigue en poblacion?
Puebla, 76 millas al sudeste de Méjico, notable por sus magníficas iglesias.

Cuáles son los principales puertos de mar de Méjico?

Tampico y Vera Cruz.

Qué hace notable á Vera Cruz?

San Juan de Ulloa, cuya fortaleza es una de las mas fuertes de la América.

Qué hay que decir de Jalapa?

Que está situada 60 millas al noroeste de Vera Cruz, entre unas montañas.

Qué lugares son afamados por sus minas de plata?

Guanajuato, Zacatecas y San Luis Potosí.

Qué pueblos y ciudades importantes hay en el interior?

Oajaca, Durango, Chihuahua, Sonora y Arispe.

Qué puertos de mar hay sobre el Pacífico?


San Salvador y Mazatlan.

Qué volcan notable hay en la parte meridional?


El Popocatepetl ó volcan de Puebla, cuya altura es de 17,700 piés.

Qué restos de la antigüedad hay allí?

Lo mas notable es una pirámide llamada *teocali*, en la ciudad de Cholula, cerca de Puebla.



Dificultad para subir las Cordilleras de Méjico



San Diego.

GUATEMALA Ó CENTRO-AMÉRICA.



Viajero descansando por la noche.

LECCION XXVI

Qué territorio abraza Centro-América?

El comprendido entre el istmo de Panamá y el de Tehuantepec.

Cuáles son los estados que constituyen á Centro-América?

Guatemala, Nicaragua, Honduras, San Salvador y Costa Rica.

Quiénes colonizaron estos estados?

Los españoles.

Cuál es la configuración del terreno?

En el interior es elevado y llano, pero á medida que se acerca á la costa es bajo.

Qué clase de clima es el de aquel país?

Suave y sano en las esplanadas elevadas; pero en la costa es cálido y malsano.

das elevadas; pero en la costa es cálido y malsano.

Cuáles son sus producciones vegetales? Azúcar, algodón, café, cacao, arroz, índigo, maiz, caoba, &.

Qué insecto se cultiva estensamente? La cochinilla, pequeño insecto, que da un hermoso color rojo empleado en la tintura.

Cuáles son las producciones minerales?

Oro, plata, cobre, hierro, plomo y zinc.

Qué colonia británica hay al sur de Yucatan?

Baliza, colonia fundada por ingleses.

De qué se ocupan principalmente los habitantes de aquella colonia?

De cortar caoba, palo campeche, cedro, zarzaparrilla, &.

Qué volcan notable hay allí?
El volcan de Cosigüina.

Qué ciudad fué destruida en tiempos pasados por este volcan de agua?
Vieja Guatemala.

Qué sucede respecto de los temblores en aquella parte de la América?

Que son mui frecuentes, y muchas veces causan daños considerables.

HISTORIA DEL DESCUBRIMIENTO DE LAS INDIAS OCCIDENTALES.



Desembarco de Colon.

LECCION XXVII

Cuál fué el primer lugar del hemisferio occidental, donde Colon desembarcó?

San Salvador ó la isla del Gato.

Cuántos años hace que tuvo lugar el descubrimiento de Colon?

Como 360 años.

Porqué llamó Colon estas islas las Indias?

Porque supuso que eran las islas que quedaban al este de Asia.

Cómo se llamaron, cuando se averiguó que no quedaban al este de Asia?


Se llamaron Indias Occidentales, para distinguirlas de las Indias Orientales.

Cómo están divididas las islas de la India Occidental?

En tres grupos: las Grandes Antillas, las Antillas menores, y las Bahamas.

Cómo están divididas las estaciones?

Hay dos solamente, la seca y la lluviosa.



Modo de trasportar la caña.



Plantacion de cañas de azúcar.

LECCION XXVIII.

Qué clima reina?

De mayo á diciembre el clima es cálido y malsano para los extranjeros; pero desde diciembre hasta mayo es el mas bello que puede encontrarse sobre la tierra.

Qué pasa en el otoño?

Reinan furiosos huracanes.

Qué daños causan estos huracanes?


Muchas veces derriban casas, se llevan de raíz las plantaciones enteras, y causan numerosos naufragios.

A qué gobierno están sometidas Cuba y Porto Rico?

Al de España.

A qué gobierno pertenecen casi todas las otras islas?

A la Gran Bretaña.



Indios de las Islas Caribes preparando el cazabe, especie de pan de una raíz muy venenosa, que se beneficia estrayéndola en jugo acro. "Tapioca es una especie de cazabe mas fino, hecho de cierto modo particular."

LECCION XXIX.

Qué es Cuba?

La mas grande de las islas de la India Occidental.

Cuál es la poblacion de esta isla?

1,315,800 habitantes.

Cuál es la capital de Cuba?

Habana, la mas grande é importante de las ciudades de las Indias Occidentales.

Cuáles son las producciones de la isla?

Azúcar, tabaco y café, en abundancia.

Qué otras ciudades hay, de importancia?

Matanzas y Santiago.

Porqué es notable Haití?

Por haber sido el primer lugar que los españoles colonizaron en América.

A qué naciones perteneció en otro tiempo Haití?

A Francia y á España, y se llamó Santo Domingo.

Cuál es hoy el gobierno de Haití?

Su gobierno es hoy republicano.

Cuál es la capital de aquella isla?

Puerto Príncipe.

MAPA DE LA AMÉRICA MERIDIONAL.



LECCION XXX.

MAPA DE LA AMÉRICA MERIDIONAL.

- Qué mar hay al norte de la América del Sur? C-e.
 Qué océano al este? A-o.
 Cuál al oeste? P-o.
 Qué istmo une la América del Sur á la del Norte? P-á.
 Qué cadena de montañas se estiende á lo largo de la costa occidental de la América del Sur? A-s.
 Cuál es el río mas grande del mundo? A-s.
 En qué montañas tiene su nacimiento? A-s.
 En qué dirección corre? E-e.
 Dónde desemboca? A-c.
 Cuántas millas tiene de largo? 4,000 millas.
 Qué anchura tiene la boca del Amazonas? 180 millas.
 Qué río de consideración hay en la parte setentrional de la América del Sur? O-o.
 En qué dirección corre? N-e.

LECCION XXXI.

- Cuál es el río mas grande que se encuentra al sur del Amazonas? R. P-a.
 Qué ríos se unen para formar el de la Plata? P-á y U-y.
 En qué dirección corren estos ríos? S-r.
 Qué río grande corre al sur del cabo de San Roque? S. F-o.
 Qué montañas se estienden á lo largo de la costa oriental? A-s del B-l.
 Cuáles son los principales ríos tributarios del Amazonas, por el sur? M-a, T-z.
 Cuál es la nación mas grande de la América del Sur? B-l.
 Cuáles son los tres países que se encuentran en la parte setentrional? N-a G-a, V-a y G-s.
 Cuáles se encuentran en la parte occidental? E-r, P-ú y C-e.
 Cuáles ocupan el sudeste? B-s A-s, U-y y P-y.
 Qué país se encuentra en la parte del centro, entre Perú y Buenos Aires? B-a.

LECCION XXXII.

- Qué país se encuentra al sur de la América Meridional? P-a.
 Qué país angosto se encuentra entre los Andes y el Pacifico? C-e.
 Qué puerto de mar notable hay en Chile? V-o.
 En qué océano desembocan todos los grandes ríos de la América del Sur? A-o.
 Qué isla grande hay al sur de Patagonia? T-a del F-o.
 Qué estrecho la separa de Patagonia? M-s.
 Qué islas hay al norte de la América del Sur? I-s O-s.
 Qué isla hay en la boca del Amazonas? M-o ó J-s.
 Qué islas hay al este de Patagonia? M-s ó F-d.
 Qué islas hay al oeste de Chile? J-n F-z.
 Cuál al oeste de Patagonia? C-e.
 Qué golfo hay al norte del istmo de Panamá? P-á.

LECCION XXXIII.

- Cuál es la capital del Brasil? R-o J-o.
 Qué cabo hay en la estremidad oriental del Brasil? S. R-e.
 Cuál es el cabo que queda mas al sur de la América Meridional? H-s.
 Cuál es el mas occidental? B-o.
 Qué volcan notable hay en el Ecuador? C-i.
 Cuál es el monte ó nevado mas alto de la América? S-a (25,380 piés).
 En qué país queda el Sorata? B-a.
 En qué parte del Brasil queda el distrito de los diamantes? M-s G-s.
 En qué provincia se explotan las minas de oro? M-s G-s.
 Qué gran lago hay entre Perú y Bolivia? T-a.
 Qué cabo hay al N. de la Nueva Granada? G-s.
 Qué ciudad se encuentra en la bahía formada á la embocadura del río Tocantines? P-a.
 Qué ciudad queda al S. del cabo de San Roque? P-o.

MAPA DE LOS PAÍSES DE LA AMÉRICA MERIDIONAL.



Este mapa se ha sacado de una obra inglesa, en que se descubre la ortografía de los nombres españoles; pero creemos que mientras se substituye por otro mejor que estamos preparando, este será de mucho auxilio para los alumnos.

LECCION XXXIV.

MAPA DE LOS PAÍSES DE LA AMÉRICA DEL SUR.

¿Cuáles son los nombres de las naciones que constituyen la América del Sur?
 N-a G-a, V-a, E-r, G-s, P-ú, B-a, C-e, B-s A-s, P-a, P-y y U-y.

NUEVA GRANADA.

¿Qué mar hay al N. de la Nueva Granada?
 C-e.
 ¿Cuáles son los dos países que quedan al E.?
 V-a y B-l.
 ¿Qué país queda al S.?
 E-r.
 ¿Qué oceano queda al O.?
 P-o.
 ¿Qué cabo al N.?
 G-s.
 ¿Qué río de consideracion corre de S. á N., á desembocar en el mar Caribe ó de las Antillas?
 M-a.
 Entre qué ciudades quedan las bocas del Magdalena?
 C-a y S-a.
 ¿Qué río hay en la parte del S. que linda con el Ecuador?
 C-á.
 ¿Qué río corre hácia el N. E. á desembocar en el Orinoco?
 M-a.
 ¿Cuál es la capital de la Nueva Granada?
 B-á.
 ¿A qué elevacion está Bogotá sobre el nivel del mar?
 A cerca de 10,000 piés.
 ¿Qué istmo une la Nueva Granada con Centro-América?
 P-á.
 ¿Qué ciudad hay en el istmo, sobre el Atlántico?
 A-ll.
 ¿Qué ciudad hay hácia el S., en el mismo istmo, sobre el Pacífico?
 P-á.
 ¿Qué bahía ó golfo hay al S. del istmo?
 P-á.
 ¿Qué bahía hay en la costa occidental?
 C-ó.
 ¿Qué cordillera de montañas hay sobre la costa occidental?
 A-s.
 ¿Qué ciudad hay cerca de los Andes en el S. O.?
 P-n.

LECCION XXXV.

VENEZUELA.

¿Qué mar y qué oceano quedan al N. de Venezuela?
 C-e y A-o.
 ¿Qué país queda al S. E.?
 G-s.
 ¿Cuál al S.?
 B-l.

¿Cuál al O.?
 N-a G-a.
 ¿Cuál es la capital?
 C-s.
 ¿A qué distancia de la costa queda Carácas?
 A 10 millas.
 ¿Cuál es el puerto de mar mas inmediato á Carácas?
 G-a.
 ¿Qué otras dos ciudades de consideracion hay sobre la costa?
 C-o y C-á.
 ¿Qué río grande corre hácia el N. E. á desembocar en el Atlántico?
 O-o.
 ¿Qué gran lago hay hácia el N. O.?
 M-o.
 ¿Qué ciudad hay sobre este lago?
 M-o.
 ¿Qué ciudad hay al S. O. de Carácas?
 V-a.
 ¿Qué ciudad principal hay al S. del lago de Maracaibo?
 M-a.
 ¿Qué sierra se encuentra hácia el S.?
 P-a.
 ¿Qué islas principales hay al N. de Venezuela?
 T-d, M-a, T-o, S. V-o y G-a.

LECCION XXXVI.

GUAYANAS.

¿Qué oceano hay al N. de las Guayanas?
 A-o.
 ¿Qué país queda al S.?
 B-l.
 ¿Cuál al O.?
 V-a.
 ¿Cuáles son los nombres de las tres divisiones que constituyen las Guayanas?
 I-a, H-a y F-a.
 ¿Cuál es la capital de la Guayana Inglesa?
 G-n.
 ¿Cuál la de la Guayana Holandesa?
 P-o.
 ¿Cuál la de la Guayana Francesa?
 C-a.
 ¿Qué ciudad hay en la Guayana Inglesa al S. E. de Georgetown?
 N-a A-m.
 ¿Qué río corre entre la Guayana Francesa y la Holandesa?
 M-i.
 ¿Qué sierra se encuentra hácia el S.?
 A-i.

LECCION XXXVII.

ECUADOR.

¿Qué país queda al N. del Ecuador?
 N-a G-a.
 ¿Qué país queda al E.?
 B-l.

Cuál al S. ? P-ú.
 Qué oceano al O. ? P-o.
 Qué rio hay al N. ? C-á.
 Qué rio queda un poco al S. del Caquetá ? P-o.
 Dónde desembocan estos rios ? A-s.
 Qué rio corre de N. á S. y desemboca en el Tunguragua ? U-e.
 Cuál es la capital del Ecuador ? Q-o.
 Sobre qué cadena de montañas está Quito ? A-s.
 A qué elevacion sobre el nivel del mar está Quito ? A 10,300 piés.
 Qué ciudad hay al S. de Quito ? R-a.
 Qué ciudad hay sobre el golfo de Guayaquil ? G-l.
 Qué ciudad hay al S. O. del Ecuador ? J-n.
 Qué ciudad hay sobre el Tunguragua ? C-a.
 Qué golfo hay en la costa occidental ? O-s.
 Qué volcanes principales se encuentran en el interior del país á corta distancia de Quito ? P-a, A-a y C-i.
 Qué cordillera de montañas se encuentra al O. ? A-s.

LECCION XXXVIII.

PERÚ.

Qué país queda al N. del Perú ? E-r.
 Qué países quedan al E. ? B-l y B-a.
 Qué oceano queda al O. ? P-o.
 Qué montañas sobre la costa occidental ? A-s.
 Qué rio corre de N. á S. á desembocar en el Tunguragua ó Marañón ? U-e.
 Cuál es la capital del Perú ? L-a, á 7 millas del Pacífico.
 Cuál es el puerto inmediato á Lima ? C-o.
 Qué ciudades y villas principales hay sobre la costa, al N. del Callao ? F-l, G-y y T-o.
 A qué distancia queda Trujillo del Pacífico ? A 1 milla.
 Qué pueblos y ciudades hay sobre la costa, ó inmediatas á esta, al S. del Callao ? P-o, I-a, A-o, O-a, A-a, A-a é I-e.

Qué ciudades y villas hay en el interior al N. de Lima ? C-a, Y-y, H-o y C-o de P-o.
 Qué ciudades hay al S. E. de Lima ? G-a y G-a.
 Cuál al N. del lago Titicaca ? C-o.
 Qué lago hay al N. E. de Lima ? R-g, de 90 millas de circunferencia.
 Qué lago hay entre el Perú y Bolivia ? T-a.
 Qué desierto se encuentra al S. del Perú ? A-a.
 Qué cabo hay en la costa, hácia el N. O. ? B-o.

LECCION XXXIX.

BOLIVIA.

Qué país queda al N. de Bolivia ? B-l.
 Cuál al E. ? P-y.
 Cuál al S. ? B-s A-s.
 Qué país y qué oceano al O. ? P-ú y P-o.
 Qué rio hay hácia el N. ? C-e.
 Qué rio hay al E. ? P-y.
 Qué dos rios hay al S. ? P-o y B-o.
 Qué rio corre por el centro, en direccion norte, hácia el Amazonas ? M-a.
 Qué cordillera de montañas hay al O. ? A-s.
 Cuál es la cima mas elevada de los Andes ? S-á á 25,000 piés sobre el nivel del mar.
 Qué sierra hay al nordeste ? G-l.
 Qué desierto al S. O. ? A-a.
 Cuál es la estension de este desierto, de N. á S. ? 300 millas, y 90 de E. á O.
 Cuál es la capital de Bolivia ? C-a.
 Qué villa queda al O. de Chuquisaca ? O-o.
 Cuál queda al N. O. ? C-a.
 Qué ciudad queda al S. ? P-l.
 Qué villa queda sobre el rio Bermejo ? T-a.
 Qué lago está separando á Bolivia del Perú ? T-a.
 Cuál es la longitud del lago Titicaca de N. O. á S. E. ? 150 millas.
 I su ancho de E. á O. ? 70 millas.
 Qué nevado hay al S. E. del lago Titicaca ? I-i.

LECCION XL.

CHILE.

Qué desierto hay al N. de Chile ? A-a.
 Qué país queda al E. ? B-s A-s.
 Cuál al S. ? P-a.
 Qué oceano queda al O. ? P-o.
 Qué cordillera forma el limite oriental ? A-s.
 Cuál es la capital de Chile ? S-o, á 60 millas de la costa.
 Cuál es el puerto mas inmediato ? V-o.
 Qué pueblos y ciudades hay sobre la costa, al N. de Valparaíso ? S-a, C-ó á 30 millas del Pacífico, y H-o.
 Qué otras dos ciudades principales hay al S. ? O-n y V-a.
 Qué islas hay en el Pacífico, 400 millas al O. de Chile ? J-n F-z.

LECCION XLII.

PREGUNTAS QUE SIRVEN DE REPASO.

CIUDADES.

(Dónde quedan y como están situadas.)

Nueva Granada.

Bogotá ? Cartajena ?
 Aspinwall ? Panamá ?
 Popayan ?

Venezuela.

Caracas ? La Guaira ?
 Coro ? Cumaná ?
 Maracaibo ? Trujillo ?
 Valencia ? Mérida ?

Guayanas.

Georgetown ? N. Amsterdam ?
 Paramaribo ? Cayena ?

Ecuador.

Quito ? Guayaquil ?
 Riobamba ? Cuenca ?
 Jaen ? Omaguas ?

Perú.

Lima ? Callao ?
 Guarney ? Ferrol ?
 Trujillo ? Pisco ?
 Ativo ? Ocoña ?
 Arequipa ? Arica ?
 Iquique ? Cajamarca ?
 Huanuco ? Cerro Pasco ?
 Huamanga ? Cuzco ?
 Huancavelica ?

Bolivia.

Chuquisaca ? Oruro ?
 Potosí ? Tarija ?
 Cochabamba ?

Chile.

Santiago ? Valparaíso ?
 Coquimbo ? Huasco ?
 Copiapo ? Concepcion ?
 Valdivia ?

LECCION XLIII.

RIOS.

(En qué países se encuentran, qué direccion tocan y dónde desembocan.)

Magdalena ? Meta ?
 Guainía ? Caquetá ?
 Orinoco ? Maroní ?
 Putumayo ? Tunguragua ?
 Ucayali ? Madera ?
 Chaporé ?

CORDILLERAS.


Andes ? 4,500 millas de longitud.
 Parima ? Sierra Acaray ?
 Sierra Geral ? Andes del Brasil ?

NEVADOS.

Cotopaxi ? Chimborazo ?
 Soratá ? Illimani ?

LAGOS.

Maracaibo ? Ipava ?
 Reyes ? Titicaca ?



Animales de la América Meridional.

LECCION XLV.

CONFEDERACION GRANADINA.

Quién fué el descubridor de la Nueva Granada?

Colon; pero no hizo establecimiento alguno allí.

Cuál fué el primer europeo que desembarcó en el territorio de la Nueva Granada?

El español Rodrigo Bastidas, que con un armamento partió de Sevilla, y desembarcó en 29 de Julio de 1525 en un puerto á que dió el nombre de Santa Marta.

Hizo Bastidas alguna conquista luego que desembarcó en Santa Marta?

Apénas habia conseguido cojer un rico botin de oro en sus primeros movimientos de conquista, cuando sus subalternos, queriendo disponer á su antojo del caudal, lo asesinaron.

Quién fué al fin el conquistador de aquella parte de la América?

Gonzalo Jimenez de Quesada, hombre de ánimo, que con una expedicion bastante numerosa desembarcó en el mismo puerto.

Qué hizo luego que desembarcó allí?

Siguió para Bogotá, donde residia la corte del Zipa ó rey de aquellas comarcas.

Despues de la conquista, cómo se gobernó el país?

Como colonia española.

Hasta qué tiempo?

Hasta el año de 1810, en que comenzó la revolucion que efectuó la independenciam de la España en 1821.

Qué batallas decidieron el triunfo de las armas independientes?

La batalla de Boyacá dada en 1819, y la de Carabobo en 1821.

En ámbas fué completamente derrotado el ejército español, y se vió obligado á evacuar los territorios granadino y venezolano.

valor, por sus talentos, y por el calor con que abrazó la causa de la independenciam.

De aquella época acá, cómo ha sido gobernado el país?

En 1831, poco despues de que Bolivar dejara el mando supremo, Nueva Granada quedó formando una de las tres Repúblicas independientes en que se dividió Colombia.

LECCION XLVI.

Cuál es la estension de la Nueva Granada?

Su área es de 400,000 millas cuadradas, poco mas ó ménos.

Qué poblacion tiene?

2,500,000 habitantes.

Cuál es su capital?


Bogotá, residencia de los altos poderes, ciudad de 50,000 habitantes, bien edificada, cerca de 10,000 piés sobre el nivel del mar, con una universidad, una abundante biblioteca, buenos colejos públicos i privados, escuelas para la enseñanza primaria, varios establecimientos de beneficencia, un museo, un observatorio astronómico, ricas iglesias católicas, buenos paseos y hermosos edificios.

Qué gobierno es el de este país?

Republicano democrático.

Cómo está dividida la República?

En 35 provincias.




Cable Bridge ó puente de cuerdas en la América del Sur.

Cómo quedó constituida Nueva Granada despues de la independenciam?

En 9 de mayo de 1821 se reunió un Congreso jeneral en el Rosario de Cúcuta, que formó una Constitucion é incorporó en una república, bajo el nombre de Colombia, á la Nueva Granada, Venezuela y lo que hoy se llama Ecuador.

A quién nombró el Congreso Presidente de la República?

A Simon Bolivar, hombre que se habia hecho grande por su



Aguila alimentando sus chicos.

LECCION XLVII

Como están administrados los Estados?

Tienen su legislatura de elección popular, un gobernador y tribunales, también elejidos por el pueblo. Los Estados están divididos en distritos, que tienen amplias libertades y facultades municipales.

Cuál es la religión de los granadinos?

La tolerancia de cultos se ha consagrado en las instituciones, como una medida indispensable para el progreso del país: el gobierno no reconoce ninguna religión, y protege el ejercicio de todos los cultos; pero casi todos los granadinos son católicos.

Qué medidas de progreso se han consagrado en los últimos cuatro años, en las instituciones de la Nueva Granada?

Todos los monopolios se han abolido; la prensa ha quedado mas libre que en ningun otro país del mundo; la institucion de la esclavitud fué totalmente abolida, y hoi no existe allí un solo hombre esclavo; y el sistema municipal se ha ensanchado en la misma proporción que se ha descentralizado la administración del país en todos sus ramos.

En punto á vías de comunicación, qué obras notables se han emprendido?

La del ferrocarril de Panamá, que junto con el impulso que se ha dado á la navegacion del rio Magdalena, arteria principal del



Cáscara de coco esculpida con curiosidad por indios de la America del Sur

LECCION XLVIII.

Cuáles son sus producciones vegetales?

Estas son tan variadas como el clima. Abundan el trigo, el maiz, el arroz, las bananas, las yucas, el índigo, la quina, el algodón, la cera de laurel, infinidad de plantas de tinte y medicinales, bálsamos diversos, caucho, cacao, café, tabaco, vainilla, una infinita variedad de frutas— la caoba, el diomate, é igual variedad de maderas preciosas y de tinte.

Cuáles son sus principales producciones minerales?

Oro, platina, plata, cobre, hierro, plomo, &c. Allí se encuentran las únicas minas de esmeraldas finas que existen en el mundo. Hay tambien otras piedras preciosas.

comercio de la República, y á la actividad que se despliega en favor de todas las demas vías, harán de aquel país hospitalario, uno de los puntos principales donde se dirigirá bien pronto una fuerte corriente de inmigración, en favor de la cual se han espedido tambien leyes mui sabias.

Cuál es el aspecto del país?

Tan variado como ninguno otro en América.

Cuál es su clima?

Igualmente variado; pero constante en los respectivos lugares. En los valles es por lo comun caliente, y mas ó menos frio en las cimas de las montañas. El clima es sano en lo jeneral; pero hay localidades malasanas, principalmente en la costa.



Choca de indios en la América Meridional.

LECCION XLIX.

Cuáles son los principales puertos de mar de la Nueva Granada?

Cartajena, Santamarta, Riohacha, Sabanilla y Aspinwall, sobre el Atlántico, y Panamá y Buenaventura sobre el Pacífico.

Cuáles son sus principales rios?

El mas importante es el Magdalena, de que son afluentes principales el Cauca y el Sogamo.

En qué direccion corre el Magdalena, y dónde desemboca?

Corre en la direccion de N. á S., y desemboca en el Atlántico, entre Cartajena y Santamarta.

Cuántas millas de este rio son navegables?

Cerca de 800 millas.

Qué otros rios notables hay?

El San Juan y el Atrato, que

han llamado por lago tiempo la atencion, por las facilidades que prestan para poner en comunicacion los dos oceanos Pacífico y Atlántico.

Dónde desagua el San Juan?

En el Pacífico.

Dónde el Atrato?

En el Atlántico, formando con el golfo de Panamá el arranque del istmo de Panamá.

Cuáles son las principales ciudades de la república?

Bogotá, Tunja, Socorro, Pamplona, Piedecuesta, Cartajena, Panamá, Santamarta, Cali y Popayan.

Cuáles son las provincias donde mas abunda el oro?

En varias se encuentra este mineral, pero es abundantísimo



Comercio.

en la del Chocó; y la de Antioquia explota de sus minas de 4 á 5 millones de pesos anuales.

Qué nevados principales se encuentran en aquel país?

Cumbal, el volcan de Pasto, el páramo de Sotará, el de Puracé, el Tolima, y el páramo de Ruiz.

Qué hay de notable en el Puracé?

Que en la cima de la altura en que arde el volcan hay dos lagunas, una á cerca de 16,000 piés sobre el nivel del mar, y la otra á 17,000.

**LECCION L.
VENEZUELA.**

Cuándo fué descubierta Venezuela?

Cristoval Colon la descubrió en su tercer viaje, en 1498.

Cuál fué el primer pueblo fundado por Alfinger allí?

Coro.

A qué gobierno perteneció Venezuela desde el tiempo de la conquista hasta 1821?

A España.

En qué época se fundó Coro?

En el año de 1534.

Desde qué época comenzaron á hacer esfuerzos los venezolanos por independizarse de la Madre-patria?

Desde el año de 1806.

Cuándo recibió una nueva organizacion Venezuela?

En 1810 proclamaron su independencia varias provincias, y en 1811 se formó de estas una república federativa.

Cuánto tiempo duró esta república?

Solo algunos meses; pues en 1812 volvieron los españoles á destruir el nuevo orden establecido.

Quién fué al fin el libertador de aquel país?

Simon Bolivar, que con comision y recursos dados por el Congreso de la Nueva Granada, sostuvo la guerra contra los españoles, hasta que alcanzó los triunfos de Boyacá y Carabobo, que dejaron definitivamente libres los dos países.



Terremoto de Carácas.

LECCION LI.

Cuál es la estension de Venezuela?

Como 327,000 millas cuadradas.

Cuál es su poblacion?

Poco mas de 1,324,000 de habitantes.

Cuál es su capital?

Carácas, con 50,000 habitantes, una universidad, un seminario, una academia militar, academias de pintura y de música, varias escuelas públicas y colegios particulares, sociedades patrióticas de agricultura y de emigracion, un teatro y otros establecimientos útiles.

Qué acontecimiento notable ocurrió en Carácas en 1812?

Un terremoto que arruinó casi completamente la ciudad, y bajo cuyas ruinas perecieron mas de 12,000 habitantes.

Cuál es el gobierno actual del país?
Republicano democrático.

Cuál es la religion?

En Venezuela hay tolerancia de cultos; pero casi toda la poblacion es católica.

Cuál es el aspecto del país?

Mui variado en la parte montañosa, y sumamente cálido en las grandes llanuras de que se compone la mayor parte del país.

Cuántas estaciones hay allí?

Dos, una lluviosa y otra seca, llamadas *invierno* y *verano*; pero en ellas no se cambia la temperatura.

Cuáles son las principales producciones?

Cacao, café, tabaco, algodón, azúcar, maiz, yucas, plátanos, cocos, y todas las frutas y legumbres de los países tropicales; se esportan entre otras maderas, la caoba, el granadillo y el cedro,—el palo de mora, el brasil y sangre de drago para la tintura; la quina, la zarzaparri-



Casa en que nació Colon, en Génova, Italia.

lla, y muchas gomas y resinas. Se encuentran además allí grandes dehesas de ganado vacuno.

Cuáles son las producciones minerales?

Cobre, que es de una calidad superior, plomo, carbon, mende y sal. El oro y la plata son poco abundantes.

mas notables son el Guaviare, el Meta, el Apure y el Caroní.

Cuántas millas tiene de curso el Orinoco?

1,300, de las cuales cerca de mil docienas son navegables.

Por dónde se comunica el Orinoco con el Amazonas?

Por el caño de Casiquiari que entra en el Rio Negro, afluente del Amazonas, de 150 millas de largo.

Por cuántas bocas desagua este rio en el Atlántico?

Por 17, sobre una estension de 150 millas.

Qué lagos notables tiene Venezuela?

El de Maracaibo y el de Valencia.

Cuántas islas tiene Venezuela?

71, fuera de muchos islotes que rodean estas.

LECCION LII.

Cómo está dividida la República?

En 21 provincias.

Cuáles son sus ciudades principales?

Carácas, Maracaibo, Valencia, Cumaná, y Barcelona.

Cuáles son los principales puertos y plazas de comercio?

La Guaira, Puerto Cabello, Angostura, Maracaibo y Cumaná.

Cuáles son los principales rios?

El Orinoco, cuyos afluentes



Plantacion de café en el Brasil.

¿Cuál es la principal?

Margarita, que forma la provincia de este nombre.

¿Qué nevados principales hay en aquel país?

La Sierra Nevada, cuya elevacion es de 16,500 piés sobre el nivel del mar; Mucuchíes, Salado y Conejos.

¿Qué curiosidad natural se encuentra en la provincia de Cumaná?

La célebre cueva del Guácharo, cuya abertura es de 80 piés de alto y 90 de ancho.

¿Qué profundidad tiene esta cueva?

Cerca de 4,000 piés.

¿Qué ofrece de particular la cueva del Guácharo?

Se cree que es la maravilla mas estupenda de la naturaleza. entre las rocas calcáreas.

LECCION LIII.

ECUADOR.

¿Qué nombre tenia el Ecuador ántes de ser conquistado por los españoles?

Se le conocia con el nombre de Reino de Quito.

¿Quién fué el conquistador del Ecuador?

El español Francisco Pizarro.

¿Hacia qué tiempo fué conquistado este país?

En el año de 1534.

¿Después de la conquista, qué vino á ser el Ecuador?

Hasta 1718 formó parte del vireinato del Perú.

¿Cuándo se desmembró del Perú, á qué país se agregó?

A la Nueva Granada.

¿Cuándo vino á hacerse república independiente?

En 1831, cuando se dividió



Vista de la gran cascada del Niágara, en el río Niágara, entre los lagos Erie y Ontario.

Colombia, de la cual el Ecuador era parte integrante.

¿Cuándo fué lo que hoy se llama Ecuador, conquistado por los Incas del Perú?

Como 20 años ántes de la invasion de los españoles.

¿Qué Inca emprendió la toma del reino de Quito entónces?

Huayna Capac.

¿Cuál es la estension del Ecuador?

200,000 millas cuadradas.

¿Cuántos habitantes tiene?

Mas de 800,000.

¿Cuál es su gobierno?

Republicano democrático.

¿Cuál es la religion del país?

La católica.

¿De qué modo está dividida la república?

En 9 provincias, subdivididas en cantones.

LECCION LIV.

¿Cuál es la capital del Ecuador?


Quito, con una buena universidad, varios colejos, una buena biblioteca, un hospital, varios edificios públicos de regular arquitectura, 10 conventos, varias ricas iglesias, y 60,000 habitantes.

¿A qué elevacion está Quito sobre el nivel del mar?

A mas de 9,000 piés, y á mui pocos minutos bajo la Línea.

¿Qué otras ciudades de importancia tiene el Ecuador?

Guayaquil, puerto principal sobre el río de su nombre, que ha sido últimamente la residencia del gobierno, con 25,000 habitantes, un astillero mui afamado, varios colejos, un hospi-



Minas de cobre en Nuevo México.

tal y una escuela de navegacion, —Cuenca, Loja, San Miguel de Ibarra y Riobamba son tambien ciudades de importancia.

Cuál es la configuracion del país?

El Ecuador está atravesado de N. á S. por la cadena de los Andes, que hace presentar á su terreno facés mui diversas. Al E. abundan inmensas selvas, pantanos y rios, y al O. bosques y esterós, donde el clima es cálido é insalubre.

Porqué es notable el Ecuador?

Por hallarse allí las cimas y volcanes mas elevados de la gran cadena de los Andes, despues

del Nevado de Sorata y el Illimani en Bolivia. —

¿Cuáles son las cimas mas altas?

El Chimborazo, que se eleva á 23,500 piés sobre el nivel del mar, el Nevado de Cayambe á mas de 21,000 piés, el Antisana, que es el volcan mas elevado del globo, y el Cotopaxi.

Hay algunos lagos notables en el Ecuador?

El único digno de mencionarse por su celebridad histórica es el de Yaguarcocha ó Lago de Sangre, en que Huaina Capac venció y degolló 30,000 indios Cañares, con cuya sangre se tiñeron sus aguas.



Puente natural, en Virginia, de 250 piés de elevacion.

LECCION LV.

¿Qué otros volcanes notables hay, fuera del Antisana y Cotopaxi?

El del Altar, Tunguragua, Pichincha y otros.

Dónde quedan estos volcanes?

Casi todos á corta distancia de Quito. El Pichincha, que queda mui inmediato, hizo una erupcion devastadora, que con el terremoto que le acompañó, destruyó en 1797 muchas poblaciones, é hizo perecer mas de 40,000 almas.

¿Cuáles son los principales rios del Ecuador?

El Amazonas, llamado tambien Marañon, el Yupura, que desagua en el Amazonas por

ocho bocas, despues de recorrer un espacio de 1,100 millas hasta su boca principal; el Putumayo, y el Napo, todos afluentes del Amazonas.

Cuáles son los principales puertos del Ecuador?

Guayaquil y Esmeraldas.

Cuáles son las principales producciones vegetales?

Abundan los dilatados bosques del Ecuador en una variedad exquisita de maderas de construccion, como el guachapeli, roble, palo amarillo, marias y otras; la cascarilla ó quina es mui abundante, y de allí viene la afamada quina de Loja. Se dan todos los frutos de las zonas tórrida y templada, y entre su gran diversidad de producciones animales se encuentra la preciosa cochinilla.

Cuáles son las producciones minerales?

Por casi toda la república abunda el oro; se encuentran minas de azogue, plata, cobre, azufre, hierro, esmeraldas, rubíes, y mármoles; hay tambien ricas minas de sal.

Porqué son notables los ecuatorianos?

Por su industria. Entre sus artefactos son afamados sus galones y bordados de oro, sus paños y tejidos de algodón y de lana, su losa y sus sombreros de jipijapa.



Tripulación de un bote, atacada por un boa.

LECCION LVI.

PERÚ.

12? *Qué Inca civilizó el Perú en el siglo*

Manco Capac.

Que pueblos habitaban aquel país ántes del reinado de Manco Capac?

Unos pueblos salvajes y feroces.

En qué año se empezó á colonizar el Perú por los españoles?

En 1523 fundó Pizarro la primera colonia, que se llamó San Miguel.

Qué acción memorable se registra en la historia de la colonización de aquel país?

La de Cajamarca, en que Pizarro derrotó completamente á los peruanos, y se apoderó de Inca Atahualpa.

Cuál fué la suerte de Atahualpa? Pizarro lo mandó degollar.

Quien acompañó luego á Pizarro en las conquistas del Perú?

Diego de Almagro.

Cómo murieron estos dos conquistadores?

Ambos fueron víctimas de una enemistad mútua.

Hasta qué tiempo continuaron los peruanos haciendo esfuerzos por recobrar su independencia?

Hasta 1784, en que Tupac Amaru, que dos años ántes habia sido proclamado Inca por los peruanos, fué cojido por los españoles, y condenado á muerte.

Quién fué el último Inca que hubo en el Perú?

Sairi Tupac, que renunció sus derechos al imperio del Perú en la persona de Felipe II, rey de España.



Vista de Baltimore en Maryland, que es propiamente un Estado del Sur.

LECCION LVII.

Hubo despues algun movimiento en favor de la independencia?

Sí; el Perú estuvo desde 1809 dando pasos en este sentido, hasta 1821, en cuyo año el bravo jeneral San Martin entró á Lima victorioso, despues de haber arrojado de Chile las tropas españolas.

Qué fué lo que le aseguró á los peruanos su independencia?

La batalla de Ayacucho dada por el ejército colombiano á las órdenes del Jeneral Sucre, la cual dejó libre el Continente Americano, del yugo español.

Quién era entónces el jefe de las tropas de Colombia, Perú y Chile?

Bolívar, que fué nombrado Dictador del Perú.

Qué hizo Bolívar de Dictador? Abdicó, instalando un Congreso nacional.

Qué acontecimiento notable ocurrió en 1825?

Un Congreso reunido en Chuquisaca proclamó la independencia de Bolivia, que se llamaba Alto Perú, y la obstinacion con que el Congreso del Bajo Perú se rehusó á reconocer su desmembracion, mantuvo en agitacion aquellos países hasta 1836.

Qué sucedió entónces?

El Perú formó con Bolivia una confederacion, bajo el Jeneral Santacruz, que luego se disolvió.

Cuál es la estension del Perú?

Como 500,000 millas cuadradas, y de costa 510 leguas.



Pesca de la ballena en el oceano Pacifico.

LECCION LVIII.

Cuál es su poblacion?

2,000,000 habitantes.

Qué gobierno tiene este país?

Republicano.

Qué religion es la de los peruanos?

La católica. La antigua era la idolatría; adoraban al Sol, del cual creían que descendían los Incas.

Cómo está dividida la república?

En 16 departamentos y 71 provincias; hay además un territorio considerable habitado por indios independientes, al cual se da el nombre de Pampas.

Cuál es la capital del Perú?

Lima, sobre el río Rimac, con una población de 120,000 habitantes, una catedral bastante hermosa, 55 templos, casa de moneda, varios establecimientos de beneficencia, una afamada universidad, varios colejos, 3 bibliotecas, un teatro, una gran

plaza de toros, y hermosos paseos.

Cuál es el clima de Lima?

Delicioso; y es de notarse que en aquella localidad nunca llueve, pero cae rocío de noche.

Qué dista Lima del Pacifico?

Dos leguas, y está á la altura de 516 pies sobre el nivel del mar.

Qué son los 16 Departamentos y sus capitales?

Piura, Lima, Callao, Yca, Arequipa, Moquegua, Cajamarca, Huancavelica, Ayacucho, Cuzco y Puno, Departamentos con capitales de los mismos nombres, y Libertad, cuya capital es Trujillo; Ancachs, Huaras; Loreto, Moyobamba; Junin, Cerro de Pasco; Amazonas,

Qué aspecto presenta el país?

En la costa, su terreno es llano, arenoso y árido; en lo interior se elevan las majestuosas cimas de los Andes, donde el rigor del frío mata la vegetación; pero los valles son en lo jeneral fértiles y bien cultivados, y presentan aspectos bellísimos.



Vestido de las señoras de las Azores; islas sanas y fértiles, al oriente de la América Setentrional, en el hemisferio occidental.

LECCION LIX.

Cuáles son las capitales de los departamentos de Cuzco y de Lima?

Del primero lo es Cuzco y del segundo la ciudad de Lima ya mencionada.

Qué especie de clima reina en el Perú?

La parte oriental por lo jeneral es cálida y mal sana; en las altas montañas el invierno es perpétuo, y en los valles se encuentra una gran diversidad de climas.

Cuáles son sus principales producciones vegetales?

Trigo, cebada, maiz, yuca, quina, cacao, azúcar, tabaco, maderas varias, y una infinidad de frutas, y de plantas medicinales.

Qué es lo que da al Perú la reputacion de país rico?


Sus muy abundantes minas de oro, plata, azogue, salitre y sal. A principios del siglo pasado se beneficiaban como 80 minas de oro y cerca de 200 de plata.

En qué distritos es que son superiores estos metales?

El oro de San Juan de Oro, de Conchuchos, y de Mayunmarca es el mejor; y es muy estimada la plata de Cerro de Pasco.

Qué es lo que constituye hoy la principal fuente de riqueza del Perú?

El huano de que están cubiertas sus islas inmediatas, y que se emplea para fertilizar la tierra.



Vista de Nueva Orleans.

LECCION LX.

Qué islas notables hay en este país, de las cuales se saca el hilano?

Lobos de Tierra ó de Sotavento, y el archipiélago de 17 islotes, llamado Lobos de Mar ó de Barlovento.

Cuáles son los principales ríos del Perú?

El Alto Amazonas; y el Apurímac, el Jauja y el Ucayale, que con sus aguas engrosan al primero.

Qué lagos notables hay en el Perú?

El Titicaca, que es el segundo, en estension, de la América Meridional; y el de Reyes, que tiene 90 millas de circunferencia.

Qué nevados y picos volcánicos se encuentran en el Perú?

Los mas notables son, el volcan de Guatatiéri á 20,400 piés de elevacion sobre el oceano; el de Arequipa á 20,000, y el nevado de Sasaguanca á 19,500.

Qué es lo que se llama Mesa del lago Titicaca?

Es una llanura situada entre los volcanes de Sorata, Illimani, Guatatiéri, Tacora y Arequipa.

Qué tiene de notable esta llanura?

Que es la mas elevada del mundo, despues de la del Tibet, quedando á mas de 15,000 piés sobre el nivel del oceano.

Cuántas millas tiene la Mesa, en su mayor largo?

330 millas.

Y cuál es su ancho?

Varia de 50 á 116 millas.



Entrada de Lima.

LECCION LXI.

BOLIVIA.

A qué país pertenecía Bolivia ántes de 1825?

Al Perú, y se llamaba Alto Perú.

Qué sucedió en 1825?

Que el Congreso reunido en Chuquisaca, proclamó su independencia, para formar del Alto Perú la república de Bolivia.

Cuál es la estension de Bolivia?

280,000 millas cuadradas.

Cuál es la poblacion de la república?

Como 1,100,000 habitantes.

Qué religion es la de los bolivianos?

La católica, con exclusion de toda otra.

Cómo está dividida Bolivia?

En 6 departamentos, y estos en provincias y cantones.

Cuáles son las principales ciudades?

Chuquisaca, capital de la república, con 25,000 habitantes, una universidad, un colejio, una biblioteca y algunos buenos templos; la Paz de Ayacucho, con 40,000 habitantes, que es la mas floreciente de la república; y Oropesa, Oruro, Potosí, y Santa Cruz, capitales de departamentos.

Qué aspecto presenta el país?

Mui variado.

Qué ríos principales hay en aquel territorio?

El de las Amazonas, cuyo brazo principal llamado Beni nace en los nevados cerca de la ciudad de la Paz; el rio Grande de la Plata ó Mamoré, y el Pangocha ó Pilcomayo.



Cachorros haciendo un dique.

LECCION LXII.

Qué nevados notables se encuentran allí?

El Sorata y el Illimani, que son los mas elevados de la América.

Cuál es el único puerto de este país? Cobja ó Lamar.

Qué desierto notable hay al S. O. de Bolivia?

El desierto de Atacama, sobre el oceano Pacifico.

Cuáles son las producciones vegetales? Todas las de las zonas tórrida y templada.

Qué minerales se encuentran en la república?

Oro, plata, azogue, plomo, estaño, hierro y otros.

Qué mina de consideracion hay en Bolivia?

La mina de plata de Potosí, que es riquísima.

Qué ciudad se encuentra en el lugar en que están las minas? Potosí, á 12,600 piés sobre el oceano.



El ovestrus y sus huesos.



El continente Antártico, descubierto por la expedicion esploradora de los Estados Unidos, el 19 de enero de 1840, siendo su jefe el Señor Carlos Wilkes.

LECCION LXIII.

CHILE.

Qué es Chile?

Un país que pertenecia á los Incas del Perú, que luego formó la Capitanía Jeneral de Chile, y últimamente se constituyó en estado independiente.

Quién fué el primer europeo que invadió á Chile?

Almagro.

Hácia qué año?

En 1535.

Hizo Almagro allí algunas conquistas?

No; pues aunque él y 200 soldados que llevaba, fueron bien recibidos por los chilenos, el país no se les presentó tan rico como el Perú, por lo cual lo abandonaron, para volverse á este.

Despues de esta expedicion, no se dieron mas pasos por los españoles para conquistar á Chile?

Sí; en 1541 mandó Pizarro del Perú á Pedro Valdivia con tropas españolas y peruanas.

Qué consiguió Valdivia?


Se ganó la confianza de los chilenos ó *promaucases*, bajo cuyos auspicios fundó la ciudad de Santiago, y se aseguró del territorio que queda al N. del rio Maule.

Qué otra ciudad fundó Valdivia en 1550?

Concepcion.

Qué tribu se opuso tenazmente á las conquistas de los españoles?

Los araucanos que nunca se les sometieron, y que en la guerra se mostraron mas valientes que los europeos.



Interior de una fábrica de telas de algodón.

LECCION LXIV.

Cuándo se independizó Chile de la España?

En 1817.

Qué batallas se dieron en aquel año, que aseguraran su independencia?

Las de Chacabuco y Maipo.

Cuál es la extensión de Chile?

Como 234,000 millas cuadradas.

Cuál es su población?

Se estima en 1,500,000 habitantes.

Qué gobierno hay allí?

Republicano.

Qué religión?

La católica, con esclusión de todas las demas.

Cómo está dividida la república?

En 13. provincias.

Cuáles son sus principales ciudades?

Santiago, capital de la república.

blica, con 100,000 habitantes, una famosa catedral, casa de moneda, varios ricos templos, y establecimientos de instrucción y beneficencia.—Concepcion, la Serena, Valparaiso, Copiapó y Talca.

Cuáles son los puertos principales?

Valparaiso, Valdivia, Talcahuano, Coquimbo y Caldera.

Qué rios notables se encuentran en la república?


El Maipo, el Maule, el Cauten, el Biobio y otros.

Qué islas se encuentran en el Pacífico, cerca de Chile?

Las de Chiloe y de Chonos son las mas notables.

Cuáles son las producciones minerales del país?

Cobre, de que hay infinidad de minas, plata, oro, azogue y plomo.



Maelstrom, en la costa de Noruega.

Qué produce el país en el reino vegetal?

Su fértil terreno da excelentes maderas de construcción y de tinte, uvas, maiz, arroz, algodón, azúcar, cáñamo, tabaco, y casi todos los frutos de las zonas tórrida y templada.

Qué aspecto presenta el país?


Mui variado; sus valles son amenos y pintorescos, y la gran cordillera de los Andes, que atraviesa el país de N. á S., presenta majestuosas escenas.

Qué volcanes y nevados notables hay en Chile?

El Tupungato, que es casi tan elevado como el Chimborazo, y el Descabezado.

Qué tribu independiente habita la parte del S. de Chile?

Los araucanos, que tienen un gobierno aristocrático-federal.



Cahuya ó puente de cuerdas en la América del Sur.



Tienda en la Guayana Inglesa.

LECCION LXV.

GUAYANAS.

A qué se da el nombre de Guayanas?

A una porción de territorio comprendido entre los ríos Orinoco y Amazonas.

Quién descubrió aquel país?

Cristoval Colon, en 1498; Américo Vespucci y luego Vicente Pinzon exploraron sus costas 2 ó 3 años después; y la primera colonia se estableció allí, por el francés Laravardiére en 1604.

A qué naciones pertenece aquel territorio?

Está dividido entre el Brasil, Venezuela, Francia, la Gran-Bretaña y Holanda.

Qué clima es el de las Guayanas?

En lo jeneral es templado y sano; pero en algunos lugares es cálido y poco saludable.

Qué producen las Guayanas?

Café, azúcar, cacao, clavo, y otras producciones de los climas cálidos y templados.

Cuál es la población de la Guayana Francesa?


23,000 habitantes; su capital es Cayena, con 5,200 almas.

Cuál es la población de la Guayana Inglesa?

150,000 almas; su capital es Georgetown, con 25,000.

Cuál es la población de la Guayana Holandesa?

60,000 habitantes; y su capital, Paramaribo, tiene 20,000.



Entrada de un jardín público en Rio Janeiro.

LECCION LXVI.

BRASIL.

Qué es el Brasil?

El único imperio que existe en la América, compuesto de varias posesiones portuguesas que comprenden un inmenso territorio, y cuyos límites son: por el N. las repúblicas colombianas, las Guayanas y el Atlántico; por el E. el Atlántico; este oceano, Uruguay, Paraguay y Buenos Aires al S.; y Perú, Bolivia y Buenos Aires al O.

Quién fué el descubridor del Brasil?

Pedro Alvarez Cabral, que tomó posesion de él, en 1500, á nombre del rei Manuel, de Portugal.

A qué gobierno perteneció el Brasil, medio siglo despues?

A España, á consecuencia de haberse incorporado á aquel reino Portugal con sus posesiones.

Cuándo se apoderaron los holandeses de casi todo el Brasil?

Durante el reinado de Felipe IV; pero luego que Portugal se independizó, volvió á apoderarse de él.

Cuándo dejó de ser colonia?


En 1807, en que habiendo invadido los franceses á Portugal, la familia real trasladó su corte á Rio Janeiro.

Quién fué el primer emperador del Brasil?

Don Pedro I, que se hizo proclamar como tal en 1824.

En favor de quién abdicó Don Pedro I en 1834?

En favor de Don Pedro II, actual emperador.



Hombres cavando para sacar diamantes.

LECCION LXVII.

Cuál es la estension del Brasil?

256,886 leguas cuadradas.

Cuántos habitantes cuenta el imperio?

Cerca de 9,000,000.

Cuál es la religion del país?

La católica.

Cuál es el idioma comun del imperio?

El portugués; pero se están propagando mucho el francés y el inglés.

Cómo está dividido el imperio?

En 20 provincias, y estas en termos, distritos y *quarteiros*.

Cuál es la capital?

Rio Janeiro, una de las ciudades mas bellas de la América, puerto de mar, con bellos edificios, varios colejos, observatorio, jardin botánico, ricos templos, 3 hospitales, varios teatros,

y paseos deliciosos, y 400,000 habitantes.

Por qué es notable Rio Janeiro?

Por ser la ciudad mas comercial y mas poblada de la América Meridional.

Qué otras ciudades de consideracion hay allí?

San Salvador ó Bahía, ciudad bien fortificada, capital de la provincia de Bahía, y antiguamente del imperio, con un hermosísimo puerto, buenos edificios, varios establecimientos científicos y literarios, un teatro, un hermoso paseo y 180,000 habitantes.—Recife, Belém, San Pablo, Villa Rica y otras.

Hay algunos volcanes en aquel país?

No se conoce ninguno, y hay muy pocas cimas elevadas.



Rinero de cuernos de ciervos cazados por los indios.

LECCION LXVIII.

Cuál es el aspecto del país y cual su clima?

Hacia la costa se estiende la cordillera llamada Andes del Brasil, que dan al país, en su mayor parte cubierto de bosques, mucha variedad. Su suelo es muy fértil y rico en producciones minerales, y su clima muy variado y sano.

Cuáles son las principales fuentes de riqueza del Brasil?

En un país como aquel, donde se hallan casi todas las producciones de la tierra, hay muchas fuentes de industria y de comercio; pero en lo que mas se emplean los habitantes es, en la produccion del algodón, azúcar, café y tabaco, y en la explota-

cion de sus muy ricas minas de oro y diamantes.

Cuáles son los principales rios del Brasil?

El de las Amazonas, el Paraguay, el Paraná, el Uruguay, el Tocantines y el San Francisco.

Cuáles son los picos mas elevados del Brasil?

El Itambe, de solo 6,525 piés de altura; el da Piedade y el Itucumuni, de poco mas de 6,000 piés.

Qué gran isla se encuentra en la embocadura del Amazonas?

La de Marajos ó Joannes.

Qué lagos y lagunas notables hay en el Brasil?

La laguna marítima de Santa Marta, la de los Patos, y el lago Sumarumba.



Plantaciones de azúcar en Jamaica.

LECCION LXIX.
REPÚBLICA ARGENTINA.

De qué se compone la República Argentina?

Se compone de algunas de las antiguas posesiones españolas de la América Meridional.

Cuáles son sus confines?

Al N. Paraguay, los desiertos del Chaco y Bolivia; al O. los Andes, que la separan de la República de Chile; al S. Patagonia y el estrecho de Magallanes, y al E. el Atlántico, el Uruguay y el Brasil.

En cuántas provincias se divide?

En catorce.

Cuál es la forma de su gobierno?

Tiene un gobierno democrá-


tico republicano, con un Presidente elegido por electores nombrados por el pueblo.

Cuál es la extensión de la República Argentina?

Extiéndese desde los 22° hasta los 52° de latitud austral, y desde los 58° hasta los 74° de longitud oeste del meridiano de Greenwich, teniendo una superficie aproximada de 130,000 leguas cuadradas.

Cuál es el aspecto del país?

Una cadena de los Andes corre por todo el lado occidental; la parte oriental se compone de inmensas llanuras llamadas Pampas.



Marinos, procurándose agua dulce de un hurto.

LECCION LXX.

Cuál es el clima?

Cálido en los llanos y regiones bajas; frío en las regiones altas; templado en la embocadura del Río de la Plata, y en general muy sano.

Cuáles son sus producciones vegetales?

En el Norte, azúcar, café, arroz; en el Oeste, vino, seda, algodón, y en el Este maderas abundantes.

Y las producciones animales?

Es uno de los ramos mas importantes de la industria del país la cria del ganado vacuno, caballar y lanar.

Cuáles son sus producciones minerales?

Posee ricas minas de oro, plata y cobre.

Qué religion es la de esta República?

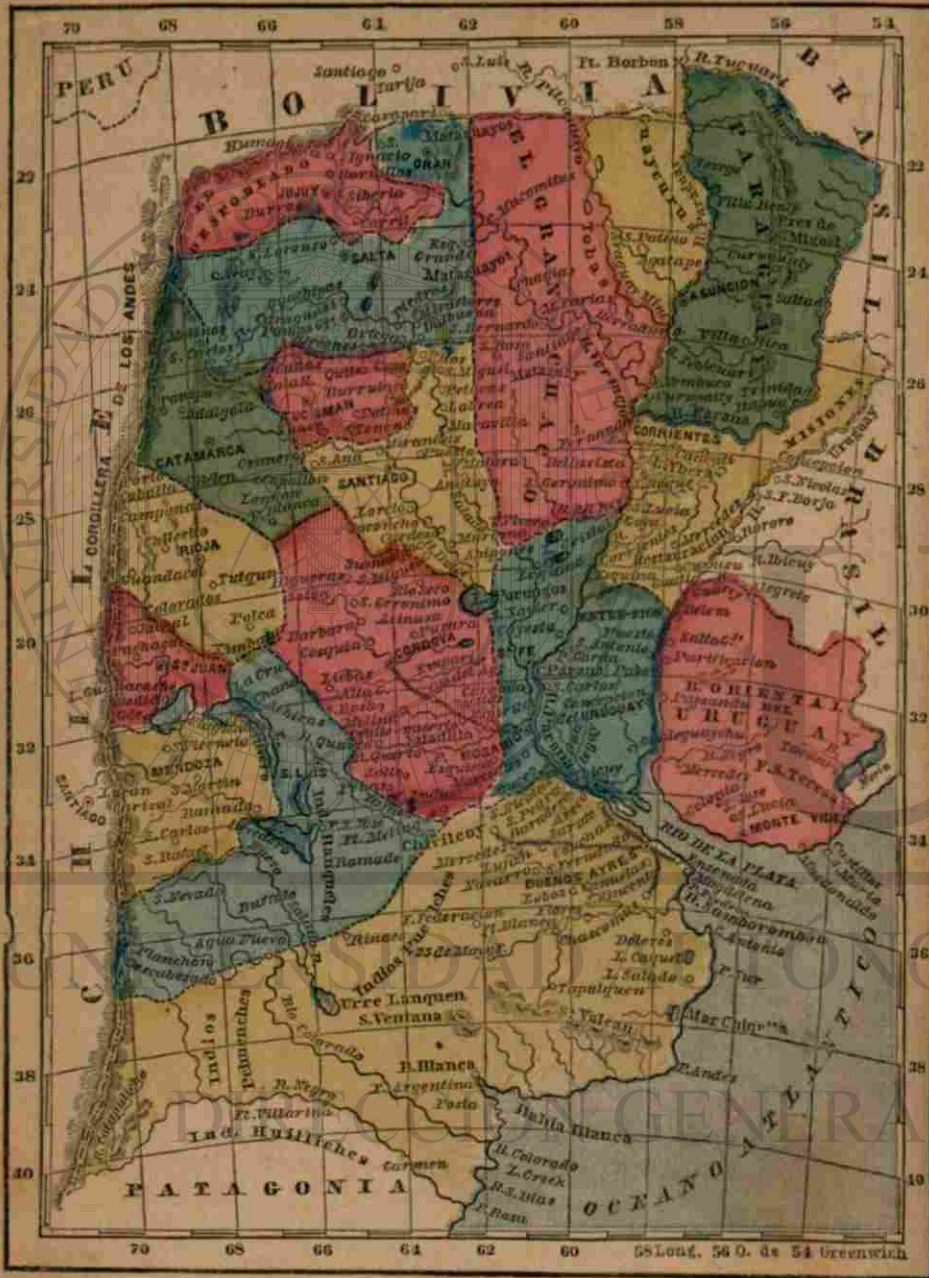
La Católica Apostólica Romana es la dominante, y es mantenida por el Gobierno; pero se toleran los demás cultos.

Cuáles son sus artículos de exportación?

Los principales son cueros, pieles, lanas, carnes saladas y secas, sebo, cerda, cobre y plata.

Y los de importación?

Los diversos artefactos europeos y de los Estados Unidos; café, azúcar y tabaco del Brasil, y yerba del Paraguay.



LECCION LXXI.
REPÚBLICA ARGENTINA.

(Las respuestas á las preguntas que siguen se hallarán estudiando el mapa.)

Cuáles son los límites de la República Argentina?

Al Norte B-a. Al E. P-y, el B-l y U-y. Al S. P-a y el estrecho de M-s. Al O. los A-s.

Qué provincias hay en la parte septentrional?

J-y, S-a, El G-n Ch-o.

Y en la parte oriental? C-s, E-e-R-s.

Y en el Sur? B-s A-s, P-a.

Qué provincias se hallan al Oeste por la cordillera de los Andes?

B-s A-s, S-n L-s, M-a, S-n J-n, R-a, O-a, S-a, J-y.

Y en el centro?

C-a, S-a Fé, S-o del E-o, T-n.

Cuál es la capital de cada provincia, y donde se halla situada?

Buenos-Aires, San Luis, Mendoza, Córdoba, Santa-Fé, San Juan, Rioja, Catamarca, Santiago, Tucuman, Salta, Jujuy, Corrientes, Entre-Ríos.

LECCION LXXII.

Describáns los siguientes rios que se reúnen para formar el de la Plata.

El Paraguay, el Pilcomayo, el Bermejo, el Paraná, el Del-Rey, el Corrientes, el Salado, el Saladillo, el Uruguay, el Dulce, y el de la Plata.

Lagos.

(¿ dónde se hallan?)

La laguna de los Porongos, el Urre, el Laquen, el Bebedero, el Silverio, el Guanacache, el Ybera, el Vivoras, el Cristal.

Bahías.

Bahía Blanca, B. Samborombon.

Cabos.

El C. Santa María, P. Pie-

dras, C. Antonio, P. Sur, P. Andes, P. Rosas.

LECCION LXXIII.

(Ciudades y pueblos de las provincias, y dónde se hallan situados.)

- | | |
|--------------------|------------|
| Buenos Aires? | Zarata? |
| San Nicolas? | Couchas? |
| Villa de Mercedes? | Chascomus? |
| S. Pedro? | Rinaco? |
| Barandero? | |

Santa Fé?

- | | |
|------------|-------------|
| Rosario? | Coronda? |
| Sauce? | Cayesta? |
| Martiales? | S. Javier? |
| Espirita? | F. Esquina? |

La Provincia del Entre-Ríos?

La Concepcion P. Gorda?

del Uruguay? Paraná?

C. Cuatiá? S. Carlos?

Puesto? Ybicuy?

S. Antonio? Gualeguaychu?

LECCION LXXIV.

Corrientes? Esquina?

Empedrado? Caá-Cati?

Restauracion? Coya?

Mercedes? S. Lucia?

Curusú? S. Roque?

Córdoba?

S. Rosa? Pucara?

Fraile Muerto? Rio-Secco?

Salto? Higueras?

F. India? Soto?

Esquina?

Santiago?
 Matara? Maroma?
 Loreto? Anatura?
 Soconcho? Matará?
 Cardoso? Mirandas?

LECCION LXXV.

Tucuman?
 Tenene? Copo?
 Palmas? Quite?
 Burruiaico? Canos?
 Salta?
 Oran? Corconos?
 Ortega? S. Ignacio?
 Balbuena? Molinos?
 Jujuy?
 Humahuaca? Carril?
 Hornillos? Burras?
 Siberia? San Luis?
 San Jose? Rio Quinto?
 La Cruz?

LECCION LXXVI.

Rioja? Guandacol?
 Argentinas? Tutgun?
 Famatina? Chilecito?
 Mendoza? Ramada?
 San Martin? S. Carlos?
 San Vincencio? S. Rafael?
 Catamarca? P. Blanca?
 Belen? Capullon?
 Adalgala? Panipa?
 San Juan?
 Yachal? Pachago?

Territorio del Chaco?
 S. Gerónimo? S. Rosa?
 Fernando? S. Bernardo?
 Santiago?

LECCION LXXVII.

REPÚBLICA ORIENTAL DEL URUGUAY.

Cuáles son los límites de esta República?
 Al Norte y al Este el B-I; al Sur el A-o, y el Oeste el rio Uruguay y el Plata.
 Cuál es su capital?
 M-e V-o, sobre el rio de la P-a.
 Cuáles son las principales poblaciones de la República, y dónde se hallan situadas?
 Santa Lucía, S. José, Colonia, Mercedes, Paysandú, Purificación, Salto, Belm.
 Describe V. los rios Negro, Tacuari y Guarey?
 Qué lago hay en la parte sudeste de la República. El lago Merin.
 Qué rio al confín sudoeste?
 El Rio de la P-a.
 Y al confín occidental? El U-y.
 Y al septentrional? El G-y.

LECCION LXXVIII.

REPÚBLICA DEL PARAGUAY.

Cuáles son los confines del Paraguay?
 Al Norte el imperio del B-I; al Este el B-I y M-s; al Oeste el rio P-y, que la separa del G-n Ch-o y de B-s.
 Cuál es la capital de la República?
 La A-n, situada sobre el rio P-y.
 Cuáles son sus principales poblaciones?
 Itapua, Trinidad, Curupaí, Nembucá, Villarica, Saltado, Curaguati, San Miguel, Villa Real, Tevego.
 Qué rios hay en el Norte del Paraguay? El T-i y el B-o.
 Qué rio tiene su origen cerca de Villarica, y desagua en el Paraguay? El T-i.
 Cuál se encuentra entre Paraguay y Corrientes? El P-a.
 Cuál se halla entre Paraguay y el Gran Chaco? El P-y.

LECCION LXXIX.

REPÚBLICA ARGENTINA.

(SUCEOS HISTÓRICOS.)

Quien descubrió á las provincias de esta República?

Juan Diaz de Solís, por los años de 1515.

Cuál fué el primer establecimiento español en este país?

La ciudad de Buenos-Aires, en la orilla occidental del Rio de la Plata, fué fundada en el año de 1535 por D. Pedro de Mendoza, nombrado Capitan General por el Gobierno del Perú.

Cuánto tiempo dependió del Perú?

Hasta el año de 1778, en que se erigió en Vireinato.

Qué sucesos tuvieron lugar en el año de 1806?

En aquel año el país fué invadido por un ejército inglés, el cual se apoderó de la capital; un pequeño cuerpo de milicia, á las órdenes del General Liniers atacó á los invasores y los obligó á rendirse á discrecion. Poco despues, otro ejército inglés apareció, y fué totalmente destruido.

Qué ciudad fué tomada despues por los ingleses?

Montevideo. En seguida pasaron los ingleses á atacar á Buenos-Aires, de donde fueron rechazados con mucha pérdida.

LECCION LXXX.

Qué recompensa se dió al General Liniers?

Se le dió el Vireinato, por su heroica defensa de la capital.

Cuál fué la causa de su deposicion, pocos años despues?

Liniers quiso someter las provincias á Napoleon, y la llegada del Virey Cisneros ocasionó su deposicion y destierro á Córdoba.

En qué año se independizó Buenos-Aires?

El 25 de mayo de 1810, se emancipó de la autoridad española.

Qué quiso hacer Liniers?

Formó un pequeño ejército, con el cual marchó hácia Buenos-Aires; pero fueron derrotadas sus tropas y él mismo condenado á muerte.

Qué hicieron los Portugueses en medio de las revueltas?

Apoderáronse de la Banda Oriental.

Cuál es la situacion de la Banda Oriental?

Se halla situada en la orilla oriental del rio Uruguay, que lo separa de Entre-Rios.

Quien fué el Gobernador de la mayor parte de las provincias de la orilla Oriental del Rio de la Plata, y del Uruguay.

Artigas.

LECCION LXXXI.

Cuándo se declaró independiente Buenos-Aires?

El 9 de julio de 1816.

Qué hizo Artigas?

Hizo la guerra á los nuevos Estados, de resultas de lo cual el Paraguay formó un Gobierno independiente.

Cuál fué la causa del bloqueo de Buenos-Aires en 1838?

En aquel año Buenos-Aires sufrió un bloqueo por parte de los Franceses, ocasionado por las arbitrariedades de Rosas contra algunos ciudadanos franceses.

Cuánto tiempo duró el bloqueo?

Tres años.

Cuándo se hizo la paz?

La paz se firmó en 1840, por el almirante francés Mackan, y el General Rosas.

En qué año fué bloqueada otra vez Buenos-Aires?

Tuvo que sufrir otro bloqueo en 1845, por los Ingleses y Franceses.

Cuál fué el objeto del segundo bloqueo?

El conseguir que se abriesen los rios interiores del país al comercio de todas las naciones.

Se logró aquel objeto?

No.

LECCION LXXXII.

Qué aconteció en el año de 1851?

El General Urquiza, jefe del ejército de la Confederacion, se declaró contra el poder omnimodo de Rosas, lo cual dió lugar á que rompiesen las hostilidades entre los dos generales.

Cuál fué el resultado de aquellas?

Despues de varios encuen-

tros, se dió la batalla de Monte-Caseros, en que fué derrotado Rosas el 3 de febrero de 1852.

Cuál es la religion de la República?

La Católica Romana.

En cuántas Diócesis se dividen las provincias de la República?

En cinco, á saber:

- 1.ª La de Buenos-Aires,
- 2.ª La de Santa-Fé, Entre-Rios, y Corrientes,
- 3.ª La de Cuyo, San Luis, San Juan, y Mendoza,
- 4.ª La de Córdoba, y Rioja,
- 5.ª La de Salta, Santiago del Estero, Tucuman, y Jujuy.

LECCION LXXXIII.

BUENOS-AIRES.

Cuál es esta Provincia?

Buenos-Aires es, por su extension, poblacion, civilizacion é instituciones, la provincia principal de la República.

Cuál es su capital?

La ciudad de Buenos-Aires es la capital de la Provincia, y lo es tambien de la República.

Dónde se halla situada la ciudad de Buenos-Aires?

Sobre la orilla derecha del rio de la Plata, en una elevacion de 34 piés sobre el nivel del mar.

Cuánta es su poblacion?

La poblacion de Buenos-Aires es de 150,000 (1864).

Cuáles son los límites de la Provincia?
(Véase el mapa.)

Cuáles son sus principales productos?

Los principales son cueros vacunos y lanares, lana, crin y colas de caballo, huesos y astas de vaca, sebo y carne.

Cuáles son sus principales industrias?

Hay fábricas de coches, de muebles, molinos de vapor, talleres de fundicion, curtiembres, destilatorios, y otros muchos ramos importantes de industria.

Cuál es la extension y poblacion de esta Provincia?

Extiéndese la Provincia sobre una superficie de 7,000 leguas cuadradas, y posee una poblacion de 350,000 habitantes.

Cuál es el aspecto de su territorio?

Presenta vastísimas llanuras, onduladas al Norte, é interceptadas por sierras y montañas al Sur.

(NOTA.—El maestro no exigirá que los alumnos aprendan de memoria los nombres de los siguientes partidos, pues no conviene sobrecargar la mente de los niños.)

Cómo se divide la Provincia?

En 53 partidos, que son los siguientes:

Los partidos al Norte: Belgrano, San Isidro, San Fernando, las Conchas, Pilar, Exaltacion de la Cruz, San Pedro, Zárate, Pergamino, San Nicolás, Rajos, San Andrés de Giles, Baradero, Arrecifes; los partidos al Oeste: San José de Flores, Moron, Matanza, San Antonio de Areco, Fortin de Areco, Villa de Lujan, Villa de Mercedes, Chivilcoy, Bragado,

Salto, el 25 de Mayo, Federacion, Navarro, Lobos; los partidos al Sud: Barracas al Norte, Barracas al Sud, Cañuelas, Quilmes, San Vicente, Chascomus, Ranchos, Monte, Ensenada, Pila, Dolores, Tordillo, Ajó, Mar Chiquita, Loberia, Vecino, Tandil, Las Flores, Saladillo, Tapalquen, Azul, Magdalena, Tuyú, Bahía Blanca y Patagones.

LECCION LXXXIV.

PROVINCIA DE SANTA FÉ.

Cuáles son los límites de Santa Fé?
(Véase el mapa.)

Cuál es la capital?

La ciudad de Santa Fé, sobre la orilla derecha del rio Paraná, en la confluencia del Salado.

Cuándo y por quién fué fundada esta ciudad?

En 1580 por D. Juan de Garay, y tiene una poblacion aproximada de 8,000 habitantes.

Qué reunion importante se verificó en Santa Fé en el año de 1853?

La del Congreso Constituyente, para dar á la República una Constitucion, la que fué reformada, en 1860, por una nueva Convencion.

Cuál es la ciudad mas grande de la Provincia?

El Rosario, sobre el rio Paraná, es el principal puerto de tránsito para el comercio del

interior, y tiene una poblacion de sobre 17,000 habitantes.

Qué ferrocarril importante hay en esta Provincia?

En gran ferrocarril central argentino, que une al Rosario con Córdoba.

Cuál es la extension y poblacion de la Provincia de Santa Fé?

Comprende su superficie 4,000 leguas cuadradas, y tiene una poblacion de 45,000 habitantes.

Cómo se divide?

En cuatro departamentos, que se subdividen en distritos: 1.º Departamento de la Capital, 2.º de San José, 3.º de San Gerónimo, y 4.º del Rosario.

Cuál es el aspecto de la Provincia?

Una llanura en toda su extension al Sur, y al Norte inmensos bosques interceptados por campos pastosos.

Cuáles son sus principales rios? (Véase el mapa.)

Cuáles son sus producciones e industrias?

Se crían ganados; dan cosechas abundantes los cereales; hay maderas; carbon de leña; constrúyense buquecitos, y tiene saladeros.

LECCION LXXXV.

PROVINCIA DE ENTRE-RÍOS.

Cuáles son los límites de esta Provincia? (Véase el mapa.)

Cuál es su capital?

La Concepcion del Uruguay,

á orillas del rio del mismo nombre.

Cuándo fué fundada esta ciudad?

En el año de 1783 por D. Tomás Rocamora, y tiene una poblacion de 5,000 habitantes.

Cuál fué la antigua capital de la Provincia?

La Bajada ó Paraná; y tambien lo fué provisoriamente de la República desde 1853 hasta fines de 1861.

Cuál es su poblacion?

Ha sido de 10,000 habitantes, pero hoy no pasa de 5,000. Es el asiento del obispado del Litoral.

Cuál es la extension y poblacion de la Provincia?

Tiene 5,000 leguas cuadradas de superficie, con una poblacion de 100,000 habitantes.

Cómo se divide su territorio?

En 10 departamentos, que son á saber: el Uruguay, el Gualeguay, la Concordia, el Gualeguaychú, la Victoria, el Nogoyá, el Diamante, el Paraná, Villaguay y la Paz.

Cuál es su aspecto?

El de una llanura interceptada por lomas, y en su mayor parte cubierta de bosques.

Cuáles son sus principales rios? (Véase el mapa.)

Cuáles son sus productos?

Ganado caballar, vacuno, lanar y mulas; maderas de construccion, cáscaras para curtimiento; y tiene caleras, yeso y arcillas de toda clase.

LECCION LXXXVI.

PROVINCIA DE CORRIENTES.

Cuáles son los límites de esta Provincia? (Véase el mapa.)

Cuál es su capital?

Corrientes, sobre la orilla oriental del Paraná cerca de la confluencia del rio Paraguay; tiene un magnífico puerto para buques de mucho calado. Su poblacion es de 15,000 habitantes.

Cuáles son los pueblos mas importantes de la Provincia? (Véase el mapa.)

Cómo se divide su territorio?

Se divide en veinte Departamentos, que son: la Capital, Goya, Bella-Vista, Saladas, San Roque, Burucuya, Yaguaretcorá, San Miguel, Caá-cati, Itaty, San Luis, San Cosme, Monte-Caseros, Empedrado, La Cruz, Esquina, Mercedes, Curuzú-Cuatiá, Lomas y Restauracion ó Paso de los Libres.

Qué aspecto tiene esta Provincia?

Presenta un aspecto sumamente pintoresco, siendo una llanura ya cubierta de bosques, ya cruzada de lomas, rios, arroyos y cañadas.

Qué son las Misiones?

Un territorio situado al Norte de la Provincia, con una extension de 2,000 leguas cuadradas.

En qué estado se hallaba este territorio antes de 1776?

Los misionarios Jesuitas se habian establecido allí y afanádose con buen éxito para la con-

version de los naturales hasta 1768, en cuya época se contaban en el territorio como treinta pueblos y 130,000 habitantes.

Qué sucedió á los Jesuitas en aquel año?

Fueron expulsados de las Misiones, y hoy el territorio no es mas que un desierto sembrado de ruinas, tristes recuerdos de su antiguo estado floreciente.

Cuáles son sus rios principales? (Véase el mapa.)

Y sus producciones?

Críanse ganados; se cosechan algodón, tabaco, mandioca, maíz, hay frutas en abundancia, y se hacen quesos, tejidos y bordados.

LECCION LXXXVII.

PROVINCIA DE CÓRDOBA.

Cuáles son los límites de Córdoba? (Véase el mapa.)

Cuál es su capital?

La ciudad de Córdoba, á orillas del rio Primero.

Cuándo y por quién fué fundada esta ciudad?

En el año de 1579 por D. Gerónimo Luis Cabrera.

Qué edificios notables embellecen la ciudad de Córdoba?

Obispado desde 1690, posee hermosas iglesias, una universidad y un colegio nacional.

Cuántos habitantes tiene?

30,000.

Cuáles son los principales pueblos de la Provincia? (Véase el mapa.)

interior, y tiene una poblacion de sobre 17,000 habitantes.

Qué ferrocarril importante hay en esta Provincia?

En gran ferrocarril central argentino, que une al Rosario con Córdoba.

Cuál es la extension y poblacion de la Provincia de Santa Fé?

Comprende su superficie 4,000 leguas cuadradas, y tiene una poblacion de 45,000 habitantes.

Cómo se divide?

En cuatro departamentos, que se subdividen en distritos: 1.º Departamento de la Capital, 2.º de San José, 3.º de San Gerónimo, y 4.º del Rosario.

Cuál es el aspecto de la Provincia?

Una llanura en toda su extension al Sur, y al Norte inmensos bosques interceptados por campos pastosos.

Cuáles son sus principales rios? (Véase el mapa.)

Cuáles son sus producciones e industrias?

Se crían ganados; dan cosechas abundantes los cereales; hay maderas; carbon de leña; constrúyense buquecitos, y tiene saladeros.

LECCION LXXXV.

PROVINCIA DE ENTRE-RÍOS.

Cuáles son los límites de esta Provincia? (Véase el mapa.)

Cuál es su capital?

La Concepcion del Uruguay,

á orillas del rio del mismo nombre.

Cuándo fué fundada esta ciudad?

En el año de 1783 por D. Tomás Rocamora, y tiene una poblacion de 5,000 habitantes.

Cuál fué la antigua capital de la Provincia?

La Bajada ó Paraná; y tambien lo fué provisoriamente de la República desde 1853 hasta fines de 1861.

Cuál es su poblacion?

Ha sido de 10,000 habitantes, pero hoy no pasa de 5,000. Es el asiento del obispado del Litoral.

Cuál es la extension y poblacion de la Provincia?

Tiene 5,000 leguas cuadradas de superficie, con una poblacion de 100,000 habitantes.

Cómo se divide su territorio?

En 10 departamentos, que son á saber: el Uruguay, el Gualeguay, la Concordia, el Gualeguaychú, la Victoria, el Nogoyá, el Diamante, el Paraná, Villaguay y la Paz.

Cuál es su aspecto?

El de una llanura interceptada por lomas, y en su mayor parte cubierta de bosques.

Cuáles son sus principales rios? (Véase el mapa.)

Cuáles son sus productos?

Ganado caballar, vacuno, lanar y mulas; maderas de construccion, cáscaras para curtimiento; y tiene caleras, yeso y arcillas de toda clase.

LECCION LXXXVI.

PROVINCIA DE CORRIENTES.

Cuáles son los límites de esta Provincia? (Véase el mapa.)

Cuál es su capital?

Corrientes, sobre la orilla oriental del Paraná cerca de la confluencia del rio Paraguay; tiene un magnífico puerto para buques de mucho calado. Su poblacion es de 15,000 habitantes.

Cuáles son los pueblos mas importantes de la Provincia? (Véase el mapa.)

Cómo se divide su territorio?

Se divide en veinte Departamentos, que son: la Capital, Goya, Bella-Vista, Saladas, San Roque, Burucuya, Yaguaretcorá, San Miguel, Caá-cati, Itaty, San Luis, San Cosme, Monte-Caseros, Empedrado, La Cruz, Esquina, Mercedes, Curuzú-Cuatiá, Lomas y Restauracion ó Paso de los Libres.

Qué aspecto tiene esta Provincia?

Presenta un aspecto sumamente pintoresco, siendo una llanura ya cubierta de bosques, ya cruzada de lomas, rios, arroyos y cañadas.

Qué son las Misiones?

Un territorio situado al Norte de la Provincia, con una extension de 2,000 leguas cuadradas.

En qué estado se hallaba este territorio antes de 1776?

Los misionarios Jesuitas se habian establecido allí y afanádose con buen éxito para la con-

version de los naturales hasta 1768, en cuya época se contaban en el territorio como treinta pueblos y 130,000 habitantes.

Qué sucedió á los Jesuitas en aquel año?

Fueron expulsados de las Misiones, y hoy el territorio no es mas que un desierto sembrado de ruinas, tristes recuerdos de su antiguo estado floreciente.

Cuáles son sus rios principales? (Véase el mapa.)

Y sus producciones?

Críanse ganados; se cosechan algodón, tabaco, mandioca, maíz, hay frutas en abundancia, y se hacen quesos, tejidos y bordados.

LECCION LXXXVII.

PROVINCIA DE CÓRDOBA.

Cuáles son los límites de Córdoba? (Véase el mapa.)

Cuál es su capital?

La ciudad de Córdoba, á orillas del rio Primero.

Cuándo y por quién fué fundada esta ciudad?

En el año de 1579 por D. Gerónimo Luis Cabrera.

Qué edificios notables embellecen la ciudad de Córdoba?

Obispado desde 1690, posee hermosas iglesias, una universidad y un colegio nacional.

Cuántos habitantes tiene?

30,000.

Cuáles son los principales pueblos de la Provincia? (Véase el mapa.)

Cuál es su extensión y población?

Extiéndese sobre una superficie de 6,000 leguas cuadradas, y tiene 130,000 habitantes.

Cómo se divide esta Provincia?

En trece Departamentos, sin contar á la capital, que son: Tulumba, Calamuchita, Rio Tercero arriba, Rio Tercero abajo, Rio Segundo, Ischilin, Añejos, Pochó, Santa Rosa, San Javier, Rio Seco, Rio Cuarto, y Punilla.

Cuál es su aspecto?

En muchas partes llana, tiene en la occidental, y aislada de los Andes, una meseta que se eleva como á 600 varas sobre el nivel de las pampas, y comunica con la sierra de San Luis y Santiago del Estero.

Cuáles son sus rios principales? (Véase el mapa.)

Diga V. sus industrias y producciones?

Críase ganado vacuno y mulas, siendo estas últimas un artículo de exportacion; las minas dan oro, plata, cobre, hierro y plomo; se fabrican ponchos, frazadas y jergas, y en las tenerías se preparan tafiletos, cordobanes y becerros.

LECCION LXXXVIII.

PROVINCIA DE SANTIAGO.

Cuáles son sus límites? (Véase el mapa.)

Cuál es su capital?

Santiago del Estero, que se halla situada sobre el rio Dulce.

Cuándo y por quién fué fundada esta ciudad?

Esta ciudad, una de las mas antiguas de la República, fué fundada en 1562 por D. Francisco Aguirre.

Hasta qué año fué el asiento episcopal?

Hasta 1690, en que se trasladó el obispado á Córdoba.

Dónde y en qué año fundaron los Jesuitas su primera casa en la América Meridional?

En Santiago del Estero, en el año de 1609.

Cuál es la población de la ciudad?

Como de 8,000 habitantes.

Qué lengua se habla en muchas partes de la Provincia?

La *Quichua*, que es el idioma de los Incas del Perú que existian allí cuando la conquista de estas regiones en 1573.

Cuáles son las principales poblaciones de Santiago? (Véase el mapa.)

Cuáles es su extensión y población?

Su superficie es de 6,500 leguas, y tiene como 86,000 habitantes.

Cómo se divide su territorio?

Divídese la Provincia en siete Parroquias, á saber: Copo, Matará, Silípica, Loreto, Soconcho, Salavina y Sumampa.

Cuáles son sus principales rios? (Véase el mapa.)

Cuáles producciones é industrias son las de esta Provincia?

Críanse excelentes ganados, y hay miel de abejas y cera. Son los productos vegetales: trigo, caña dulce, añil, algodón.

LECCION XC.

Cómo se divide la Provincia de Tucuman?

En nueve Departamentos, fuera de la Capital, que son: Burrezaco, los Graneros, Monteros, Francas, Chiquiligasta, Rio-Chico, Leales, Escalilia y Tafi célebre por sus quesos.

Cuál es el aspecto de su territorio?

Divídese en dos partes, una de llanas, y otra de sierras, cuyo pico principal tiene 6,000 metros de elevacion.

Qué rios tiene?

Hay muchos que descienden de las sierras y caen al rio Salí, el cual corriendo de Norte á Sur forma el rio Dulce de Santiago.

Cuáles son sus productos vegetales?

La agricultura es muy adelantada, cultivándose el arroz, tabaco, uvas, caña de azúcar, trigo, cebada y añil.

Y sus productos animales y minerales?

La cria del ganado forma un ramo principal de su industria; se hacen quesos muy estimados; hay minas de oro, plata y cobre, y canteras de mármol.

LECCION XCI.

PROVINCIA DE SALTA.

Cuáles son los límites de esta Provincia? (Véase el mapa.)

Cuál es su capital?

La ciudad de Salta, situada sobre el rio Barquero, en el valle de Serna.

Los minerales mas abundantes son sal, sosa y hierro meteórico. Fabricanse tejidos de lana y algodón que se tiñen con bellos colores.

LECCION LXXXIX.

PROVINCIA DE TUCUMAN.

Cuáles son los límites de esta Provincia? (Véase el mapa.)

Cuál es su capital?

San Miguel de Tucuman, á orillas del rio Salí, afluente del rio Dulce, ocupa un sitio de los mas pintorescos, entre bosques de naranjos y limoneros. Tiene una población de 16,000 habitantes.

Cuándo fué fundada esta ciudad?

En 1585, por D. Diego Villareal.

Qué sucedió cerca de ella en 1812?

A las inmediaciones de esta ciudad fué destruido en aquel año un ejército español, por el General Belgrao.

Qué suceso importante tuvo lugar en su recinto?

El Congreso General expidió, el 9 de julio de 1816, la declaracion de la independenciam absoluta de las Provincias de la Plata.

Qué extensión y población tiene la Provincia?

Tiene 2,500 leguas cuadradas de superficie, y 60,000 habitantes.

Cuáles son los pueblos de mas importancia? (Véase el mapa.)

Por quién fué fundada esta ciudad?

Por Fernando de Serna, en el año de 1582.

Qué población tiene?

Como 16,000 habitantes.

Qué otro pueblo de importancia tiene la Provincia?

La ciudad de Oran, bajo la administracion de un Teniente Gobernador.

Qué superficie y población tiene la Provincia de Salta?

7,500 leguas cuadradas, y 70,000 habitantes.

Cómo se divide?

En diez y siete Departamentos, que son: la Capital, Caldera, Campo Santo, Cerrillos, Chicuana, Guachipas, Rosario de Cerrillos, Rio del Valle, Molinos, Carmen, San Carlos, Cachi, Oran, Iruya, Santa Victoria, Rosario de la Frontera y Candelaria.

Qué aspecto tiene su territorio?

La parte occidental presenta el aspecto montañoso de los Andes, y la oriental unas llanuras bajas.

Cuáles son sus rios principales?

El Salado que cruzando la provincia toma el nombre de Cachi, el Guachipas, el rio del Pasaje y el Bermejo.

Cuáles son sus producciones?

Ganado vacuno y mulas; se cosechan cereales, tabaco, azúcar, arroz, algodón; se extraen buenas maderas, y hay minas de oro, plata, cobre y azufre.

LECCION XCII.

PROVINCIA DE JUJUY.

Dónde se halla situada esta Provincia?

Ocupa la extremidad Norte de la República.

Cuáles son sus límites?

Al Norte, B-a; al Este y Sur, S-a; al Oeste, los desiertos de la A-a.

Cuál es su capital?

La ciudad de San Salvador de Jujuy, á orillas del rio Grande, ó Jujuy. Tiene una población de 7 á 8,000 habitantes.

Cuándo y por quién fué fundada Jujuy?

En 1592 por D. Francisco Argavoras.

Cuáles son los principales pueblos de la Provincia? (Véase el mapa.)

H-a, C-l, H-s, B-s, S-a.

Qué superficie y población tiene?

Su superficie es de 3,000 leguas cuadradas; y tiene 35,000 habitantes.

Cómo se divide su territorio?

En ocho Departamentos: la Capital, Quebrado de Humahuaca, Perico, Rio Negro, Rinconada, Cochinoca, Yava y Santa Catalina.

Qué aspecto tiene la Provincia de Jujuy?

Es atravesada por grandes cadenas de sierras que se desprenden de los Andes; y tiene tambien hermosos y fértiles valles y extensas llanuras entre las montañas.

Qué clima tiene esta Provincia?

Frio en las alturas llamadas

Puna, á pesar de hallarse casi bajo el trópico de Capricornio; mientras que en la ciudad y en la *Quebrada* se siente una temperatura muy caliente.

Cuáles son sus rios principales?

El rio Grande, ó Jujuy, que es uno de los principales afluentes del Bermejo.

Cuáles son sus producciones?

Las producciones animales consisten en ganado lanar y mulas.

Y las vegetales?

En las alturas se cultivan papas, alfalfa y plantas medicinales, y en la *Quebrada*, trigo, maíz, arroz y caña de azúcar.

Cuáles son los productos minerales, y las industrias?

Se fabrican tejidos de lana; hay oro y otros minerales en la Provincia. La sal es un artículo de exportacion.

LECCION XCIII.

PROVINCIA DE SAN LUIS.

Cuáles son los límites de esta Provincia? (Véase el mapa.)

Cuál es su capital?

San Luis de la Punta.

[NOTA.—Se llama de la *Punta* porque la sierra de Córdoba termina cerca de la misma ciudad.]

Dónde se halla situada la ciudad de San Luis?

Sobre el camino principal de Buenos-Aires á Mendoza, y tiene una población de como 5,000 habitantes.

Cuándo y por quién fué fundada San Luis?

En 1596 por D. Luis Loyola.

Cuáles son los pueblos mas importantes de la Provincia? (Véase el mapa.)

Cuál es su superficie y población.
Tiene 3,500 leguas cuadradas de superficie, y 50,000 habitantes.

Cómo se divide la Provincia?

En seis Departamentos: la Capital, el Saladillo, el Morro, Renca, Santa Bárbara, Quines, San Francisco y Nogolí.

Cuál es el aspecto de su territorio?

Es montañosa la parte que se halla entre los rios Aguadero y Quinto; lo restante es enteramente llano y regado por varios rios.

Qué lago grande hay en la Provincia?

La laguna del *Bebedero*, que recibe las aguas de varios rios que descienden de los Andes.

Cuál es la principal industria de los habitantes de la Provincia?

La crianza de ganados.

Qué minerales tiene?

Posee minas de oro en la sierra de Carolina y el Cerro-Rico.

LECCION XCIV.

PROVINCIA DE MENDOZA.

Cuáles son los límites de esta Provincia? (Véase el mapa.)

Cuál es su capital?

La ciudad de Mendoza, fundada por D. Pedro de Castilla en 1560.

Qué población tenía la ciudad en 1861?
16,000 habitantes.



Terremoto de Mendoza en 1861.

Qué desastre tuvo lugar en Mendoza el 20 de marzo de aquel año?

Un terrible terremoto destruyó completamente la ciudad, sepultando bajo sus ruinas mas de 10,000 personas.

En qué estado se halla hoy (1867)?

Se reconstruye rápidamente, y pronto será otro vez lo que fué.

Qué pueblos de importancia hay en la Provincia? (Véase el mapa.)

Cuál es su extension y poblacion?

Tiene 4,500 leguas cuadradas de superficie, con 90,000 habitantes.

Cómo se divide la Provincia?

En nueve Departamentos, que son: la Capital, villa de San Vicente, del Plumerillo del Bermejo, de la villa de Lujan, de la Cruz de Piedra, de la villa de San Martin, de la villa de la Paz, del valle del Uco, y el de la Frontera que incluye la villa de San Rafael.

Cuál aspecto presenta su territorio?

La parte occidental consiste en valles y declive de las Cordilleras de los Andes; la oriental y austral en llanuras.

Qué pico alto hay cerca de esta Provincia?

El majestuoso Tupungato, cubierto de nieves eternas, uno de los picos mas altos de esta gran Cordillera de los Andes.

Qué rios notables hay en Mendoza?

El rio Mendoza, el Tunuyan, el Desaguadero, el Diamante y el Atuel.

Cuáles son los productos de la Provincia?

Ganados, trigo, maíz, frutas secas, excelentes vinos, etc. Tiene minas de oro y plata, y hay tambien carbon de piedra, mármol, piedra caliza y de yeso.

LECCION XCV.

PROVINCIA DE SAN JUAN.

Cuáles son los limites de San Juan?

(Véase el mapa.)

LECCION XCVI.

PROVINCIA DE LA RIOJA.

Cuáles son los limites de esta Provincia? (Véase el mapa.)

Cuál es su capital?

La ciudad de Rioja, en una dilatada llanura, cerca del centro de la Provincia.

Cuál es su capital?

En 1591 por D. Juan Ramirez de Velazco. Tiene 4,000 habitantes.

Qué casa ha establecido en ella el Gobierno?

Una casa de moneda, en que se han acuñado monedas de oro y plata.

Cuáles son los pueblos mas notables de la Provincia? (Véase el mapa.)

Qué extension y poblacion tiene?

Su superficie es de 4,200 leguas cuadradas, y su poblacion de 45,000 habitantes.

Cómo se divide la Provincia?

En seis Departamentos, que son: Tamatina, Guandacal, Arauco, Costa de arriba llanos, Costa bajo-llanos, y el Departamento de Chepes.

Cuál es el aspecto del territorio?

Una parte de la Provincia es llana: está situada entre sierras y valles terminados por una llanura llamada *Llanos de la Rioja*.

Cuál es el rio principal?

El Colorado, ó Bermejo, que nace en los Andes y va á perderse en el desierto de las Salinas.

Cuál es su capital?

La ciudad de San Juan, á orillas del rio de este nombre. Tiene una poblacion de 15,000 habitantes.

Cuándo y por quién fué fundada?

En 1560 por D. Gerónimo Yafre. Es asiento del obispado de Cuyo.

Qué pueblos notables hay en la Provincia?

Las villas Argentina, de Yachal y de Pachago.

Cuál es su extension y poblacion?

Tiene 3,500 leguas cuadradas, con 70,000 habitantes.

Cómo se divide la Provincia?

En doce Departamentos, que son: la Capital, Yachal, Valle Fértil, villa Argentina, Albarodon, Posito, Pinchagual, Cochagua, Ullum, Zonda y Rebida.

Qué aspecto tiene su territorio?

En la falda de los Andes hay muchas serranías; lo restante de la Provincia es llano.

Cuáles son los rios mas importantes?

El *Rio de los Patos de San Juan*, el cual se desagua en las lagunas de *Guanacache*.

Cuáles son sus producciones?

Coséchanse maíz, trigo, arroz, tabaco, azúcar, lino y cáñamo.

Cuáles son sus industrias?

La fabricacion de vinos y aguardientes, pasa de uva, y hay compañías para la explotacion de las minas.

Cuál es el estado de la agricultura de esta Provincia?

Produce solo para el consumo.

Cuáles son los productos minerales?

Hay 32 minas de plata, 2 de oro, 3 de cobre y 19 de plomo en la sierra de Tamatina.

LECCION XXVII.

PROVINCIA DE CATAMARCA.

Cuáles son los límites de esta Provincia? (Véase el mapa.)

Cuál es su capital?

La ciudad de Catamarca, en la falda occidental de las sierras de Ambato. Tiene 6,000 habitantes.

Dónde fué fundada primeramente la ciudad?

En el valle de San Juan de la Rivera por D. Francisco de Lima, en 1683: abandonada por causa de los Indios, fué transportada al valle Viejo, y arruinada allí por una inundación, fué reedificada en el sitio que hoy ocupa.

Qué pueblos importantes hay en esta Provincia? (Véase el mapa.)

Qué extensión y población tiene?

Es su superficie de 4,800 leguas cuadradas, y su población de 60,000 almas.

Cómo se divide su territorio?

En ocho Departamentos, que son: la Capital, Piedra Blanca, Ancasto, del Alto, Andalgalá, Santa María, Belem y Tinogasta.

Cuál es el aspecto de la Provincia?

Presenta un aspecto montañoso en su mayor parte, y la atraviesan espolones de la gran Cordillera, cubiertos de nieve durante el invierno.

Qué ríos de importancia tiene?

El Calchaquí y el Belem, y muchos pequeños que se pierden en las llanuras arenosas.

Cuáles son sus principales producciones?

Trigo, vinos, frutas secas, algodón que crece espontáneamente, caña de azúcar. Hay muchas minas en esta Provincia.

LECCION XXVIII.

TERRITORIO DEL CHACO.

Qué es el gran Chaco?

Es una inmensa region que se extiende sobre una superficie de 27,000 leguas cuadradas, y pertenece á la República Argentina.

Cuáles son sus límites? (Véase el mapa.)

Quién habita este territorio?

Es ocupado por indios salvajes.

Qué clima tiene?

Un clima sano aunque caluroso; tiene grandes bosques, y terrenos muy fértiles.

Cuáles son los dos grandes ríos que forman sus límites orientales? (Véase el mapa.)

Y los dos grandes ríos que la atraviesan de Noroeste á Sudeste? (Véase el mapa.)

LECCION XXIX.

REPÚBLICA ORIENTAL DEL URUGUAY.

Cuál es la República del Uruguay?

Es un Estado independiente, que linda al Sur con el río de la Plata y el Océano Atlántico.

Qué extensión y población tiene?

Tiene una superficie de 15,000 leguas cuadradas, con una población de 280,000 habitantes.

Cuál es su Gobierno?

Por el tratado firmado el 27 de agosto de 1828, esta constituido este país en República independiente con dos Cámaras, una de Representantes, y otra de Senadores, y un Presidente nombrado por las Cámaras.

Cuáles son los límites de la República? (Véase el mapa.)

Cuál es su capital?

Montevideo, plaza fuerte, sobre una hermosa bahía, cerca de la embocadura del río de la Plata.

Quién descubrió primero este país?

D. Juan Díaz de Solís, en 1516.

Diga V. algunos de sus pueblos de más importancia?

La Colonia, á orillas del río de la Plata, fundada por unos Portugueses en 1681, con el nombre de Sacramento. Hay otros varios pueblos importantes, entre los cuales pueden citarse Santa Lucía, San José, Mercedes, Paysandú, Purificación, Salto y Belim.

Cómo se divide la República?

En nueve Departamentos, que son: Montevideo, Maldonado, Canelones, San José, Colonia, Lorianó, Paysandú, Durazno y Cerro Largo.

Cuáles son las ventajas de la República?

Con un suelo fértil, un clima sumamente sano, gran número de puertos cómodos, posee todos los elementos que reunidos forman un país próspero y populoso.

Cuáles son los hechos históricos más notables de los primeros años de esta República?

A principios del siglo XVIII fué establecida en Montevideo una colonia de 120 familias de las islas Canarias. El país se conocía entonces con el nombre de la *Banda Oriental*.

Qué tuvo lugar en 1822?

En aquel año el emperador del Brazil se apoderó de Montevideo, lo que dió lugar á una guerra obstinada entre aquel país y Buenos Aires.

Cómo pudo ponerse fin á la guerra?

Mediando la Gran Bretaña, fué firmado un tratado de paz, el 27 de agosto de 1828, quedando la Banda Oriental como Estado independiente.

Quién quiso usurpar el Gobierno?

El General Oribe, el cual, movido por el deseo de ser á todo costo presidente de la República, sitió diez años á Monte-

video, hasta que fué derrotado, y el país restablecido á la paz, por el General Urquiza en 1852.

LECCION C.

REPÚBLICA DEL PARAGUAY.

Dónde se halla situada esta República?

Linda al Sudeste con la República Argentina.

Cuáles son sus límites? (Véase el mapa.)

Cuál es su superficie y población?

Tiene 18,000 leguas cuadradas de superficie, y una población de 300,000 habitantes.

Qué clima tiene?

Un clima suave y sano. Es un país extremadamente fértil.

Cuál es su capital?

La Asuncion, sobre el rio Paraguay. Tiene una población de 15,000 almas.

Qué pueblos notables hay en la República?

Nembucú, Villarica, Ytapua, Salto de Yguazú, Villa Real, Curuguatí, Tenejo, San Miguel.

Quién es el jefe de la República?

Tiene un Presidente, nombrado por diez años.

Cómo se divide su territorio?

En 20 Departamentos.

Quién fué llamado descubridor del Paraguay?

Sebastian Cabot subió por el rio Paraná hasta Santa Fé, en 1526, por lo que fué llamado descubridor del Paraguay.

Cuándo fué constituido el Paraguay dependencia de España?

En 1610, cuando algunos misioneros jesuitas emprendieron con buen éxito la conversion de los indios Guaranís.

Cuánto tiempo permanecieron los misioneros en el país?

166 años, es decir hasta 1776 cuando fueron expulsados de las posesiones españolas.

Qué forma de Gobierno tuvo al principio el Paraguay?

Fué nombrado un gobernador por el gobierno de España en 1776.

Qué cambios hizo el primer gobernador?

Se hizo una provincia del gobierno del rio de la Plata.

Qué cambio de gobierno se verificó en 1814?

El célebre Dr. Francia se hizo nombrar dictador vitalicio en aquel año.

Cómo ejerció la dictadura?

Valiéndose de un poder ilimitado, recurrió á toda suerte de arbitrariedades, haciendo pesar un yugo de hierro sobre el Estado.

Qué cambio tuvo lugar en 1840?

Murió el Dr. Francia, y le reemplazó D. Carlos López, nombrado presidente del Paraguay.

Qué tratado importante hizo López?

Mandó ministros para tratar con el General Urquiza para la libre navegacion de los rios Paraná y Uruguay, asegurando así un porvenir brillante á una y otra República.



Habitantes naturales de la Tierra del Fuego, isla que queda cerca de la parte meridional de este continente. Son morenos, se pintan, y solo se cubren con una piel de foca.

LECCION CI

PATAGONIA.

A qué se da el nombre de Patagonia?

A un vasto territorio que se estiende como 1,200 millas al S. de Buenos Aires, donde la aspereza del clima, y esterilidad consiguiente del país, hacen que el número de sus pobladores sea mui corto.

Quién descubrió aquella rejion?

Fernando Magallanes, en el año 1519; y de este portugués tomó tambien el nombre de Tierra Magallánica.

Han establecido las naciones europeas algunas colonias allí?

No; pues la inclemencia del invierno las ha retraido de semejante empresa.

Qué pueblo ha establecido allí el gobierno de Buenos Aires?

San José, no mui distante de la ciudad de Buenos Aires.

Qué tribus de indios independientes habitan aquel país?

Las que se distinguen con el nombre de *Molucos, Puelches, Araucanos, Tehuelches, &c.*; se llaman *Araucanos* los indios que habitan en las fronteras de Chile; *Indios Pampas*, los fronterizos con Buenos Aires; y *Patagones*, los que habitan al S. de los anteriores.

Qué son los Patagones?

Los indios mas brutos, indolentes, y desaseados que hay en toda la América. No tienen ni aun chozas donde refugiarse durante los rigores del invierno, y son la raza de hombres mas altos que se conocen, encontrándose algunos de 7 piés de altura.

Cuáles son las mas civilizadas de las tribus mencionadas?

Los Araucanos, la raza mas noble de indios que se conoce.

Cuál es el número de indios que se encuentran en toda la Patagonia?

Algunos creen que no bajan de 400,000.

MAPA DE LA AMERICA SETENTRIONAL.



LECCION CII.

MAPA DE LA AMÉRICA SETENTRIONAL.

- Qué océano hay al N. de la América Setentrional? A-o.
- Cuál al E.? A-o.
- Qué golfo hay al S.? M-o.
- Qué océano hay al O.? P-o.
- Qué país queda al N. O. de la América del Norte? A-a R-a.
- Qué país queda al N.? A-a I-a.
- Cuál al N. E.? G-a.
- Qué país se encuentra al S. de la América Inglesa? E-s U-s.
- Entre qué océanos están situados los Estados Unidos? A-o y P-o.
- Qué país hay al S. de los Estados Unidos? M-o.
- Cuál al S. E. de Méjico? G-a.
- Qué istmo une á Guatemala con la América del Sur? P-á.
- Qué mar hay al E. de Centro-América? C-e.
- Qué bahía hay entre la América Inglesa y Groenlandia? B-n.

LECCION CIII.

- Qué gran bahía hay en la América Inglesa? H-n.
- Qué gran golfo se encuentra al S. de los Estados Unidos? M-o.
- Cuál al O. de Méjico? C-a.
- Qué estrecho queda á la entrada de la bahía de Bafin? D-s.
- Qué estrecho hay entre Asia y la América Setentrional? B-g.
- Qué gran río corre á desembocar en el golfo de Méjico? M-i.
- Qué gran afluente tiene el Misisipi por el E.? O-o.
- Cuáles por el O.? M-i y A-s.
- Qué río de consideración hay en Oregon? C-a.
- Dónde desemboca? P-o.
- Qué río desemboca en la bahía de Hudson? N-n.
- A qué lago le sirve el río Nelson de desagüadero? W-g.
- Cuáles son los 5 grandes lagos que se encuentran al N. de las Estados Unidos? S-r, H-n, M-n, E-e y O-o.

LECCION CIV.

- Qué lagos de consideración hay al N. O. de la bahía de Hudson? E-o y O-o.
- Cuál es el mas grande de estos lagos? S-r.
- Qué cabo hay al S. de Groenlandia? F-ll.
- Qué cabo se encuentra en la estremidad meridional de la Vieja California? S. I-s.
- Qué isla hay al E. de Groenlandia? I-a.
- Qué isla hay al E. de la América Inglesa? T-a N-n.
- Qué islas se encuentran al S. E. de los Estados Unidos? I-s O-s.
- De estas islas, cuáles son los cuatro mas grandes? C-a, H-i, J-a y P-o R-o.
- Qué islas hay en el Atlántico al E. de los Estados Unidos? B-a.
- Qué isla se encuentra al N. O. de Oregon? V-n O-s.
- Qué cordillera de montañas se encuentra en la parte occidental de la América del Norte? M-s R-s.

LECCION CV.

- Qué nombre toma esta misma cadena en Méjico? C-s M-s.
- Qué cordillera hay en la parte oriental de los Estados Unidos? M-s A-y.
- Qué monte elevado hay en la América Rusa? S. E-s.
- Cuál es la ciudad mas grande de América? N. Y-k.
- Cuál es la capital de los Estados Unidos? W-n.
- Qué ciudad de consideración hay cerca de las bocas del Misisipi? N. O-s.
- Qué isla grande se encuentra á la entrada del golfo de Méjico? C-a.
- Cuál es la capital de Cuba? H-n.
- Qué península hay al N. de Cuba? F-a.
- Cuál al O. de la misma isla? Y-n.
- Cuál al O. de Méjico? V-a C-a.
- Qué bahía hay al N. de Guatemala? H-s.
- Cuál al O. de Yucatan? C-y.
- Qué isla hay al S. de Cuba? J-a.



El Misionero inglés, Mr. West, cerca del lago Winipeg, visitando a unos indios, á quinientas millas de su estación, en un trineo tirado por perros. Cada perro puede arrastrar, sobre una superficie lisa de nieve, como doscientas libras; andando así, á veces, á rason de sesenta millas por día.

LECCION CVI.

AMÉRICA SETENTRIONAL.

Cuál es la estension de la América Setentrional?

Su longitud de N. á S. es de 4,500 millas, y el término medio de su anchura de E. á O. es 2,600.

Cuál es su poblacion?

Se calcula en 40,000,000 de habitantes.

Qué razas componen esta poblacion?

La blanca, la negra y la india.

De dónde salieron los blancos que hay allí?

De Europa.

Y los negros?

Fueron traídos del África, y vendidos como esclavos.

Qué hay que decir sobre los indios?

Que eran los habitantes de América cuando esta fué descubierta.

Quién descubrió la América?

Cristoval Colon, en 1492.

Quién equipó la expedicion de Colon?

Fernando é Isabel, reyes de

España.

Dónde creia Colon que iba á parar?

En el Asia.

En qué direccion iban los europeos á la India?

En direccion E.

Qué rumbo tomó Colon?

El O.

Porqué se dirigió hácia el O. para ir á la India?

Porque sabia que la Tierra era redonda, y creia que podria dar la vuelta por el otro lado.



Chozas subterráneas en las regiones setentrionales.

LECCION CVII.

Cuántas veces visitó Colon la América?

Cuatro, y en el tercer viaje descubrió el continente de la América Meridional.

De quién tomó la América su nombre?

De Amérigo Vespucci.

Cuándo visitó Vespucci aquel continente?

Siete años despues de que Colon lo descubriera.

Porqué se llamó América?

Porque Amérigo Vespucci fué el primero que publicó una descripción del país, y descubrió que no formaba parte de Asia.

Porqué llamó Colon á los habitantes de este país Indios?

Porque creia que el país que habia descubierto era la India.

Qué clase de jente eran los indios?
Salvajes, que vivian de la caza y de la pezca.

Cuáles son los pobladores del N. de la América Setentrional?

Los esquimales.

Cómo viven los esquimales?

En chozas hechas de hielo y nieve.

De qué se visten?

De pieles.

Qué vehiculos usan para viajar, &ª?

Trineos tirados por perros.

A qué país pertenece Groenlandia?

A Dinamarca.

Qué animales hay en Dinamarca?

Perros, osos blancos y rengíferos.

Qué clima es el de aquel país?

Es un país frio y estéril.

Cómo se alimentan los habitantes de la Groenlandia?

Con pescado, buey marino, &ª.

LECCION CX.

Cuáles son los cinco estados que quedan sobre el golfo de Méjico?

F-a, A-a, M-i, L-a y T-s.

Cómo están divididos los Estados Unidos?

En estados del Este, del Medio, del Sur y del Oeste.

Cuáles son los Estados del Este?

Los que quedan al E. de Nueva-York.

Cuántos son estos?

Seis: M-e, N. H-e, V-t, M-s, R-a I-a y C-t.

Qué nombre se le da á estos estados en los Estados Unidos?

El de Estados de Nueva Inglaterra.

Cuántos son los Estados del Medio?

Cuatro: N. Y-k, N. J-y, P-a y D-e.

Cuántos son los Estados del Sur?

Diez: M-a, V-a, C-a del N., C-a del S., G-a, F-a, A-a, M-i, L-a y T-s.

Cuántos son los Estados del Oeste?

Treos: A-s, T-e, K-y, O-o, M-n, I-a, I-a, W-n, M-i, C-a, M-a y O-n.

Cuántos territorios hay?

Siete: N. M-o, U-h, I-o, N. O., N-a, K-y y W-n.

LECCION CXI.

ESTADOS DEL ESTE.

Cuál es la capital de

Maine? A-a.

Nueva-Hampshire? C-a.

Vermont? M-r.

Massachusetts? B-n.

Roda-Islanda? { Providencia.
Newport.

Connecticut? { Hartford.
New-Haven.

ESTADOS DEL MEDIO.

Cuál es la capital de

Nueva-York? A-y.

Nueva-Jersey? T-n.

Pensilvania? H-g.

Delaware? D-s.

LECCION CXII.

ESTADOS DEL SUR.

Cuál es la capital de

Marilanda? A-s.

Virginia? R-d.

Carolina del Norte? R-h.

Carolina del Sur? C-a.

Georgia? M-e.

Florida? T-e.

Alabama? M-y.

Misisipi? J-n.

Luisiana? B-n R-e.

Tejas? A-n.

LECCION CXIII.

ESTADOS DEL OESTE.

Cuál es la capital de

Arcansas? L-e R-k.

Tenese? N-e.

Kentucky? F-t.

Ohio? C-n.

Michigan? L-g.

Indiana? I-s.

Illinois? S-d.

Wisconsin? M-n.

Minesota? St. P-s.

Iowa? I-a.

Misuri? J-n.

California? V-o.

Oregon? S-m.

TERRITORIOS

Cuál es la capital de

Nuevo-Méjico? S. Fé.

Utah? F-e.

El territorio de los indios?

El territorio del Nordoeste?

Nebraska? Kansas?

Washington?

EL PADRE DE SU PATRIA.



EL PRIMERO

EN LA

GUERRA.

EL PRIMERO

EN LA

PAZ.

EL PRIMERO

EN LOS

CONFERENCIAS

DE

SUS

CONCIUDADANOS.

Gen. Washington, primer Presidente de los Estados Unidos.

HISTORIA Y DESCRIPCION DE LOS ESTADOS UNIDOS.

LECCION CXIV.

Quiénes establecieron las primeras colonias en los Estados Unidos?

Los españoles.

En qué lugar se establecieron estas?

En San Agustín, en Florida, en 1565.

Cuál fué el primer lugar que colonizaron los ingleses?

Jamestown, en Virginia, en 1607.

Cuál el primero que colonizaron los franceses?

Annapolis, en Nueva-Escocia, en 1605.

Cuántos años pasaron despues de la colonizacion de Jamestown, hasta la revolucion de 1775?

168 años.

A qué gobierno estaban sujetas la mayor parte de las colonias?

Al gobierno británico.

Porqué vinieron las colonias á manifestarse descontentas con el gobierno británico?

Porque se les impusieron por él, fuertes contribuciones, sin su aquiescencia.

Cuándo comenzó la revolucion?

En 1775.



Cora de Ayuntamiento en Filadelfia.

LECCION CXV.

Dónde tuvieron lugar las primeras batallas?

En Lexington y Bunker Hill, en Massachusetts.

Cuánto fué que las colonias se declararon independientes?

El 4 de Julio de 1775.

Cuánto duró la guerra?

Como 8 años.

Quién fué nombrado "Comandante en Jefe" del ejército americano?

Jorge Washington, de Virginia.

Cuál fué el resultado de la guerra?

Que los americanos se hicieron independientes.

Qué forma de gobierno establecieron entonces?

El gobierno republicano.

Quién fué el primer Presidente que eligieron?

El jeneral Jorge Washington.

Cómo se llama ahora este jeneral en los Estados Unidos?

El Padre de su Patria.

Cuántos años fué Washington Presidente?

8 años, ó dos periodos.

De cuántos estados se componia entonces la Unión?

De 13.

Cuántos estados se le han agregado de entonces acá? (1860.)

20.

Qué son los Estados Unidos, comparados con los otros países de la América?

El país ma poblado y poderoso de la América.

Qué poblacion tienen los Estados Unidos?


Cómo 30 millones de habitantes.

Cuál es la estension de la república?

Como 3,000 millas del Atlántico al Pacífico, y 1,700 de ancho.

Qué hay que decir sobre su comercio?

Que despues de la Inglaterra, su comercio es mayor que el de toda otra nacion del mundo.



Indios atacando á los primeros colonos.

Qué se puede decir de sus vapores y demás embarcaciones?

Que son los buques mas lijeros que se construyen en el mundo.

Qué puede decirse de sus ferrocarriles?

Que hay mas de 25,000 millas de caminos de esta clase en la república, y mas que en todos los otros países de la Tierra.

Qué tienen de notable sus manufacturas?

Las estension que tienen las de lana, algodón, cáñamo, hierro, &c.



LECCION CXVI.

ESTADOS DEL ESTE.

Cómo se llaman los estados que quedan al E. de Nueva-York?

Estados del Este, ó de Nueva-Inglaterra.

Quiénes colonizaron la Nueva-Inglaterra?

Individuos naturales de Inglaterra, llamados Puritanos.

Cuándo y dónde desembarcaron estos?

En 1620, en Plymouth, en Massachusetts.

Cuál era el carácter de los puritanos?

Era jente moral y relijiosa.

Porqué es notable el Maine?

Por sus maderas de construccion y sus astilleros.

Qué se dice de los puertos de este estado?

Que es allí donde se encuentran los mejores de los Estados Unidos.



Cora de Ayuntamiento en Filadelfia.

LECCION CXV.

Dónde tuvieron lugar las primeras batallas?

En Lexington y Bunker Hill, en Massachusetts.

Cuánto fué que las colonias se declararon independientes?

El 4 de Julio de 1775.

Cuánto duró la guerra?

Como 8 años.

Quién fué nombrado "Comandante en Jefe" del ejército americano?

Jorge Washington, de Virginia.

Cuál fué el resultado de la guerra?

Que los americanos se hicieron independientes.

Qué forma de gobierno establecieron entonces?

El gobierno republicano.

Quién fué el primer Presidente que eligieron?

El jeneral Jorge Washington.

Cómo se llama ahora este jeneral en los Estados Unidos?

El Padre de su Patria.

Cuántos años fué Washington Presidente?

8 años, ó dos periodos.

De cuántos estados se componia entonces la Unión?

De 13.

Cuántos estados se le han agregado de entonces acá? (1860.)

20.

Qué son los Estados Unidos, comparados con los otros países de la América?

El país ma poblado y poderoso de la América.

Qué poblacion tienen los Estados Unidos?


Cómo 30 millones de habitantes.

Cuál es la estension de la república?

Como 3,000 millas del Atlántico al Pacífico, y 1,700 de ancho.

Qué hay que decir sobre su comercio?

Que despues de la Inglaterra, su comercio es mayor que el de toda otra nacion del mundo.



Indios atacando á los primeros colonos.

Qué se puede decir de sus vapores y demás embarcaciones?


Que son los buques mas lijeros que se construyen en el mundo.

Qué puede decirse de sus ferrocarriles?

Que hay mas de 25,000 millas de caminos de esta clase en la república, y mas que en todos los otros países de la Tierra.

Qué tienen de notable sus manufacturas?

Las estension que tienen las de lana, algodón, cáñamo, hierro, &c.



LECCION CXVL.

ESTADOS DEL ESTE.

Cómo se llaman los estados que quedan al E. de Nueva-York?

Estados del Este, ó de Nueva-Inglaterra.

Quiénes colonizaron la Nueva-Inglaterra?

Individuos naturales de Inglaterra, llamados Puritanos.

Cuándo y dónde desembarcaron estos?

En 1620, en Plymouth, en Massachusetts.

Cuál era el carácter de los puritanos?

Era jente moral y relijiosa.

Porqué es notable el Maine?

Por sus maderas de construccion y sus astilleros.

Qué se dice de los puertos de este estado?

Que es allí donde se encuentran los mejores de los Estados Unidos.



Vista de Boston, y del monumento de Bunker Hill.

Qué hace célebres a Nueva-Hampshire y á Vermont?

Su ganado vacuno y sus hermosas ovejas.

Qué es lo que fabrican estensamente en Massachusetts, Roda-Islanda y Connecticut?

Jéneros de lana y de algodón.

En qué clase de pezca se emplean mucho los habitantes de Massachusetts?

En la del bacalao y la ballena.

Qué puede notarse de la pezca de la ballena?

Que en el solo estado de Massachusetts hay mas jente empleada en esta pezca, que la que se ocupa de la misma industria en los demás países de la Tierra reunidos.

Cuál es la capital de Massachusetts?

Boston, que es la tercera ciudad, en poblacion, de los Estados Unidos.

Qué estadista célebre, de nuestros dias dió aquel estado?

Daniel Webster, el rival de Enrique Clay.

Qué puede decirse de los medios de educacion en la Nueva-Inglaterra?

Que los colejos y escuelas públicas son los mejores de la Union.

Qué monumento notable hay cerca de Boston?

El de Bunker Hill, de 220 piés de alto, levantado sobre el campo en que se dió la primera batalla de la revolucion.

Qué Jeneral americano murió en esta batalla?


El jeneral Warren.

Qué pérdida hubo de una y otra parte, entre muertos y heridos?

Los americanos perdieron 450 hombres, y los ingleses 1,000.

Cuál es el pueblo mas manufacturero de los Estados Unidos?

Lowell, en Massachusetts.



Vapor de alta mar.

ESTADOS DEL MEDIO.

Cuántos son los Estados del Medio?

Cuatro: Nueva-York, Nueva-Jersey, Pensilvania y Delaware.

Qué hace notable al estado de Nueva-York?

El ser el mas rico y poblado de toda la Union.

La ciudad de Nueva-York, porqué es notable?

Por ser la ciudad mas rica y mas grande de América.

Cuál es la poblacion de la ciudad de Nueva-York?

Como 750,000 almas.

Cómo se surte la ciudad de agua?

Por el Acueducto de Croton, que tiene 40½ millas de largo, y 9 piés de diámetro.

Cuál fué el costo de esta grande obra y sus dependencias?

No bajó de 14 millones de fuertes.

Cómo se conduce el agua por la ciudad?

Por grandes cañerías de hierro, subterráneas, de donde se proveen las casas por medio de tubos de plomo.

Está así la ciudad bien provista de agua?


No hay ciudad en el mundo que esté mejor provista de agua tan buena y saludable, como la de Nueva-York.

Hay algo que notarse allí sobre la educacion?

Sí: que todos los niños que quieran, pueden adquirir en este estado una buena educacion, sin costo alguno.

A cuánto asciende el fondo de escuelas del estado?

A 6 millones de fuertes; el interés de los cuales se aplica al sostenimiento de infinidad de escuelas públicas, por todo el estado.



Vista del Parque y de la casa de ayuntamiento (City Hall), en Nueva-York.

LECCION CXVIII

Cuántas escuelas públicas cuenta la ciudad de Nueva-York?

50 escuelas superiores, á cada una de las cuales asisten diariamente de 1,000 á 2,000 alumnos, y 60 escuelas primarias, de que cada una cuenta, por término medio, 250 alumnos.

Qué canal notable hay en el estado de Nueva-York?

El del Erie, de 365 millas de largo, que une el lago Erie con el río Hudson.

Qué gran catarata se encuentra en este estado?

La del Niágara, entre el lago Erie y el Ontario. (Véase pág. 48.)

Qué puede decirse de esta catarata?

Que es la mas grande del mundo.

A qué profundidad caen las aguas?

A 160 piés; y la masa de agua de los lagos, que se precipita, es tan considerable, que el ruido que causa se oye á 10 ó 20 millas de distancia.

Cuáles son las producciones vejetales de los Estados del Medio?

Es muy abundante en ellos el trigo, el maíz y otros granos, varias frutas, &c.

Porqué es notable Pensilvania?


Por sus inagotables minas de carbon y de hierro.

De quién recibió Pensilvania su nombre?

De William Penn, *cuácaro* inglés.

Qué ciudad fondó Penn?

Filadelfia, ó ciudad de "amor fraternal."



El Capitolio en Washington, Distrito de Columbia.

LECCION CXIX

ESTADOS DEL SUR.

Cuántos Estados del Sur hay?
Diez. (Véase pág. 78.)

Cuáles son las principales producciones de estos estados?

Algodón, azúcar, arroz y tabaco.

Quiénes son los que trabajan en el cultivo de estas producciones?

Los negros, que son esclavos de los blancos.

Cuál es la ciudad mas grande de los Estados del Sur?

Baltimore, con 210,000 habitantes.

Cuál es el aspecto del país?

Es bajo y llano por un espacio de 50 á 100 millas contadas desde la costa; pero gradualmente se eleva, hasta formar montañas hácia el interior.

Cuál es el clima de aquellos estados?

Cálido é insalubre, donde el terreno es bajo; pero sano en las elevaciones.

Cuál es el mas grande de los Estados del Sur?

Virginia.

Porqué es notable Virginia?

Por ser el estado donde nació Washington.

Qué curiosidad natural hay en Virginia?

Un puente natural, de 250 piés de elevacion. (Véase pág. 50.)

Qué Presidentes de los Estados Unidos han nacido en Virginia?

Washington, Jefferson, Madison, Monroe, Harrison y Taylor.

A qué país pertenecía Tèjas antiguamente?

A Méjico.

Cuándo se anexó á los Estados Unidos?


En 1845.

A qué país pertenecía Florida ántes de hacer parte de la Union?

A España.

Cuándo fué Florida comprada por los Estados Unidos?

En 1821.



Casa del Presidente, en Washington.

LECCION CXX.

Qué es el distrito de Columbia?

Un pequeño distrito sobre el río Potomac, á 200 millas del oceano.

Qué ciudad hay en el distrito de Columbia?

Washington, capital de los Estados Unidos.

Qué edificios públicos notables hay en Washington?

El Capitolio, la casa del Presidente, los Departamentos de Guerra, de Marina y de Hacienda, la Oficina general de correos, y la Oficina de patentes, que son edificios magníficos.

Cuál es la gran ciudad comercial de los Estados del Sur?

Nueva-Orleans, sobre el Misisipi, á 100 millas de su embocadura.

Qué hay que decir sobre su comercio? Que despues de Nueva-York,

es la ciudad mas comercial de la América. (Véase pág. 55.)

Qué estadista notable vivia en la Carolina del Sur?

Juan C. Calhoun.

Qué orador y patriota distinguido nació en Virginia?


Patricio Henry.

Qué espacio de tierra pantanosa se estiende desde Virginia hasta la Carolina del Norte?

El Pantano Funesto, de 30 millas de largo y 10 de ancho, que cubre 150,000 acres. En medio de este, hay un bello lago de 15 millas de circunferencia.



Pantano funesto, Virginia.



Tren de ferrocarril.

LECCION CXXI.

ESTADOS DEL OESTE.

Cuántos Estados del Oeste hay? Trece. (Véase pág. 78.)

Cuál fué de estos el que primero se colonizó?

Michigan, que lo fué por los franceses, en 1670.

Quién fué el primer hombre blanco que vivió en Kentucky?

Daniel Boone, que vivió allí largo tiempo, sin mas compañeros que sus perros.

Cuáles son las producciones de los Estados del Oeste?

Maiz, trigo, centeno, ganado, puercos, &c., en gran abundancia.

Cuál es de los Estados del Oeste, el mas poblado?

Ohio.

Cuál es la ciudad mas grande de estos estados?

Cincinnati, sobre el río Ohio.

Por qué es notable Cincinnati?

Por ser el primer mercado de puercos, del mundo.

Qué gran cueva se encuentra en Kentucky?

La cueva de Mammoth.

Se ha explorado esta cueva?

Se han explorado de 10 á 15 millas, sin hallarle término.

Cómo es que la exploran?

En botes; pues parece que es un río subterráneo, debajo de las montañas.

Qué especie peculiar de pescado se encuentra en esta cueva?

Una especie de pescado sin ojos, ni señal alguna donde debiera tenerlos.

Qué estadista notable vivió en Tennessee?

Enrique Clay, el primer estadista que ha producido la América.



La vida en California durante la ositacion aurifera.

LECCION CXXII.

En qué estados se encuentra el plomo en grande abundancia?

En Misuri, Wisconsin y Iowa.

Dónde se encuentra mucho cobre?

En el estado de Michigan, cerca del lago Superior.

Qué montaña notable hay en Misuri?

La Montaña del Hierro, que es casi una masa sólida del mineral que le da su nombre, de 3 millas de largo, una de ancho y 300 piés de elevacion.

Qué estado produce grandes cantidades de oro?

California.

Cuándo se descubrió oro en California?

En 1848.

Cuándo se admitió á California como Estado de la Union?

En el año de 1850.

Qué hay de notable en los rios de los estados del Oeste?

Que hay muchos grandes rios, navegables.

Cuál es el total de la longitud de los rios?

Mas de 25,000 millas.

Hay grandes praderas en los estados del Oeste?

Sí: hay muchas.

Qué animales abundan en estas praderas?

Se encuentran inmensos rebaños de búfalos, dantas, ciervos y caballos salvajes.

Cuál es el rio mas grande de los estados del Oeste?


El Misisipi.

Cuál es el significado de Misisipi, en la lengua de los indios?

“El padre de los rios.”

Cuál es la longitud del Misisipi y el Misuri juntos?

Mas de 5,000 millas.



Vieta tomada en Oregon.

LECCION CXXIII. TERRITORIOS.

Cuántos Territorios hay?

Siete. (Véase pág. 78.)

Cómo está gobernado cada territorio?

Por un Gobernador nombrado por el Presidente de los Estados Unidos, y una lejislatura elejida por el pueblo.

Cuánta poblacion es necesario que tenga un territorio, para que pueda ser admitido como estado?

60,000 habitantes.

Qué es el territorio Indico?

Un espacio de tierra dada por los Estados Unidos á los indios, para que vivan en él permanentemente.

Quiénes habitan el territorio Indico?

Indios de los estados del Sur y Oeste, que se han pasado allí.

Qué secta religiosa hay establecida en el territorio de Utah?

Los Mormones.

Sobre qué lago queda la colonia de los Mormones?

Sobre el Gran Lago Salado.

Quién fué el primero que estableció casa de comercio en Oregon?

Juan Jacobo Astor, el hombre mas rico de los Estados Unidos.

Qué se obtiene de los Indios en aquel territorio?

Pieles y vestidos de cuero de búfalo.

Qué árbol grande se da en Oregon?

El abeto, que tiene á veces una altura de 300 piés, y cuya circunferencia es de 57.

Qué montes se encuentran en la parte occidental?

Los montes de la Cascada, con picos que alcanzan á una elevacion de 16,000 piés.



LECCION CXXIV.
MAPA DEL OCEANO ATLANTICO.

Qué limita al Océano Atlántico por el O.?
 Qué por el E.?
 Qué océano se encuentra en el N.?
 Qué isla hay al E. de Groenlandia?
 Qué isla hay al E. de Canadá?
 Qué islas pequeñas se encuentran al E. de los Estados Unidos?
 Qué islas se encuentran al N. y E. del mar Caribe?

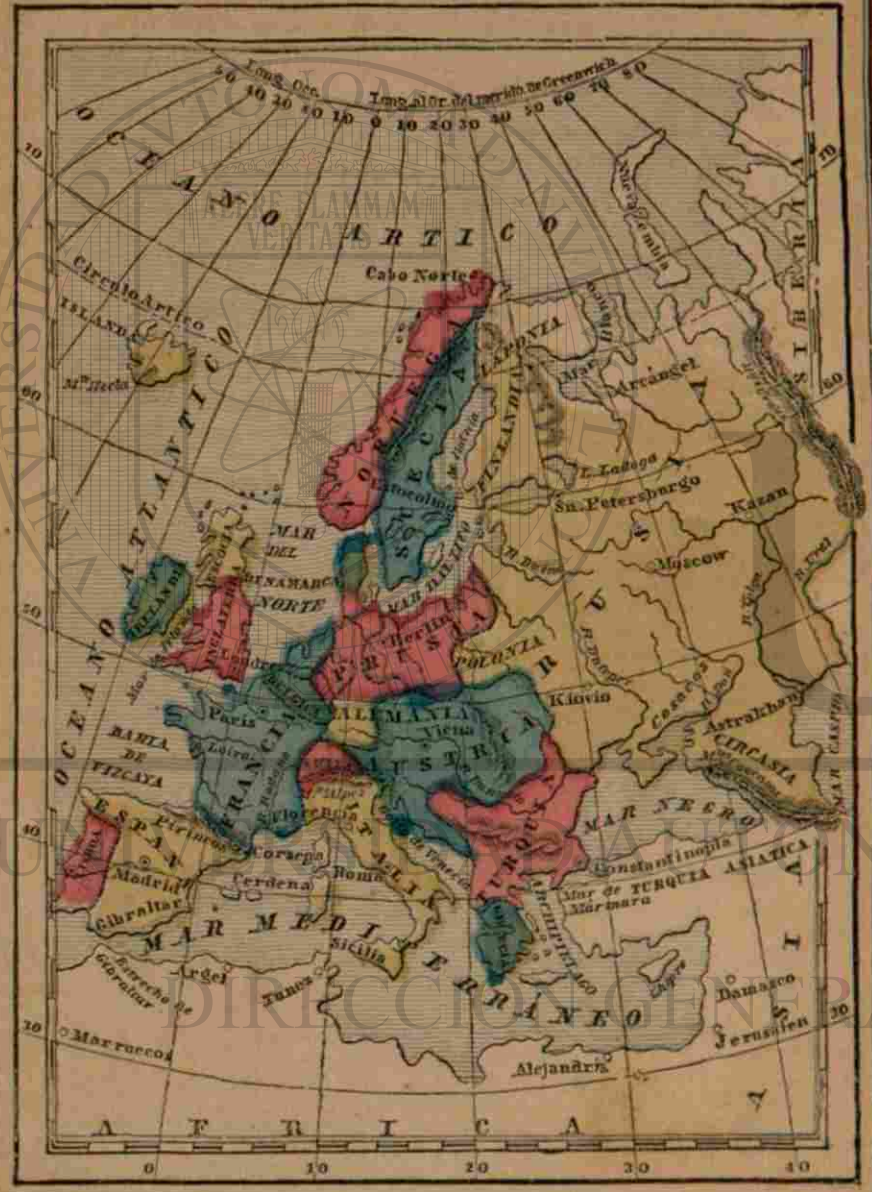
Qué cabo hay en la estremidad oriental de la América del Sur?
 Cuál en la estremidad meridional?
 Qué islas hay al N. O. de Francia?
 Cuáles al O. de España?
 Cuáles al S. O. de España?
 Cuáles al S. de Madera?
 Qué islas se encuentran al O. de África, y al E. del mar Caribe?
 Qué cabo hay al S. de Liberia?
 Qué colonia de América hay al O. de Guinea?
 Qué islas hay al O. de la África meridional?
 Qué cabo se encuentra en la estremidad meridional de África?
 Qué colonia hay en este cabo?

LECCION CXXV.
HISTORIA Y DESCRIPCION DEL OCEANO ATLANTICO.

Cuál es la estension del océano Atlántico?
 8,500 millas de N. á S., y de 2,100 á 5,000 de ancho.
 Quién fué el primero que atravesó el océano Atlántico?
 Cristoval Colon, en 1492.
 Qué volcan notable hay en Islanda?
 El Hecla.
 A qué nacion pertenece la Islanda?
 A Dinamarca.
 A qué país pertenecen las islas Azores y de Madera?
 A Portugal.
 Qué producen estas islas?
 Vinos, naranjas y limones.
 Porqué son célebres las islas Canarias?
 Por sus canarios, vinos y frutas.
 A qué nacion pertenece Santa Helena?
 A la Gran Bretaña.
 Quién estuvo en aquella isla aprisionado en 1815?

Napoleon Bonaparte, Emperador de Francia.
 En qué gran batalla fué Napoleon derrotado y hecho prisionero?
 En la batalla de Waterloo, en Bélgica.
 Cuánto tiempo duró Napoleon en prision?
 6 años.
 Cuándo murió?
 En 1821.
 Qué se encuentra frecuentemente flotando en el océano Atlántico?
 Lurtes.
 A qué se da el nombre de lurtes?
 A grandes masas de hielo que se forman en el océano Ártico, y que flotan en el Atlántico. (Véase pág. 60.)
 Causan estos lurtes naufragios?
 Los buques, cuando el tiempo es mui nebuloso, suelen estrellarse contra ellos y zozobrar.

MAPA DE EUROPA.



LECCION CXXVI

MAPA DE EUROPA.

- Qué oceano se encuentra al N. de Europa? A-o.
 Cuál al O.? A-o.
 Qué gran mar hay entre Europa y África? M-o.
 Qué mar hay al S. de Rusia? N-o.
 Cuál entre Inglaterra y Dinamarca? N-e.
 Qué mar hay entre Inglaterra é Irlanda? I-a.
 Cuál entre Rusia y Suecia? B-o.
 Cuál al N. de Rusia? B-o.
 Qué mar pequeño hay entre el mar Negro y el Archipiélago? M-a.
 Qué golfo hay al N. E. de Italia? V-a.
 Qué gran bahía hay al O. de Francia? V-a.
 Qué gran golfo hay entre Suecia y Finlandia? B-a.

LECCION CXXVII

- Qué países quedan en el S. O. de Europa? E-a y P-l.
 Qué país queda al N. de España? F-a.
 Qué país pequeño al N. de Francia? B-a.
 Qué países quedan al O. del mar del Norte? I-a y E-a.
 Cuál al O. de Inglaterra? I-a.
 Qué país hay en la parte N.O. de Europa? S-a.
 Cuál es el país mas grande de Europa? R-a.
 Qué parte de la Europa ocupa la Rusia? Como la mitad.
 Qué país se encuentra al S. del mar Báltico? P-a.
 Qué países quedan entre Francia y Austria, que no tienen costa sobre ningún mar? A-a y S-a.
 Qué país se encuentra entre Prusia y Turquía? A-a.
 Qué país pequeño al S. de Turquía? G-a.
 Qué país hay entre el Mediterráneo y el golfo de Venecia? I-a.

LECCION CXXVIII

- Qué forma tiene la Italia? Su forma es como la de una bota.
 Qué isla hay al N. de Rusia? N-a Z-a.
 Qué isla hay al O. de Noruega? I-a.
 Cuál al O. del mar del Norte? I-a.
 Cuál al O. de Inglaterra? I-a.
 Qué islas quedan al O. de Italia? C-a y C-a.
 Qué isla se encuentra al S. de Italia? S-a.
 Qué isla al S. E. de Grecia? Candia.
 Cuál en la parte oriental del mar Mediterráneo? C-e.
 Qué rio hay entre Rusia y Asia? U-l.
 Qué grandes rios desembocan en el mar Caspio? V-a y U-l.
 Tienen las aguas del mar Caspio salida por alguna parte? No.

LECCION CXXIX

- Qué se hace, entónces, el agua que cae en este mar? Se evapora con el calor del sol.
 Qué rio desemboca en el mar de Azof? Don.
 Cuáles desembocan en el mar Negro? N-r y D-o.
 Qué rio desemboca en la bahía de Vizcaya? I-a.
 Cuál desemboca en el mar Blanco? Dwina.
 Qué montes hay entre Rusia y Siberia? U-s.
 Qué montes al S. E. de Rusia? C-s.
 Qué cordillera entre Francia y España? P-s.
 Cuál en Italia? A-s.
 Qué montes hay entre Noruega y Suecia? Dofrefield.
 Cuáles en Austria? C-s.
 Qué mar y qué golfo hay al E. de Suecia? B-o y B-a.
 Qué cabo hay al N. de Noruega? N-e.
 Cuáles son los tres países llamados Gran Bretaña? I-a, E-a é I-a.

LECCION CXXX.

Qué mar hay al E. de la Gran Bre-
taña? N-e.
Cuál al O.? I-a.
Qué canal hay al S. de Inglaterra?
I-s.
Qué estrecho hay entre Inglaterra y
Francia? D-s. go?
Cuál es la anchura de este estrecho?
22 millas.
Hacia qué parte de Inglaterra queda
Londres? S. E.
Qué ciudad de Francia es la que que-
da mas cerca de Inglaterra? Calais.
Cuál es la capital de Francia? P-s.
Qué bahia hay al N. de España?
V-a.
Qué estrecho hay á la entrada del Me-
diterráneo? G-r.
Qué país queda al O. de España?
P-l.
Qué rio corre por Portugal? Tajo.

LECCION CXXXI.

Qué rio grande hay en Alemania?
D-o.
Cuál es la capital de Prusia? B-n.
Cuál la de Austria? V-a.
Cuál la de Rusia? S. P-o.
Sobre qué golfo queda San Petersbur-
go? Finlandia.
Qué volcan hay en Italia? V-o.
Cuál en Sicilia? E-a.
Qué volcan hay en Isl. nda? H-a.
Cuál es la capital de Italia? R-a.
La de Turquia? C-a.
Cuál es la ciudad mas grande de Eu-
ropa? Londres.
Cuál es la poblacion de Londres?
Como dos y medio millones de habitan-
tes.
Qué puerto de mar hay al N. de Ru-
sia? A-l.
Qué ciudad se encuentra al S. de Es-
paña? G-r.

LECCION CXXXII.

Paises.	Capitales.	Situacion de las capitales.
Inglaterra,	Londres,	sobre el rio Támesis.
Escocia,	Edimburgo,	" Frith.
Irlanda,	Dublin,	" Liffey.
Francia,	Paris,	" Sena.
España,	Madrid,	" Manzanares.
Portugal,	Lisboa,	" Tajo.
Alemania,	Frankfort,	" Main.
Prusia,	Berlin,	" Spree.
Austria,	Viena,	" Danubio.
Dinamarca,	Copenhague,	en la isla de Zelandia.
Bélgica,	Bruselas,	sobre el rio Sena.
Holanda,	La Haya,	cerca del mar del Norte.
Suiza,	Berna,	sobre el rio Aar.
Italia,	Roma,	" Tiber.
Noruega y Suecia,	Estocolmo,	" lago Melar.
Rusia,	S. Petersburgo,	" rio Neva.
Turquía,	Constantinopla,	sobre el Bósforo.
Grecia,	Aténas,	cerca del golfo de Egina.

LECCION CXXXIII.

RIOS.

En qué país quedan, qué direccion llevan,
y dónde desembocan?
El Dwina? Ródano?
Danubio? Nieper?
Don? Volga?
Ural? Loira?
MARES, GOLFOS, BAHÍAS, CANALES
Y ESTRECHOS.
Entre qué países están situados?
El mar Mediterráneo?
Golfo de Venecia?
Archipiélago? Mar Negro?
Mar de Mármara?
" Caspio?
" Azof?
" Blanco?
" Báltico?
Golfo de Botnia? de Finlandia?

Mar del Norte?
Canal Inglés ó de la Mancha?
Bahía de Vizcaya?
Estrecho de Dúvres?
" Gibraltar?

ISLAS.

Dónde están situadas?

Inglaterra? Sicilia?
Irlanda? Córsega?
Islanda? Cerdeña?
Candia? Chipre?
Nueva-Zembla?

MONTAÑAS.

En qué países se encuentran?

Dofreffield? Urales?
Cáucacos? Carpacios?
Pirinéos? Hecla?
Alpes? Vesuvio?
Etna?



Despota dando ordenes.

SOBERANOS DE INGLATERRA.



Guillermo I. Matilda. Alberto. Victoria.

HISTORIA Y DESCRIPCION DE EUROPA.

LECCION CXXXIV.

Qué parte de Europa fué la primera habitada?

Grecia, que lo fué desde ahora 4,000 años.

Fuó Grecia habitada tan pronto como Asia y Africa?

No.

Cómo vivian al principio los griegos? En cuevas y árboles huecos; y se mantenian de raíces, yerbas y bellotas.

Quiénes fueron á Grecia miéntras sus habitantes vivian así?

Los egiptios, los cuales les enseñaron á edificar casas, la agricultura, &c.

Qué vinieron á ser luego los griegos? Una nacion grande y poderosa.

Qué grande imperio se levantó luego en Europa?

El Imperio Romano.

Conquistaron los romanos á los griegos?

Sí, los conquistaron 146 años ántes de Jesucristo.

Quiénes fueron los primeros habitantes de Francia y de Inglaterra?

Algunas tribus guerreras.

Quién conquistó estas tribus?

Julio Cesar, Jeneral romano, como 55 años ántes de Jesucristo.

Menciónense algunos de los países mas poderosos que hay ahora en Europa.

Gran Bretaña, Francia, Rusia, Austria, Prusia, España e Italia.

Cuál de las naciones europeas es la mas poderosa?

La Gran Bretaña.



Calzada de los gigantes, en Irlanda.

LECCION CXXXV.

Qué gran Jeneral francés vivió hace algunos años?

Napoleon Bonaparte.

Qué trató de hacer Napoleon, que lo hizo notable?

Emprendió la conquista de toda la Europa.

Qué presentaba su ejército, digno de notarse?

Que era el mas poderoso del mundo.

Contra qué lugar le hizo marchar en 1812?

Contra Moscow en Rusia.

De cuántos hombres se componia su ejército?

De 460,000.

Qué hicieron los rusos cuando lo vieron acercarse á la ciudad?

Le prendieron fuego á esta, y huyeron.

Para qué incendiaban los rusos á Moscow?

Para impedir que el ejército de Napoleon pasase allí el invierno.

Qué curiosidad se encontró en Moscow?

Una gran campana, de 67 piés de circunferencia, de 19 piés de altura, y que pesaba cerca de 200 toneladas (16,000 arrobas).

A qué se vieron compelidas las tropas conquistadoras?

A retirarse.

Qué desastres les siguieron á su retirada?

La mayor parte de ellas murió de hambre y de frio.

Cuántos hombres sobrevivieron, de los 460,000, para volver á Francia?

Solo unos 30,000.

Qué hicieron entónces las otras naciones?

Unieron sus ejércitos, para oponérselos á Napoleon.

LECCION CXXXVI

Dónde fué, al fin, derrotado este Jeneral?

En la batalla de Waterloo, en Bélgica.

En qué año tuvo lugar la batalla de Waterloo?

En 1815.

A dónde fué desterrado luego Bonaparte?

A Santa Helena, donde murió en 1821.

Cuál es el imperio mas grande del mundo?

El Imperio Ruso.

Quién fundó á San Petersburgo?

Pedro el Grande, en 1703.

Qué nombre se da á los habitantes de la Gran Bretaña?

Bretones.

Qué nombre se da á Inglaterra, Escocia, Gales é Irlanda juntas?

Reino Unido de la Gran Bretaña é Irlanda.

Qué es lo que mas se fabrica en Inglaterra?

Jéneros de lana y algodón, y quincallería.

Cuál es el país mas manufacturero del mundo?

La Gran Bretaña.

Qué tiene Londres de notable?

El ser la ciudad mas grande del mundo.

Cuántas millas cuadradas tiene la ciudad de Londres?

Como 32 millas cuadradas.

Qué hay en Londres, debajo del rio Tamesis?

El túnel ó galería subterránea, por donde pueden pasar toda clase de carruajes, &.



Túnel, ó galería subterránea, construida debajo del Tamesis.

Dónde queda Laponia?

Al N. de Rusia.

Qué hay que decir de Laponia, respecto de su clima?

Que es, de los países habitados del Globo, el mas frio.

Cuál es el carácter de los lapones?

Son honrados, su estatura es baja, y muchos alcanzan á vivir hasta cien años.

Qué constituye la riqueza de los lapones?

El renjífero, que es el material de su alimento y su vestido.



Lapones, renjíferos y trineos

LECCION CXXXVII

Cómo viajan los lapones?

En trineos tirados por renjíferos.

Qué puede decirse de Irlanda?

Que es una isla bella y fértil.

Cuál es el estado del país y de su población?

El país está mal gobernado, y el pueblo mui oprimido.

A qué nacion están sujetos los irlandeses?

A Inglaterra.

Qué es Francia?

Un imperio.

Qué hace notable á la Francia?

Sus vinos y licores espirituosos, y sus sedas.

Cuál es el aspecto de España?

Despues de Suiza, es el país mas montañoso de Europa.

Qué hombre notable vivió en España?

Cristobal Colon, descubridor de América.

Qué animal particular se cria en abundancia en España?

Las ovejas de Merino.

Qué territorio pequeño hay al S. de España?

Gibraltar, sobre el estrecho de este nombre.

A qué gobierno pertenece Gibraltar?

A la Gran Bretaña, y es el punto mejor fortificado del mundo. (Véase pág. 101.)

Qué es lo que mas se esporta de España?


Lana, vino y pasas.

En que manufacturas sobresalen los alemanes?

En la de relojes.

A qué está obligado todo varon prusiano?

A servir 3 años de su vida en el ejército.



Escorial, ó residencia real, á cinco millas de Madrid, España.

LECCION CXXXVIII

Qué ley rige en Prusia respecto de la asistencia de los niños á la escuela?

Todos los niños están obligados á asistir á la escuela, mientras no se lo impida alguna enfermedad.

Qué tiene Suiza de notable?

Ser el país mas montañoso del Globo.

Qué se aglomera allí, en la cima de las montañas?

Inmensas cantidades de nieve y hielo.

Y qué sucede muchas veces con estas masas de nieve y hielo?

Que rodando por las faldas de las montañas, suelen sepultar poblaciones enteras.

Qué hombre célebre produjo la Suiza?

Guillermo Tell, que combatió

valientemente contra los enemigos de su patria.

En qué artes son famosos los italianos?

En la pintura, la escultura y la música.

Por cuánto tiempo fué Roma dominadora de la Europa?

Por el espacio de 1,000 años.

Qué catedral célebre hay en Roma?

San Pedro, que es la iglesia mas grande del mundo.

Cuánto tiempo se empleó en edificar dicha iglesia?

111 años.

Quiénes habitan la Turquía?

Los turcos.

Qué nombre se da el Emperador de la Turquía?

Se le llama *Sultan*.

Cuál es la religion de los turcos?

La mahometana.



Promontorio de Gibraltár.

LECCION CXXXIX

Porqué se llaman los turcos mahometanos?

Por que son discípulos de Mahoma; es decir, creen en sus doctrinas.

Porqué es notable Polonia?

Por sus minas de sal.

Qué curiosidad natural hay en Irlanda?

La calzada de los gigantes. (Véase pág. 97.)

Porqué es notable Grecia?

Por sus ruinas de templos antiguos, &c.

Porqué es notable la ciudad de Venecia?

Por sus canales y puentes.

Sobre qué está edificada la ciudad de Venecia?

Sobre 72 pequeñas islas.

Cuántos canales hay en la ciudad?

149, que sirven de calles.

Cómo anda la jente por la ciudad? En embarcaciones llamadas *góndolas*.

Qué hay cerca de la costa de Noruega?

Un terrible remolino, mui peligroso para las embarcaciones. (Véase pág. 60.)

Qué les sucede á estas cuando caen en aquella oya ó remolino?

Son completamente despedazadas; otro tanto les sucede aun á las ballenas.



Geyser, Islandia

MAPA DE ASIA.



LECCION CXLI.

MAPA DE ASIA.

- Qué océano hay al N. de Asia? A-o.
 Cuál al E.? P-o.
 Cuál al S.? I-o.
 Qué grandes divisiones se encuentran
 a. O. de Asia? E-a y A-a
 Qué país se encuentra al N.? S-a.
 A quién pertenece Siberia?
 Al gobierno ruso.
 Qué imperio hay al S. de Siberia?
 C-a.
 Qué montañas hay entre Siberia y el
 imperio Chino? A-i.
 Qué país queda al O. de Siberia?
 E-a.
 Qué montes hay entre Siberia y Euro-
 pa? U-s.
 Qué país queda al S. O. del imperio
 Chino? I-n.
 Qué montes entre Indostan y China?
 H-a.

LECCION CXLI.

- Qué país hay al O. de China?
 T-a I-e.
 Qué mar al O. de la Tartaria Inde-
 pendiente? C-o.
 Qué mar se encuentra al S. O. de
 Asia? A-a.
 Cuál entre Arabia y África? R-o.
 Qué país hay al N. de Arabia? T-a.
 Qué istmo une el Asia con el África?
 S-z.
 Qué mar se encuentra al N. de Tur-
 quía? N-o.
 Qué país queda al E. de Arabia?
 P-a.
 Qué golfo hay entre Arabia y Persia?
 P-o.
 Qué países pequeños hay entre Persia
 é Indostan? A-n y B-n.
 Cuáles al S. del imperio Chino?
 B-n, S-m y A-m.
 Qué mar hay al E. de Siberia? O-k.
 Qué mar se encuentra al E. del impe-
 rio Chino? A-o.
 Cuál al S. de China? C-a.
 Qué gran bahía hay al S. de Indos-
 tan? B-a.

LECCION CXLIH.

- Qué estrecho á la entrada del mar
 Rojo? B-b.
 Qué estrecho hay entre Siberia y Amé-
 rica? B-g.
 Cuál es la anchura de este estrecho?
 36 millas.
 Qué lago hay c. S. de Siberia? B-l.
 Cuáles son los tres grandes rios de
 Siberia, que desembocan en el océano Ar-
 tico? O-i, Y-i y L-a.
 Qué rio hay al N. E. del imperio Chi-
 no? A-r.
 Qué dos rios se encuentran en China,
 que desembocan en el mar Amarillo?
 H-o ó Amarillo y Y-g I-g ó Azul.
 Qué rio hay entre Siam y Anam?
 C-a.
 Cuál entre Europa y Tartaria? U-i.
 Qué rio de Turquía desemboca en el
 golfo Pérsico? E-s.
 Qué rio de Indostan desemboca en la
 bahía de Bengala? G-s.

LECCION CXLIH.

- Qué rio se encuentra entre Indostan y
 Beluchistan? I-o.
 Qué península se halla al E. de Sibe-
 ria? K-a.
 Cuál al E. del imperio Chino? C-a.
 Cuál al S. de Siam? M-a.
 Qué desierto hay en el imperio Chino?
 C-i.
 Cuál en Arabia? A-o.
 Qué montes hay en la costa occidental
 de Indostan? G-s.
 Qué montes hay al N. de Turquía?
 C-a.
 Qué monte hay en Turquía, donde se
 detuvo el arca de Noé? A-t.
 Qué imperio hay al E. de la China?
 J-n.
 Qué islas pertenecen á este imperio?
 Y-o, N-n y K-u.
 Qué islas hay al S. E. de China?
 F-a y H-n.
 Qué isla grande se encuentra al S. del
 mar de China? B-o.
 Qué isla queda al E. de Bornéo?
 C-s.
 Cuál al S. de Malaca? S-a.

LECCION CXLIV.

- Qué isla queda al S. E. de Sumatra?
J-a.
- Qué isla grande se encuentra al N. O. de Siberia?
N-a Z-a.
- Cuál al S. del Indostan?
C-n.
- Cuál es el cabo que queda al N. de Asia?
N. E.
- Cuál es la capital de Siberia?
San Petersburgo, en Rusia.
- Cuál es la capital del imperio Chino?
P-n.
- Qué ciudad comercial hay al S. de China?
C-n.
- Qué ciudad hay en el interior del Tibet?
L-a.
- Cuáles en Anam?
H-e y S-n.
- Cuál es la capital de Siam?
B-k.
- Cuál es la capital del Indostan?
C-a.
- Qué ciudad hay al S. E.?
M-s.
- Cuál es la capital de la Tartaria Independiente?
B-a.
- Cuál lo es de Afganistan?
C-l.
- Cuál es la capital de Persia?
T-n.
- La de Arabia?
M-a.
- Qué ciudad hay al S. E. de Arabia?
M-l.
- Cuál es la capital de Turquía?
C-a, en Europa.
- Qué ciudad hay en la isla de Nifon?
Y-o.
- Qué mares se unen por el estrecho de Bab el Mandeb?
M-r R-o y O-o I-o.
- Y por el estrecho de Beríng?
O-o A-o y O-o P-o.

LECCION CXLV.

PAÍSES.

Dónde están situados.

- Siberia? Beluchistan?
Indostan? Imperio Chino?
Siam? Arabia?
Anam? Turquía?
Persia? Afganistan?
Imperio del Japon?
" Birman?
Tartaria Independiente?

MARES, GOLFOS Y BAHÍAS.

Dónde quedan.

- El mar Rojo?
" Negro?
" Caspio?
" Arábigo?
" Amarillo?
La bahía de Bengala?
El golfo Pérsico?
El mar de Ochotsk?
" China?

LECCION CXLVI.

MONTAÑAS.

En qué países quedan?

- Los montes Urales?
" Altai?
" Himalaya?
" Gates?
" Cáucasos?
El Ararat?

RIOS.

Qué dirección llevan y dónde desembocan.

- El Obi? Huang-ho?
Yenisei? Lena?
Cambodia? Ganges?
Indo? Éufrates? Ural?
Yang-Iseu-kiang?

ISLAS.

Dónde quedan.

- Bornéo? Nueva-Zembla?
Nifon? Yeso?
Kiusiu? Formosa?
Hainan? Célebes?
Sumatra? Java?
Ceilan?



Templo de Budha, en Canton, China.

HISTORIA Y DESCRIPCION DE ASIA.

LECCION CXLVII.

Cuál es el tamaño del Asia?

El Asia comprende la tercera parte de la tierra que se conoce en la superficie del Globo.

Cuál es la población de Asia?

Quinientos millones de habitantes, que son la mitad de los que hay sobre la Tierra.

Qué parte de la Tierra fué la que primero se pobló?

Asia.

Quiénes fueron los primeros que habitaron el Asia?

Adan y Eva, que fueron colocados en el Jardín del Eden.

Dónde se cree que quedaba este jardín?

En Armenia, hácia el centro de la Turquía.

Cuántos años se pasaron desde la creación de Adan y Eva, hasta el diluvio?

Como 1,700 años.

Cuál fué la causa del diluvio?

La corrupcion que habia cundido en la raza humana.

Quién era Noé?

Un hombre justo.

Qué mandó Dios á Noé que hiciera antes del diluvio?

Que edificase un arca, para salvarse él y su familia, con un par de cada una de las especies de animales que existian.

Cuántos hijos tenia Noé, que se salvaron en el arca con él?

Tres: Sem, Cam y Jafeto.

Qué les sucedió á todos los seres vivientes?

Todos, excepto los que entraron al arca con Noé y su familia, murieron.



Mequita, en Constantinopla.

LECCION CXLVIII

Por cuánto tiempo duró la inundación de la Tierra?

Por 140 días.

Dónde se detuvo el arca después del diluvio?

Sobre el monte Ararat, en Turquía.

Cuántos años después del diluvio vivieron los descendientes de Noé en un solo lugar?

Como 100 años.

Qué hicieron estos después de 100 años de vivir unidos?

Los descendientes de los tres hijos de Noé, separándose, se establecieron en diferentes países.

Dónde se establecieron los descendientes de Sem?

En Asia.

Los de Cam?

En África.

Y los de Jafeto?

En Europa.

Cuántos años después del diluvio, nació Jesucristo nuestro Salvador?

2348.

Qué estableció nuestro Salvador sobre la Tierra?

El cristianismo.

Cuándo vivió Mahoma?

Como 600 años después de Jesucristo.

De dónde era Mahoma?

Mahoma era árabe.

Qué estableció este?


Una religión falsa, llamada Mahometismo.

Qué naciones profesan esta religión?

Los turcos, los persas, los tártaros y otros, que son mahometanos.

Qué ciudad notable hay en Siria?

La antigua ciudad de Jerusalén.



Juggernaut, tirado por elefantes.

LECCION CXLIX

Qué magnífico edificio había en Jerusalén, en tiempo de Jesucristo?

El templo de Salomón.

Qué ciudad notable hay en Arabia?

Meca, donde nació Mahoma.

Qué monte célebre hay al N., cerca del mar Rojo?

El monte Sinai, en la cima del cual recibió Moisés los "diez mandamientos."

Qué animales hacen célebre la Arabia?

Sus caballos, que son los mejores del mundo.

Qué producción vegetal célebre se encuentra en Arabia?

El mejor café que existe.

Cómo se llaman los indijenas del Indostan?

Hindús.

Cuál es la religión de los Hindús?

La mayor parte adoran ídolos.

Qué gran procesion tienen los Hindús anualmente?

Una en que sacan el carro de Juggernaut, que contiene su principal dios.

Qué hacen á veces algunos Hindús durante la procesion?

Se echan en el suelo, para morir bajo las ruedas del carro; cuyo sacrificio creen que los conducirá al Cielo



Línaza, y cabra de Siberia.



Chino fumando opio.

LECCION CL.

Que árbol notable se da en el Indostan?

El nopal, que muchas veces tiene hasta 3,000 troncos.

Qué peculiaridad tienen las ciudades de China?

Casi todas están rodeadas de una alta muralla.

Cuántas ciudades guarnecidas con murallas hay en China?

4,402.

Qué planta es peculiar de China?

El té.

Qué muralla artificial, muy notable, hay en aquel imperio?

La Gran Muralla, de 1,500 millas de largo, y 30 pies de elevación.

Cuántos años hace que se edificó dicha muralla?

Unos 2,000 años.

Cuál es el espesor de la muralla hacia la parte superior?

Es tan ancha, que pueden andar sobre ella, en línea, seis hombres á caballo.

Con que objeto se edificó?

Con el de impedir las invasiones de los tártaros.

Qué fabrican los Chinos?

Jéneros de seda y porcelana.

Cuál es la ciudad principal del imperio Chino?

Pekin, que queda unas 50 millas al S. de la Gran Muralla.

Qué costumbre singular hay en China?

La de ponerles á las muchachas una especie de zapatos, que impide el que les crezcan los pies.

Por qué son notables los Chinos, respecto de sus padres?

Por el gran respeto y obediencia con que miran á estos.



Caballero chino, y su criado.

LECCION CLII

Qué castigo tiene el hijo que usa de un lenguaje irrespetuoso para con sus padres, en China?

Puede ser castigado con la muerte, pues semejante injuria, se reputa como uno de los delitos mas graves que pudieran cometerse.

Qué es lo que compone el imperio del Japon?

Este imperio se forma de varias islas al E. de China.

Cuál es la capital del Japon?

Yedo, en la isla de Nifon.

Qué es Siberia?

Un país frio y horrible.

A qué nacion pertenece la Siberia?

A la Rusia européa.

Qué personas envia á Siberia el gobierno ruso?

Los presos criminales.

Cuál es el aspecto del país?

La Siberia es uno de los países mas frios, estériles y desiertos del Globo.

Cómo viajan en Siberia?

En trineos tirados por perros.



Mujer de la India, cargando agua.

MAPA DE ÁFRICA.



LECCION CLII.
MAPA DE ÁFRICA.

- Qué mar hay al N. de África? M-o.
 Cuál entre África y Asia? R-o.
 Qué oceano se encuentra a. E. de África? I-o.
 Cuál al O.? A-o.
 Qué golfo al O. de África? G-a.
 Qué istmo une el África con el Asia? S-z.
 Entre qué mares está el istmo de Suez? M-o y R-o.
 Qué rio grande hay al N. O.? N-o.
 Qué rio desemboca en el canal de Mozambique? Z-a.
 Qué rios hay al S. de la Guineá? C-o, C-a y N-s.
 Qué rio cerca del cabo Verde? S-l.
 Dónde desemboca el Nilo? M-o.
 Dónde el Niger? G-o de G-a.

LECCION CLIII.

- Qué montes hay en la parte setentrional del Africa? A-s.
 Qué montes hácia el centro? L-a.
 Cuáles en la parte meridional? N-e.
 Qué estados se encuentran al N.? B-a.
 Qué gran desierto hay al S. de la Berberia? G-n D-o.
 Qué países se encuentran entre el Gran Desierto y el mar Rojo? E-o y N-a.
 Qué país grande se encuentra al S. del Gran Desierto? S-n.
 Qué país hay al O. de Sudan? S-a.
 Cuál al S. de Sudan? G-a.
 Cuál en la parte meridional del África? C-a del C-o.
 Cuáles son los países que quedan sobre el oceano Indico? Z-r, M-e y C-a.
 Qué país se encuentra en el centro, al S. de los montes de la Luna? E-a.
 Qué colonia americana hay al O. de Guineá? L-a.
 Qué colonia inglesa al O. de Liberia? S-a, L-a.
 Qué gran isla hay al S. E. de África? M-r.
 Qué canal hay entre África y Madagascar? M-e.

LECCION CLIV.

- Qué istas hay al E. de Madagascar? B-n y M-o.
 Qué isla se encuentra al O. de la parte meridional de Guineá? S. H-a.
 Cuál cerca del golfo de Guineá? A-a.
 Cuáles al O. de Senegambia? C-o V-e.
 Qué grupos de islas hay al N. O. de África? C-s, M-a y A-s.
 Qué isla se encuentra al E. del cabo Guardafui? S-a.
 Qué grupos al N. E. de Madagascar? S-s y A-s.
 Qué islas se encuentran en el canal de Mozambique? C-o.
 Qué cabo hay al N.? B-o.
 Cuál al E.? G-i.
 Cuál al S.? B-a E-a.
 Cuál al O.? V-e.

LECCION CLV.

- Qué es un oasis?
 Un territorio fértil en medio de un desierto.
 Qué oasis notable hay en el Gran Desierto? F-n.
 Qué oasis al O. de Fezzan? Tunt.
 Qué otros oasis hay al S. de Fezzan? A-s, B-a y T-a.
 Qué lago hay en Sudan? T-d.
 Cuál en Etiopia? M-i.
 Qué estrecho se encuentra entre África y España? G-r.
 Cuál á la entrada del mar Rojo? B-b.
 Qué cadena de montañas atraviesa el Africa de E. á O.? M-s de la L-a.
 Qué rio corre por Nubia y Egipto? N-o.
 Qué rio sirve de desagüe al lago Tchal? N-r.
 Qué ciudades hay en la Berberia, sobre el mar Mediterráneo? A-l, T-z y T-i.
 Qué ciudades principales se encuentran en Egipto? C-o y A-a.
 Qué ciudad hay cerca del cabo de Buena Esperanza? C-o.
 Cuál en la Berberia, sobre el Atlántico? M-s.

LECCION CLVI

PAÍSES.

Dónde están situados.

Egipto? Zanguebar?
 Nubia? Abisinia?
 El Gran Desierto?
 Sudan? Guinéa?
 Etiopia? Senegambia?
 Los Estados Berberiscos?
 Mozambique? Fezzan?
 Liberia? Sierra Leona?
 La Colonia del Cabo?

CIUDADES Y PUEBLOS.

En qué países y como están situadas.

El Cairo? Alejandría?
 Marruecos? Argel?
 Túnez? Trípoli?
 Gondar? Monrovia?
 El Cabo? San Salvador?
 Temboctá? Mozambique?
 Nueva-Dengola?



LECCION CLVII

ISLAS Y CABOS.

Dónde quedan.

Mauricio ó Isla de Francia?
 Borbon? Madagascar?
 Socotra? Comoro?
 Anabona? Santa Helena?
 Cabo Verde? Canarias?
 El cabo Bueno? Verde?
 " Guardafui?
 " Buena Esperanza?

RIOS.

En qué direccion corren y dónde desembocan.

El Nilo? Niger? Senegal?
 Congo? Coanza? Nourses?
 Zambeza?

MONTAÑAS.

Dónde quedan?

Los montes Atlas?
 " de la Luna?
 " de la Nieve?

*Carro usado antiguamente por los egipcios.*

HISTORIA Y DESCRIPCION DE ÁFRICA.

LECCION CLVIII

Cuál es la estension del África?
 Es, despues de Asia, la mayor de las 5 grandes divisiones de la Tierra.

Cuál es su clima?
 En lo jeneral es mas cálido que en el resto de la Tierra.

Qué raza del jénero humano es natural de África?

Los Africanos ó Negros.

Quiénes habitan el Gran Desierto?
 Tribus de árabes errantes.

Cuál es la estension del Gran Desierto?

3,000 millas de E. á O., y 1,000 de N. á S.

Qué grandes serpientes se encuentran en África?

El boa, cuya longitud es á veces de 40 piés. (Véase pág. 51.)

Cuáles son los animales mas comunes en África?

Los elefantes, camellos, leones, antélopes y monos, las girafas, &ª.

Qué país notable se encuentra al N. E. de África?


Egipto.

Qué era Egipto antiguamente?

Un gran imperio, y fué por siglos enteros, la morada de las artes y de las ciencias.

Qué hay en Egipto que dé pruebas de su antigua grandeza?

Pirámides, obeliscos, catacumbas, el esfinge, &ª.



Ciudad del Cabo, en la parte meridional de Africa.

LECCION CLIX.

Cuál es el tamaño de la pirámide de Cheops?

Su altura es de 800 piés, y su base ocupa como 11 acres de tierra, teniendo cerca de 300 varas en cada uno de sus ángulos.

Cuántos años se emplearon en edificar esta pirámide?

20 años, y trabajaban en ella, de ciento á 200,000 hombres.

Cuándo se supone que fueron levantadas estas pirámides?

Como 900 años ántes de Jesucristo.

Quiénes las hicieron edificar?

Los Faraones, ó reyes de Egipto.

Con qué objeto?

Para que sirviesen de tumbas á los reyes, y se supone que

para que sirviesen tambien de observatorios.

Qué es el esfinge?

Un monstruo tallado en una roca sólida, el cual tiene 125 piés de largo.

Cuál es la forma de este monstruo?

Su cuerpo es de leon, con cabeza y cuello de hombre.

Qué hay de notable en Egipto, respecto de las aguas?

Que en muchos territorios de aquel país jamás llueve.

Cómo está regado el país?

Con fuertes rocios, y con las inundaciones causadas por el Nilo.

Qué es lo que causa estas inundaciones del Nilo?

Las abundantes lluvias que caen cerca de su nacimiento, en los montes de la Luna.



Leon llevándose un hotentote.

LECCION CLX.

Qué viento reina algunas veces en la Nubia?

El *Simum*, viento ardiente y venenoso, que respirado, produce una muerte instantánea.

Quiénes fundaron la Colonia del Cabo?

Los holandeses, en 1650.

Qué individuos transporta allí la Gran Bretaña?

Los reos de delitos mayores.

Qué país hay al N. de la Colonia del Cabo?

El país de los Hotentotes.

Cuál es el carácter de los Hotentotes?

Son desaseados, ignorantes, y la raza más degradada del jénero humano.

Por quiénes fué colonizada Liberia?

Por esclavos ya libres, de los Estados Unidos.

Cuál es la colonia de esclavos libertados, fundada por los ingleses?

Sierra Leona, un poco al noroeste de Liberia.

Qué hace notable á la Guínea?

Su oro y su marfil.

De dónde se saca el marfil?

De los colmillos de los elefantes.

Qué cosas se hacen del marfil?

Se hacen peines, mangos de cuchillos, &c.

Quién fué el primer hombre blanco que exploró el interior de Africa?

Mungo Park, hácia el año de 1796 ó 1797.

Cómo transportan los comerciantes sus efectos al través del Desierto?

En camellos, y reunidos en grandes grupos, que llaman *caravanas*.



Caravana, en una tormenta de arena, en el desierto de Sahara.

LECCION CLXI.

Qué es Etiopia?

Es un país que aun no se ha explorado.

Qué gran ciudad existia antiguamente en Tínez?

Cartago, rival de Roma.

Cuál fué el fin de la ciudad de Cartago?

Los romanos se apoderaron de ella, y la destruyeron completamente 146 años ántes de Jesucristo.

Cuáles son los únicos lugares donde las caravanas que viajan por el Desierto, pueden obtener agua?

Los oasis, que son territorios fértiles, que se encuentran en el Desierto.

Cuál era la ciudad mas antigua de África?

Tébas, en el Alto Ejipto.

Cuántas millas de circunferencia tenia Tébas?

23 millas; la ciudad era amurallada.



Mujer egipto.



Elefante, elefanta, y su chiqueto.

Cuántas puertas tenia la ciudad?

100, de cada una de las cuáles salieron á combatir mil guerreros

Quién destruyó á Tébas?

Los persas, ahora 2,500 años.

Qué es lo que ha hecho conocer que tal ciudad ha existido?

Las ruinas que de ella se ven en nuestros dias.

Qué objetos notables existen entre sus ruinas?

Los templos de Luxor y Carnac, el palacio de Memnon, algunas estatuas colosales, y el sepulcro de los reyes.

De cuántos años atrás se tienen noticias históricas del África?

De mas de 3,000 años.

Cuál es la estension del África?

Como 11,000,000 de millas cuadradas.

Qué pueblo fué el primero que dió la vuelta al África, por mar?

Se dice que los Fenicios, bajo Neco, rey de Ejipto.

Qué enfermedades prevalecen frecuentemente en Ejipto?

La plaga.

Qué nacion antigua estuvo en cautiverio en Ejipto?

Los Israelitas.

Quién los libró de la esclavitud?

Moisés.

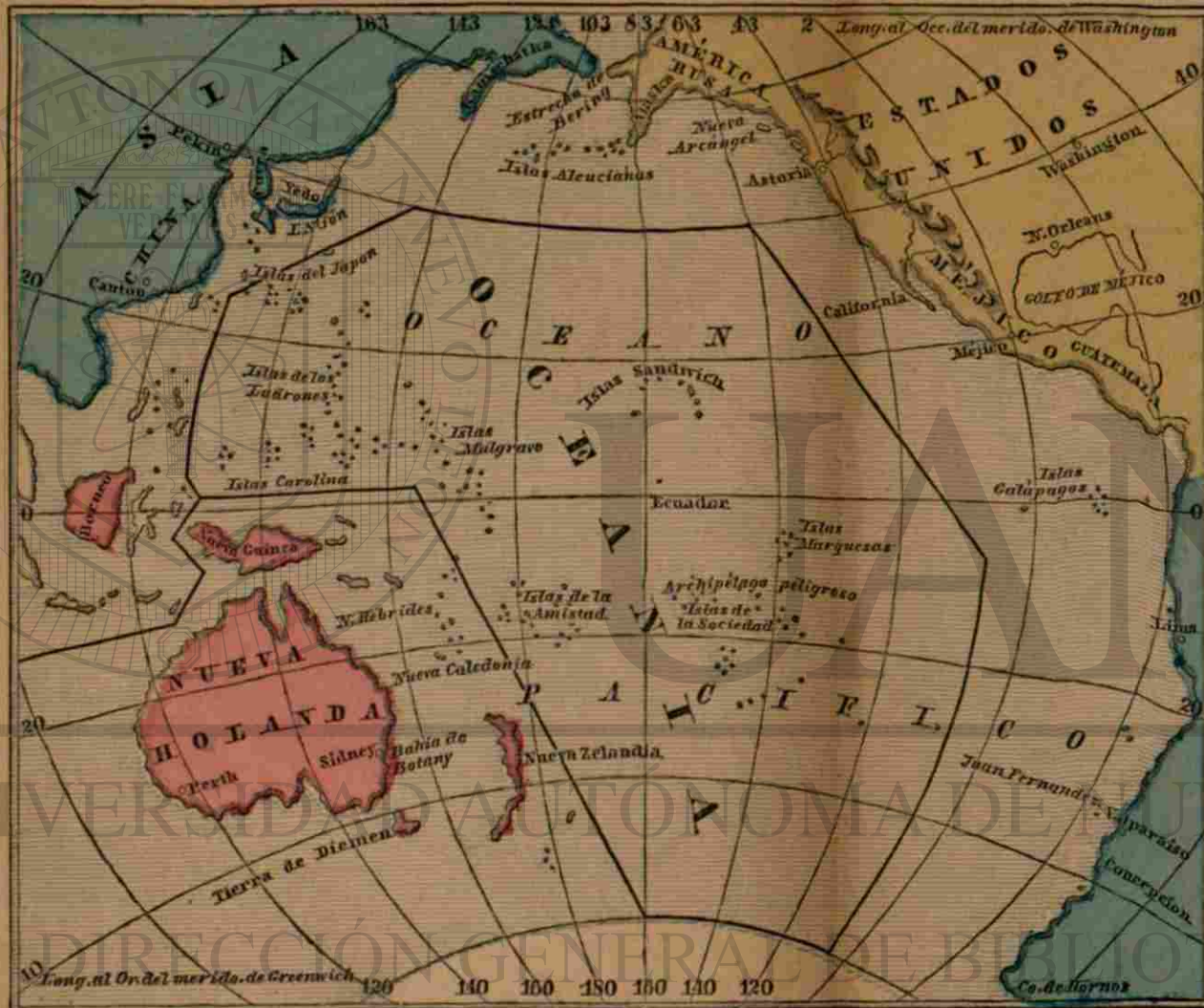
Cómo se escaparon los Israelitas de Ejipto?

Pasaron por el mar Rojo, "sobre tierra seca," á Arabia.

Qué suerte corrieron Faraon y la comitiva que los perseguian?

Todos naufragaron en el mismo mar Rojo.

MAPA DEL OCEANO PACÍFICO.



LECCION CLXII

Cuál es la estension del oceano Pacifico, de E. á O.?
 11,000 millas.
 Cúal de N. á S.?
 7,000 millas.

Qué grandes divisiones quedan al E.?
 Qué gran division al O.?
 Qué islas, de que se hacen tres divisiones, hay en el Pacifico?

Qué division comprende la mayor parte de las islas del Pacifico?
 Qué division hay al S. y O. de Oceanía?
 Cúal entre Oceanía y Asia?
 Qué estrecho separa la América del Asia?
 Qué grupo de islas hay al N. O. de Oceanía?
 Cúal al S. del estrecho de Bering?
 Qué grupo de islas se encuentra al N. del ecuador y cerca del centro de Oceanía?
 Cúal al S. O. de las islas de Sandwich?
 Qué grupos se encuentran en la parte occidental de la Oceanía?
 Cúales son otros tres grupos de la Oceanía, al S. del ecuador?
 Qué archipiélago hay entre estas islas?
 Qué grupo de islas hay sobre el ecuador, cerca de las costas de América?
 Qué grupo hay al S. E. de Oceanía y al O. de Valparaiso?
 Cúal es la isla mas grande de Australasia?
 Qué puede decirse de Australia ó Nueva-Holanda?
 Qué es la isla mas grande que se conoce.
 Qué isla grande hay al N. de Nueva-Holanda?
 Qué isla hay al S. de Nueva-Holanda?
 Qué islas quedan al S. E.?
 Cúales al E. de Nueva-Holanda?
 Cúal es la isla mas grande de Malesia?
 Qué isla hay al E. de Bornéo?
 Cúal al S. de Bornéo?
 Qué gran grupo al N. de Bornéo?
 Cúal es la mas grande de las islas del Japon?
 Cúal es la capital de las islas Japonesas?
 Qué ciudad hay al S. de Nueva-Holanda?
 Sobre qué bahia queda Sidney?
 Qué ciudad hay al S. O. de Nueva-Holanda?
 Qué ciudades notables hay sobre, ó hacia la costa de la América del Sur?
 Qué ciudad hay en Méjico, cerca de la costa?
 Qué pueblo hay sobre la costa de los Estados Unidos?
 Qué ciudad hay en China, sobre la costa?

LECCION CLXIII

Qué ciudad se encuentra al N. de Canton y O. de Corea?

P-n.

Qué península hay al O. de Méjico?

C-a.

Qué península se prolonga sobre el Pacífico, al N. O. de América?

A-a.

Qué península hay al N. E. de Asia?

K-a.

Cuál al O. de las islas Japonesas?

C-a.

Qué cabo hay al S. E. del Pacífico?

H-s.

Qué bahía hay al S. E. de Nueva-Holanda?

B-y.

Qué océanos se comunican por el estrecho de Bering?

P-o y A-o.

En qué dirección están las islas Sandwich, respecto del estrecho de Bering?—de las islas Aleucianas?—de Méjico?—de las islas Galápagos?—del cabo de Hornos?—de las islas Marquesas?—de las de Juan Fernandez?—de las de la Sociedad?—de las de la Amistad?—de Nueva-Zelandia?—de Nueva-Holanda?—de Nueva-Guinéa?—de Bornéo?—del archipiélago Mulgrave?—de las islas Carolinas?—de las de los Ladrones?—de las del Japon?—de la ciudad de Canton?—de Pekin?



Muerte del capitán Cook.

HISTORIA Y DESCRIPCION DE LAS ISLAS DEL OCEANO PACÍFICO.

LECCION CLXIV.

Quién fué el primer navegante que atravesó el oceano Pacífico?

Francisco Magallanes salió de España con este objeto, al mando de varios buques, en 1519.

Cuándo entró este navegante al oceano Pacífico?

En 1520, pasando por el estrecho que lleva su nombre.

En qué dirección siguió luego?


Siguió hacia el N. O., deteniéndose en muchas de las islas.

Qué le sucedió durante su viaje?

Fué matado por los habitantes de una de las islas Filipinas.

Qué dirección tomaron sus buques, para ir de las Filipinas á España?

Se dirijieron hacia el S. O., y doblaron el cabo de Buena Esperanza.



Pueblo en Nueva-Zelandia.

LECCION CLXV.

Cuánto tiempo duró este viaje al redor del mundo?

Poco mas de tres años.

Qué se hicieron sus buques?

Todos se perdieron, excepto uno.

Cuáles son las producciones de las islas que componen la Malesia?

Oro, diamantes y ricas especias.

Cuál es el color de los naturales de aquellas islas?

Son de un color pardo.

Cuál es la principal isla de Malesia? Bornéo.

Qué animal particular hay en Bornéo?

El orangutan, que se parece mucho al hombre.

Cuáles fueron los primeros hombres de la raza blanca, enviados á Australia?

Algunos reos ó presos de Inglaterra.

A qué punto llevaron estos presos?

A la bahía de Botany.

Dónde es que envía ahora sus presos el gobierno inglés?

A la Tierra de Diemen.

Qué metal precioso se ha encontrado recientemente en Australia?

Oro, en grande abundancia.

Qué animal singular se encuentra en Australia?

El kangarú.

A qué gobierno pertenece Australia?

Al de la Gran Bretaña.

Cuál era el carácter de los naturales de muchas de las islas del Pacífico?

Eran salvajes, feroces, y muchos de ellos caníbales.

A quiénes se dá el nombre de caníbales?

A los que comen carne humana.



Bomba marina.

LECCION CLXVI

Cuál es el grupo más importante de las islas de la Oceanía?

Las islas Sandwich.

Quién descubrió estas islas?

El capitán Cook, en 1778.

Cuál fué la suerte del capitán Cook?

Fué inhumamente asesinado por los naturales.

Qué cambio ha tenido lugar en los habitantes de Sandwich?

Se han civilizado y cristianizado.

A esfuerzos de quiénes se ha obtenido este cambio?

A esfuerzos de los misioneros cristianos.

Cuál es la isla principal del grupo de Sandwich?

Hawaii.

Qué volcán notable hay en esta isla?
El Kirauea, que es el mayor que se conoce.

En qué otras islas hay estaciones de misioneros?

En las de la Amistad, la Sociedad, y otras.

De qué se han formado muchas de las islas del Pacífico?

De una especie de gusano de agua salada, llamado coral.

Qué ha producido la formación de otras islas del Pacífico?

Algunos volcanes submarinos.

Porqué son notables las islas de Juan Fernández?

Por haber sido la residencia de Alejandro Lelkirh.

Quién era Alejandro Lelkirh?

Un marinero escocés, que naufragó y residió allí, solo, por el espacio de muchos años.



Volcán en el mar.



LECCION CLXVII

CÍRCULOS DEL GLOBO.

Cuál es la forma de la Tierra?

Redonda, como una naranja.

Qué hace que los hombres, los buques, &c. se mantengan sobre la superficie de la Tierra?

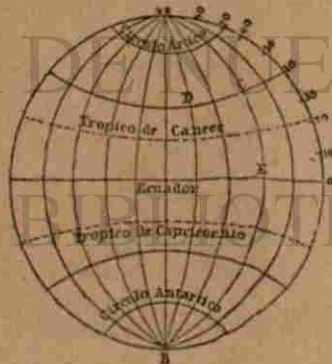
La atracción de la tierra.

En cuántos grados se supone que está dividido todo círculo?

En 360 grados.

Cuántos grados componen un cuarto de círculo?

90 grados.



Qué es el ecuador?

Un círculo imaginario que rodea la Tierra de E. á O., y cuyos puntos todos están á igual distancia de los polos.

Qué son los trópicos?

Dos círculos paralelos, al N. y S. del ecuador, distantes cada uno $23\frac{1}{2}$ grados de este.

Qué es el círculo ártico?

Un círculo al rededor del polo norte, á $23\frac{1}{2}$ grados de dicho polo.

Cuál es el círculo antártico?

Un círculo al rededor del polo sur, á $23\frac{1}{2}$ grados de dicho polo.

Qué son los meridianos?

Círculos imaginarios que pasan por los polos de la Tierra, y cortan al ecuador en ángulos rectos.

Qué son paralelos de latitud?

Círculos paralelos al ecuador.

LECCION CLXVIII.

ZONAS, CLIMAS, &c.

Qué son zonas?

Las divisiones de la superficie de la Tierra, hechas por los trópicos y los círculos polares.

Cuántas zonas hay?

Cinco: una tórrida, dos templadas y dos frías.

Cuál es la zona tórrida?

La que queda entre el trópico de Cáncer y el de Capricornio.

Cuál es la anchura de la zona tórrida?

3,243 millas de N. á S.

Qué estaciones hay en la zona tórrida?

Hay dos: la seca y la lluviosa.

Cuál es el clima de dicha zona?

Es siempre cálido.

A qué está sujeta la zona tórrida?

A temblores y huracanes.

Dónde está situada la zona templada del N.?

Entre el trópico de Cáncer y el círculo ártico.

Y la zona templada del S.?

Entre el trópico de Capricornio y el círculo antártico.

Cuál es la anchura de cada una de las zonas templadas?

2,970 millas de N. á S.

Qué estaciones hay en las zonas templadas?

La primavera, el verano, el otoño y el invierno.

LECCION CLXIX.

Cuál es el clima de las zonas templadas?

Es variable; en el verano es cálido y en el invierno frío.

Qué diferencia existe en las estaciones de las dos zonas templadas?

En los meses en que en la una pasa el invierno, en la otra pasa el verano.

Dónde queda la zona fría del N.?

Al rededor del polo norte.

Dónde queda la zona fría del S.?

Al rededor del polo sur.

Cuál es el diámetro de las zonas frías?

Cada una tiene 3,272 millas de diámetro.

Por qué se llaman estas zonas frías?

Por que en ellas hace mucho frío.

De qué está cubierta la tierra en las zonas frías?

La mayor parte del año lo está de nieve y hielo.

Qué estaciones reinan allí durante el año?

Un invierno largo y frío, y un verano corto.

Qué produce la tierra en estas zonas?

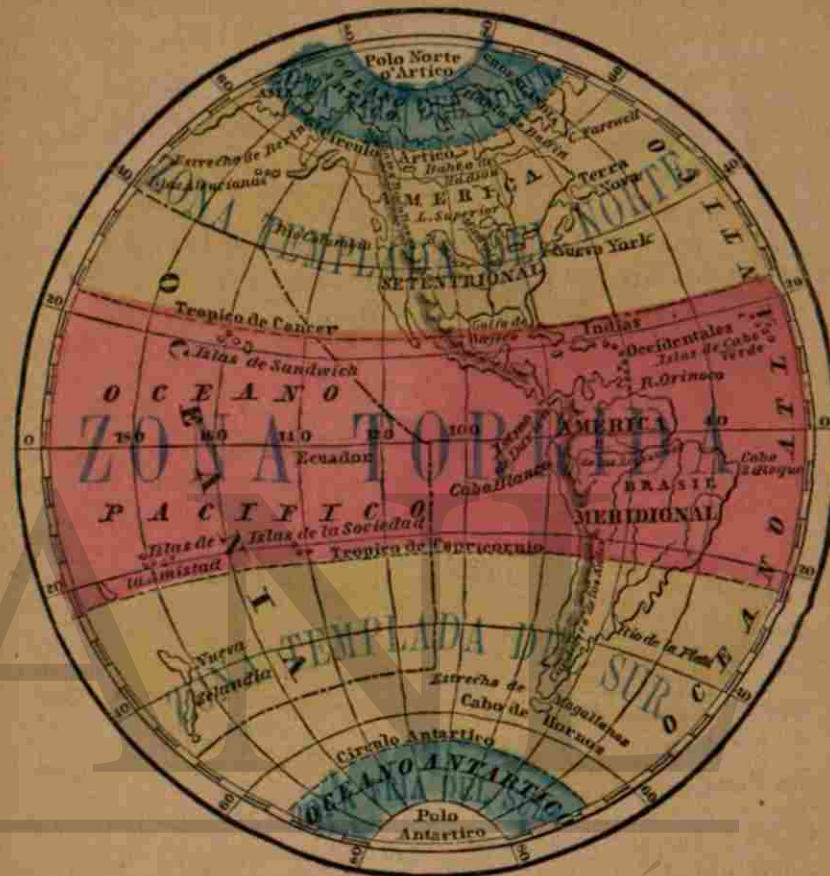
Apenas se dan en ellas algunos arbustos, yerba y muzgo.

Qué animales hay en las zonas frías?

Osos blancos, renjíferos y otros.

Cómo está dividido el año en los polos?

La mitad del año es un día claro continuado, y la otra mitad es una continuada noche.



LECCION CLXX.

CUESTIONES SOBRE EL HEMISFERIO OCCIDENTAL.

En qué zonas quedan los siguientes países, océanos, &c.

- | | |
|------------------------------------------------|--------------------------------------------|
| El océano Ártico? | Las Indias Occidentales? |
| La parte setentrional de la bahía de Bafin? | La mayor parte de la América del Sur? |
| La mayor parte de Groenlandia? | Las islas Sandwich? |
| La parte setentrional de la América del Norte? | Las islas de la Amistad y de la Sociedad? |
| La parte meridional de Groenlandia? | La parte meridional de la América del Sur? |
| La bahía de Hudson? | Nueva-Zelandia? |
| La mayor parte de la América del Norte? | El istmo de Panamá? |
| | En qué zonas está el golfo de Méjico? |

LECCION CLXXI

MAPA DE MÉJICO, &^a

(Páginas 20 y 21.)

En qué zona están—

Los Estados Unidos?
 La parte meridional de la Baja California?
 El golfo de Méjico?
 Cuba?
 Florida?
 Centro-América?
 El mar Caribe?
 Nueva-York?
 Méjico?

MAPA DE LA AMÉRICA DEL SUR.

(Página 22.)

En qué zona están—

La Nueva-Granada?
 Patagonia?
 Venezuela?
 Chile?
 Ecuador?
 Buenos Aires?
 Perú?
 Uruguay?
 Brasil?
 Tierra del Fuego?
 Guayana?
 Paraguay?
 La parte meridional del Brasil?

MAPA DE EUROPA.

(Página 92.)

En qué zona está—

Toda la Europa, á escepcion de la parte setentrional de la Noruega, la Suecia y la Rusia?

MAPA DE ASIA.

(Página 102.)

En qué zona están—

La parte setentrional de Siberia?
 El imperio Chino?

Tartaria?
 Persia?
 El estrecho de Bering?
 La estremidad meridional del Indostan?

Arabia?
 India?
 Malaca?
 Ceilan?
 Pekin?
 Nueva-Zembla?

LECCION CLXXII

MAPA DE ÁFRICA.

(Página 110.)

En qué zona están—

La mayor parte de África?
 Los estados berberiscos?
 La parte setentrional del Gran Desierto?
 La Colonia del Cabo?
 La parte meridional de Madagascar?
 Sudan?
 Las islas de Cabo Verde?
 Las Canarias?
 Egipto?
 La parte setentrional del mar Rojo?

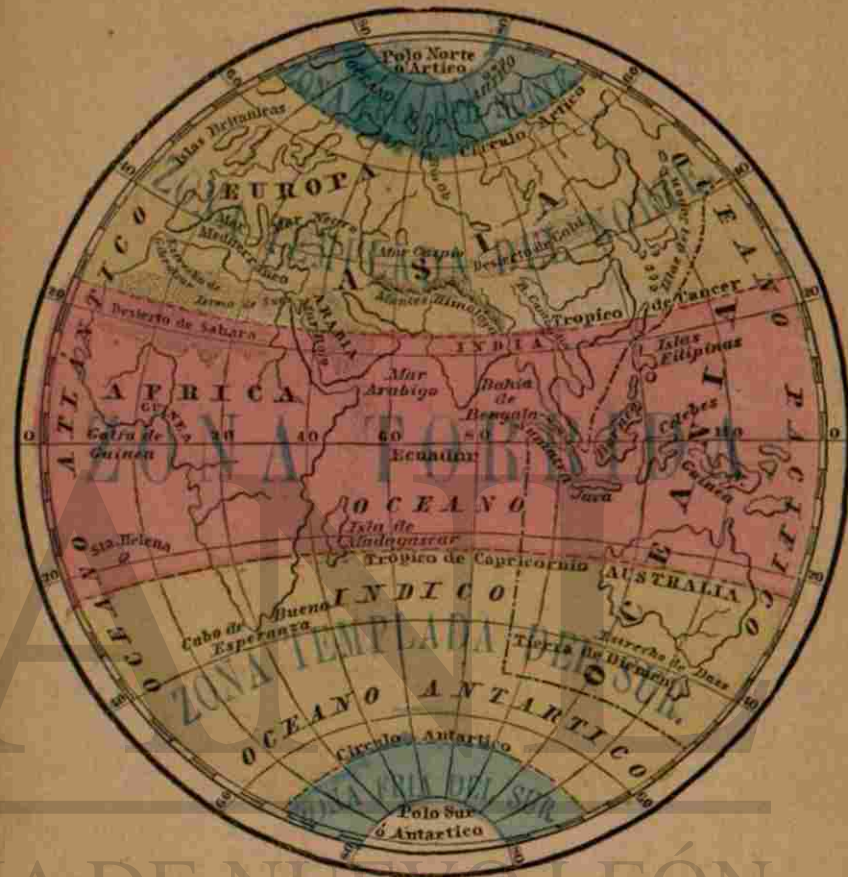
MAPA DEL OCEANO PACÍFICO.

(Páginas 115 y 119.)

De qué lado del ecuador quedan—

Las islas Sandwich?
 Nueva-Zelandia?
 Las islas Aleucianas?
 Nueva-Guinéa?
 Las islas del Japon?
 Java?
 Las islas Filipinas?
 Las islas de la Amistad?
 Las islas Caribes?
 Las de la Sociedad?
 Las de los Ladrones?
 Australia?

Qué islas grandes, y qué grupo de islas son cortadas por el ecuador?



LECCION CLXXIII.

CUESTIONES SOBRE EL HEMISFERIO ORIENTAL.

En qué zonas están los siguientes países, oceanos, &^a.

Europa?
 El mar Mediterráneo?
 La parte setentrional del África?
 La parte central y mas considerable del África?
 La parte meridional del África?
 La parte setentrional de Asia?
 La mayor parte de Asia?
 El desierto de Cobi?

La bahía de Bengala?
 El cabo de Buena Esperanza?
 Las islas del Japon?
 La isla de Madagascar?
 La Tierra de Diemen?
 El golfo de Guinéa?
 Las islas Británicas? Las Filipinas?
 En qué zona está Arabia?
 Australia? El desierto de Sahara?



1. EUROPEO. 2. CHINO. 3. NATURAL DE LA MALECIA. 4. INDIO NORTE-AMERICANO. 5. AFRICANO.

LECCION CLXXIV.

RAZAS DE HOMBRES.

Cuántas razas de hombres hay sobre la tierra?

Cinco: la europea, la asiática, la malaya, la americana y la africana.

Cuáles fueron los primeros habitantes de la tierra?

Adam y Eva.

Dónde vivieron Adam y Eva?

En el jardín del Eden.

Dónde quedaba este jardín?

Se supone que existía en la parte sudoeste de Asia, cerca de los ríos Tigris y Eufrates.

Dónde se estableció la posteridad de Adam?

Se esparció, á medida que se aumentaba, por toda la superficie de la tierra.

En qué es que mas difieren las razas?

En las facciones, el color y la inteligencia.

LECCION CLXXV.

Qué causas han producido una diferencia tan grande en el color, carácter y condicion de las razas presentes?

La diferencia de clima, el alimento, el vestido, el modo de vivir, y otras causas que nos son casi desconocidas.

Cuál es la primera raza ó la mas inteligente?

La raza blanca ó europea.

Describase la raza blanca.

Los individuos de esta raza tienen facciones inteligentes y regulares, y cutis mas ó menos blanco, segun que vivan en climas frios ó cálidos.

Cuál es su carácter?

Son civilizados y cristianizados, y poseen mas energía, ambicion y conocimientos que todas las otras razas.

Qué individuos abraza esta raza?

Todos los europeos y los descendientes de estos, que se han diseminado por casi toda la superficie del globo.

Cuál es la segunda raza en carácter é inteligencia?

La raza asiática.

Describase esta.

El color de los individuos de esta raza es amarillo oscuro; sus cabezas son casi cuadradas; son envarados, derechos, de cabello negro; los huesos de sus mejillos son protuberantes; su nariz pequeña y chata; frente aplana, y ojos pequeños.

LECCION CLXXVI.

Qué países son poblados por esta raza?

El Japon, la China, la Mongolia, la Siberia, la Finlandia y la Laponia; y se encuentran de ella, en América, los indios esquimales.

Cuál es la tercera raza?

Las tribus de indios que habitaban la América cuando esta fué descubierta por Colon.

Cuáles son los caracteres de los individuos de esta raza?

Su color de cobre ó pardo; su pelo negro y fuerte, la protuberancia de los huesos de sus mejillas, sus ojos negros y sumidos, su rostro grande y su robustez.

Cuál es la cuarta raza?

La malaya ó morena, cuyos caracteres son: facciones europeas, color atezado, pelo negro, boca grande, nariz gruesa, y cuerpo delgado.

Qué países habita esta raza?

La mayor parte de las principales islas del Pacifico.

Cuál es la quinta raza?

La negra ó africana: su color es negro de azabache, frente baja y angosta, pelo negro, lanudo y encrespado, labios gruesos y pié largo.

En qué país tuvo su origen esta raza?

En África; pero se han llevado negros á diferentes lugares del mundo, como esclavos.

Cuál se supone ser la poblacion actual de la Tierra?

Como mil millones de almas.



LECCION CLXXVII
RELIJION.

Qué es relijion?

La creencia de que existe un Dios, y su veneracion.

Las naciones adoran todas algun Dios?

Sí: unas adoran al Dios verdadero, y otras adoran ídolos.

Cuántas y cuáles son las principales relijiones del mundo?

Cuatro: la cristiana, la mahometana, la judía, y la pagana ó idólatra.

A quiénes se les da el nombre de cristianos?

A los que adoran el verdadero Dios, y creen en Jesucristo como está revelado en la Biblia.

Cuáles son los mahometanos?

Los discípulos del impostor relijioso, Mahoma.

Cuándo fué que Mahoma floreció?

600 años despues de Jesucristo.

Cómo se llama su credo?

El Koran ó Alcoran.

Cuáles son los judíos?

Los que creen en Dios y el Viejo Testamento; pero no reconocen á Jesucristo, y rechazan el Nuevo Testamento.

Qué es lo que estos esperan?

Un salvador del mundo, que creen está por venir.

Cuáles son los paganos ó idólatras?

Los que creen en dioses falsos; y adoran ídolos, animales, &c.

CATÁLOGO

DE LOS LIBROS PUBLICADOS POR

D. APPLETON Y COMPAÑÍA.

Afabeto en Piezas.

Juguete para niños. Es una cajita de seis pulgadas de alto, que encierra 27 dados ó cubos perfectamente cortados ó iguales, conteniendo cada uno en sus seis caras, una letra del alfabeto, tres palabras que empiezan con esa letra, un fino grabado con colores y un número en cifra y en letra.

Bello. Compendio de la Gramática Castellana,

De D. Andrés Bello, escrito para uso de las escuelas de la América Española, por J. Arnaldo Márquez. Un tomo de 163 páginas, en 18'.

Burnouf. Elementos de Gramática Latina,

Extractados del Método para Estudiar la Lengua Latina, por J. L. Burnouf. Traducidos del Francés al Castellano por Juan Vicente González. Un tomo de 164 páginas, en 12'.

Butler. El Maestro de Inglés y de Español, ó Libro de

Frases Familiares. Por Francisco Butler. Un tomo de 292 páginas, en 18'.

Carreño. Manual de Urbanidad y Buenas Maneras,

Para uso de la juventud de ambos sexos. Un tomo de 322 páginas, en 12'.

Carreño. Compendio del Manual de Urbanidad y Buenas

Maneras. Arreglado para uso de las escuelas. Un tomo de 129 páginas, en 18'.

Cervantes. El Ingenioso Hidalgo Don Quijote de la

Mancha, segun el texto corregido y anotado por el Sr. Ochoa. Un tomo de 685 páginas, en 12'.

Cervantes. El Ingenioso Hidalgo Don Quijote de la

Mancha, segun el texto corregido y anotado por el Sr. Ochoa. Edición de lujo con castores láminas y retrato de Cervantes. Un tomo de 695 páginas, en 8'.

Coe. Cartones de Dibujo para las escuelas.

En diez partes. Por Coe.



LECCION CLXXVII
RELIJION.

Qué es relijion?

La creencia de que existe un Dios, y su veneracion.

Las naciones adoran todas algun Dios?

Sí: unas adoran al Dios verdadero, y otras adoran ídolos.

Cuántas y cuáles son las principales relijiones del mundo?

Cuatro: la cristiana, la mahometana, la judía, y la pagana ó idólatra.

A quiénes se les da el nombre de cristianos?

A los que adoran el verdadero Dios, y creen en Jesucristo como está revelado en la Biblia.

Cuáles son los mahometanos?

Los discípulos del impostor relijioso, Mahoma.

Cuándo fué que Mahoma floreció?

600 años despues de Jesucristo.

Cómo se llama su credo?

El Koran ó Alcoran.

Cuáles son los judíos?

Los que creen en Dios y el Viejo Testamento; pero no reconocen á Jesucristo, y rechazan el Nuevo Testamento.

Qué es lo que estos esperan?

Un salvador del mundo, que creen está por venir.

Cuáles son los paganos ó idólatras?

Los que creen en dioses falsos; y adoran ídolos, animales, &c.

CATÁLOGO

DE LOS LIBROS PUBLICADOS POR

D. APPLETON Y COMPAÑÍA.

Aifabeto en Piezas.

Juguete para niños. Es una cajita de seis pulgadas de alto, que encierra 27 dados ó cubos perfectamente cortados ó iguales, conteniendo cada uno en sus seis caras, una letra del alfabeto, tres palabras que empiezan con esa letra, un fino grabado con colores y un número en cifra y en letra.

Bello. Compendio de la Gramática Castellana,

De D. Andrés Bello, escrito para uso de las escuelas de la América Española, por J. Arnaldo Márquez. Un tomo de 163 páginas, en 18'.

Burnouf. Elementos de Gramática Latina,

Extractados del Método para Estudiar la Lengua Latina, por J. L. Burnouf. Traducidos del Francés al Castellano por Juan Vicente González. Un tomo de 164 páginas, en 12'.

Butler. El Maestro de Inglés y de Español, ó Libro de

Frases Familiares. Por Francisco Butler. Un tomo de 292 páginas, en 18'.

Carreño. Manual de Urbanidad y Buenas Maneras,

Para uso de la juventud de ambos sexos. Un tomo de 322 páginas, en 12'.

Carreño. Compendio del Manual de Urbanidad y Buenas

Maneras. Arreglado para uso de las escuelas. Un tomo de 129 páginas, en 18'.

Cervantes. El Ingenioso Hidalgo Don Quijote de la

Mancha, segun el texto corregido y anotado por el Sr. Ochoa. Un tomo de 685 páginas, en 12'.

Cervantes. El Ingenioso Hidalgo Don Quijote de la

Mancha, segun el texto corregido y anotado por el Sr. Ochoa. Edición de lujo con castores láminas y retrato de Cervantes. Un tomo de 695 páginas, en 8'.

Coe. Cartones de Dibujo para las escuelas.

En diez partes. Por Coe.

Cornell. Cartones de Cornell para Estudio y Práctica del Dibujo de Mapas. Designados para acompañar á cualquiera geografía. Un juego de 13 mapas.

Cornell. Mapas de Cornell.

Juego de 13 Mapas Mudos con los lugares marcados con números en vez de sus nombres.

Cornell. Una Clave de los Mapas Mudos de Cornell.

Designada para el uso del profesor. Un tomo de 50 páginas, en 12°.

De Belem. Libro de Frases Inglesas y Españolas.

Por E. M. De Belem. Un tomo de 88 páginas, en 15°.

De Marchena. Compendio de la Historia Antigua,

ó Historia de los Principales Pueblos de la Antigüedad. Hasta la muerte de Carlomagno. Escrita en Inglés, y traducida al Castellano, por A. R. De Marchena. Un tomo de 252 páginas, en 15°.

Diccionario Mercantil, en Inglés, Francés, y Español,

por D. I. de Veitellé. Está dividido en tres partes. La primera contiene—el DICCIONARIO, propiamente dicho en Inglés—francés—español, alternadamente, en el cual se hallan las voces mercantiles empleadas en dichas lenguas, la denominación de las mercancías que circulan hoy en el comercio, y también, los términos de marina de mas frecuente uso en la correspondencia comercial; la segunda—un gran número de cartas arregladas al estilo moderno, con modelos de facturas, cuentas corrientes, pagarés, letras de cambio, conocimientos, etc.; la tercera—un VOCABULARIO GEOGRÁFICO, y una lista de las principales abreviaturas usadas en los tres idiomas. Un tomo de 805 páginas, en 12°.

Dusseldorff. Perlas de la Galería Dusseldorff,

Fotografías originales por A. A. Turner. Reproducidas por la vez primera bajo la dirección de B. Frodsham. Un tomo en folio grande conteniendo 52 fotografías, elegantemente encuadernado en tafilete.

Elementos de la Historia Universal.

Para uso de las escuelas hispano-americanas. Un tomo de 431 páginas, en 8°.

El Language de las Flores y de las Frutas,

con algunos Emblemas de las Piedras y los Colores. Un tomo muy atractivo de 146 páginas, en 15°.

Galería de Pinturas para Niños.

Un tomo de 56 páginas en 4°, mayor, en magnífico papel, conteniendo cerca de 300 finos grabados. La misma obra con los grabados iluminados.

Grand. Compendio de Aritmética Elemental,

Para la Instrucción Primaria, por M. P. Grand. Un tomo de 60 páginas en 12°.

Le Sage. Historia de Gil Blas de Santillana,

Publicada en Francés por A. R. Le Sage, traducida al Castellano por el Padre Isla. Un tomo en 12°.

Libro Primario de los Niños.

Una cartilla adornada con láminas iluminadas. Un tomo de 14 páginas, en 8°.

Libro Primario de Ortografía,

Designado particularmente para uso de las escuelas de primeras letras. Un tomo de 164 páginas en 12°.

Los Miserables. Novela por Victor Hugo,

Traducida del original francés al castellano por D. José Segundo Flores. Dos tomos en 8°, encuadernados en tela.

Mándevil. Libro Primario por el Doctor Enrique Mán-

devil. Designado particularmente para las escuelas de los niños. Un tomo de 78 páginas, con láminas, en 12°.

Mándevil. Libro Segundo por el Doctor Enrique Mán-

devil. Un tomo de 135 páginas, con láminas, en 12°.

Mándevil. Libro Tercero de Lectura.

Un tomo en 12°, constando de mas de 250 páginas.

Marsh. Curso Práctico de Teneduría de Libros.

Partida Senella. Por C. C. Marsh, contador. Un tomo de 144 páginas, en 8°.

Marsh. La Ciencia de la Teneduría de Libros,

Bien calculada para enseñar completamente la Teoría y la Práctica de la Partida Doble. Por C. C. Marsh, contador. Un tomo de 106 páginas, en 8°.

Marsh. Juegos de Libros (en Blanco),

Para la Práctica de la Teneduría. Seis libros, componen un juego.

Mi Abuela Fácil, Colección Nueva de Historias para

Niños. Adornadas con bonitas láminas. Diez libritos, en paquetes surtidos.

Nueva Biblioteca de la Risa, por una Sociedad de

Literatos de Buen Humor. Obra capaz de hacer reír á una estatua de piedra, escrita al alcance de todas las inteligencias, y dispuesta para satisfacer todos los gustos. Un tomo de 496 páginas, en 12°.

Nuevo Tesoro de Chistes, Máximas, Proverbios, Reflexiones Morales, Historias, Cuentos y Leyendas. Extractados de las obras de los mejores autores Ingleses y Americanos. Traducido al Castellano por Simón Canacho. Un tomo de 271 páginas, en 12°.

Ollendorff. Un Método para Aprender á Leer, Escribir, y Hablar el Inglés, según el Sistema de Ollendorff. Por Ramon Palenzuela y Juan de la C. Carreño. Un tomo de 437 páginas, en 12°.

Ollendorff. Clave de los Ejercicios del Método para aprender á Leer, Escribir, y Hablar el Inglés, según el Sistema de Ollendorff. Por Ramon Palenzuela y Juan de la C. Carreño. Un tomo de 111 páginas, en 12°.

Ollendorff. Un Método para Aprender á Leer, Escribir, y Hablar el Francés según el Sistema de Ollendorff. Por Teodoro Simoná. Un tomo de 341 páginas, en 12°.

Ollendorff. Clave de los Ejercicios del Método para aprender á Leer, Escribir, y Hablar el Francés, según el Sistema de Ollendorff. Por Teodoro Simoná. Un tomo de 89 páginas, en 12°.

Ómnibus, ó Libro de Memoria, para todo el año.

Contiene el Ómnibus: tablas de cálculo de tiempo; tablas de intereses; tabla de la cantidad de días entre dos épocas dadas; tabla comparativa de las eras de las principales naciones del mundo; lista de las fiestas móviles, cuatro temporales, etc.; cómputo eclesiástico; calendario de los Santos; agenda para cada día del año; páginas pautadas para cuentas de gastos, apuntes de vales á pagar y á recibir, etc., etc. En tres estilos de encuadernación. *El Ómnibus se publica para cada año, con 6 meses de anticipación.*

Otis. Estudios sobre los Animales,

Con instrucciones para el uso del Lápiz de Plomo y de Creyón. Por F. N. Otis, A.M. Un tomo.

Otis. Lecciones Fáciles de Paisaje,

Con instrucciones para el uso del Lápiz de Plomo y de Creyón. Por F. N. Otis, A.M. Un tomo.

Ortiz. Principios Elementales de Física Experimental y Aplicada, incluyendo la Meteorología y la Climatología. Por Pedro P. Ortiz. Un tomo de 507 páginas y 856 grabados, en 12°.

Paez. Libro Segundo de Geografía Descriptiva,

Destinado á seguir al Primero de Smith. Adornado con Doce Grandes Mapas y mas de cien grabados que sirven para mejor Intelligencia del texto. Edición

Enteramente Nueva, Corregida y aumentada conforme á los últimos datos Estadísticos y Cambios Políticos, y Arreglada al uso de las Escuelas Hispano-Americanas. Por D. Ramon Paez. Un tomo de 90 páginas grandes.

Perkins. Lecciones de Aritmética Elemental,

Basada en el nuevo sistema mental y práctico adoptado en las principales escuelas de los Estados-Unidos. Por Jorge R. Perkins. Un tomo de 163 páginas en 18°.

Ripalda. Catecismo de la Doctrina Cristiana.

Por el P. Gerónimo Ripalda, de la Compañía de Jesus. Un tomo de 90 páginas, en 15°.

Rosales. Cateo Cristiano, Catecismo de la Doctrina Cristiana, para la educación y buena crianza de los niños. Compuesto por el P. Gerónimo Rosales, de la Compañía de Jesus. Nuevamente corregido y añadido el compendio de la fe del Catecismo del P. Francisco Amado Pouget, al fin. Un tomo de 331 páginas, en 18°.

Robertson. Nuevo Curso Práctico, Analítico, Teórico

y Sintético de Idioma Inglés. Escrito para los Franceses por T. Robertson. Traducido y adaptado al Castellano sobre la última edición del original. Por Pedro José Rojas. Un tomo de 331 páginas, en 8°, con una clave de los ejercicios.

Roemer. El Lector Polígloto y Guia para la Traducción,

Cinco tomos (que se venden separadamente) por J. Roemer, M. A. El tomo I se compone de una importante serie de Extractos Ingleses; el II. sus traducciones en Francés, por el Profesor Roemer; el III. en Aleman, por el Dr. Reinhard Solger; el IV. en Español, por Simón Canacho; el V. en Italiano, por el Dr. Vincenzo Botta; haciendo de esta manera una mutua clave de cada lengua. Cada tomo en 12°.

Royo. Instrucción Moral y Religiosa,

Para las escuelas de la República. Nociones importantes tomadas del Francés. Por José Manuel Royo. Obra examinada y aprobada por el M. R. señor Arzobispo de Bogotá. Un tomo de 243 páginas, en 18°, con láminas.

Sarmiento. Aritmética Práctica, primera parte.

Sumar, Restar, Multiplicar y Dividir Enteros y Quebrados. Publicadas por orden del Jefe del Departamento de Escuelas del Estado de Buenos Ayres, por Domingo F. Sarmiento. Un tomo de 64 páginas, en 12°.

Sarmiento. Método de Lectura Gradual,

Por Domingo F. Sarmiento. Un tomo de 64 páginas, con cuarenta láminas, en 15°.

Serie Nueva de Novelitas, para Diversion é Instrucción de la Infancia:

Aladín ó la Lámpara Maravillosa, Ali Baba y los Cuarenta Ladrones,
El Gato Calzado, Juan el Matador de Gigantes,
Beldad y la Bestia, Aventuras de Robinson Crusoe,
Viaje de Gulliver a Lillipucia, La Caperucita Roja,
Juanito y el Tallo de Haba, La Barba Azul,
Cenicentilla, ó el Escarpín de Cristal, La Gata Blanca.

Expendense por separado en paquetes de 12 novelitas.

Smith. Astronomía Ilustrada,

Dispuesta para uso de las Escuelas de la América Española; ilustrada con numerosos diagramas originales; por Asa Smith, traducida al español por Demetrio Paredes. Un tomo en cuarto mayor, 66 páginas.

Smith. Primer Libro de Geografía de Smith, ó Geografía

Elemental, dispuesto para los Niños. Adornado con cien grabados y catorce mapas, por Asa Smith, M.A. Traducido al Español por Temistocles Paredes. Un tomo de 181 páginas, en cuarto menor, con mapas y muchas estampas.

Velázquez. Diccionario de Pronunciación de las Lenguas

Española é Ingles, por Mariano Velázquez de la Cadena, compuesto sobre los Diccionarios Españoles de la Academia Española, Terreros, Salvá y el Baretti y Neuman por el Dr. Seoane, y los Ingleses de Webster, Worcester, y Walker, aumentado con mas de ocho mil palabras, idiosismos, y frases familiares, las irregularidades de los verbos y la sinopsis de ambas lenguas. En dos partes: I. Español é Ingles; II. Ingles y Español. Un tomo, en 8.º mayor, de mas de 1900 páginas, hermosamente impreso y bien encuadernado.

Velázquez. Diccionario de las Lenguas Española é Ingles.

Abreviado del grande del autor al uso de los jóvenes estudiantes y de los viajeros, por Mariano Velázquez de la Cadena. En dos partes: Español é Ingles; Ingles y Español. Un tomo de 647 páginas, en 12.º.



UNIVERSIDAD AUTÓNOMA DE NUEVO LEÓN

DIRECCIÓN GENERAL DE BIBLIOTECAS



LAS CINCO BAZAS DE HOMENES



GENE... MALDEN... APRIL

UEV
OTEC