

MAPA DE ASIA.



LECCION CXLI

MAPA DE ASIA.

- Qué océano hay al N. de Asia? Á-o.
 Cuál al E.? P-o.
 Cuál al S.? I-o.
 Qué grandes divisiones se encuentran
 a. O. de Asia? E-a y A-a
 Qué país se encuentra al N.? S-a.
 A quién pertenece Siberia?
 Al gobierno ruso.
 Qué imperio hay al S. de Siberia?
 C-a.
 Qué montañas hay entre Siberia y el
 imperio Chino? Á-i.
 Qué país queda al O. de Siberia?
 E-a.
 Qué montes hay entre Siberia y Euro-
 pa? U-s.
 Qué país queda al S. O. del imperio
 Chino? I-n.
 Qué montes entre Indostan y China?
 H-a.

LECCION CXLI

- Qué país hay al O. de China?
 T-a I-e.
 Qué mar al O. de la Tartaria Inde-
 pendiente? C-o.
 Qué mar se encuentra al S. O. de
 Asia? A-a.
 Cuál entre Arabia y África? R-o.
 Qué país hay al N. de Arabia? T-a.
 Qué istmo une el Asia con el África?
 S-z.
 Qué mar se encuentra al N. de Tur-
 quía? N-o.
 Qué país queda al E. de Arabia?
 P-a.
 Qué golfo hay entre Arabia y Persia?
 P-o.
 Qué países pequeños hay entre Persia
 é Indostan? A-n y B-n.
 Cuáles al S. del imperio Chino?
 B-n, S-m y A-m.
 Qué mar hay al E. de Siberia? O-k.
 Qué mar se encuentra al E. del impe-
 rio Chino? A-o.
 Cuál al S. de China? C-a.
 Qué gran bahía hay al S. de Indos-
 tan? B-a.

LECCION CXLI

- Qué estrecho á la entrada del mar
 Rojo? B-b.
 Qué estrecho hay entre Siberia y Amé-
 rica? B-g.
 Cuál es la anchura de este estrecho?
 36 millas.
 Qué lago hay a. S. de Siberia? B-l.
 Cuáles son los tres grandes rios de
 Siberia, que desembocan en el océano Ar-
 tico? O-i, Y-i y L-a
 Qué rio hay al N. E. del imperio Chi-
 no? A-r.
 Qué dos rios se encuentran en China,
 que desembocan en el mar Amarillo?
 H-o ó Amarillo y Y-g I-g ó Azul.
 Qué rio hay entre Siam y Anam?
 C-a.
 Cuál entre Europa y Tartaria? U-l.
 Qué rio de Turquía desemboca en, el
 golfo Pérsico? E-s.
 Qué rio de Indostan desemboca en la
 bahía de Bengala? G-s.

LECCION CXLI

- Qué rio se encuentra entre Indostan y
 Beluchistan? I-o.
 Qué península se halla al E. de Sibe-
 ria? K-a.
 Cuál al E. del imperio Chino? C-a.
 Cuál al S. de Siam? M-a.
 Qué desierto hay en el imperio Chino?
 C-i.
 Cuál en Arabia? A-o.
 Qué montes hay en la costa occidental
 de Indostan? G-s.
 Qué montes hay al N. de Turquía?
 C-s.
 Qué monte hay en Turquía, donde se
 detuvo el arca de Noé? A-t.
 Qué imperio hay al E. de la China?
 J-n.
 Qué islas pertenecen á este imperio?
 Y-o, N-n y K-u.
 Qué islas hay al S. E. de China?
 F-a y H-n.
 Qué isla grande se encuentra al S. del
 mar de China? B-o.
 Qué isla queda al E. de Bornéo?
 C-s.
 Cuál al S. de Malaca? S-a.

LECCION CXLIV.

- Qué isla queda al S. E. de Sumatra?
J-a.
- Qué isla grande se encuentra al N. O. de Siberia?
N-a Z-a.
- Cuál al S. del Indostan?
C-n.
- Cuál es el cabo que queda al N. de Asia?
N. E.
- Cuál es la capital de Siberia?
San Petersburgo, en Rusia.
- Cuál es la capital del imperio Chino?
P-n.
- Qué ciudad comercial hay al S. de China?
C-n.
- Qué ciudad hay en el interior del Tibet?
L-a.
- Cuáles en Anam?
H-e y S-n.
- Cuál es la capital de Siam?
B-k.
- Cuál es la capital del Indostan?
C-a.
- Qué ciudad hay al S. E.?
M-s.
- Cuál es la capital de la Tartaria Independiente?
B-a.
- Cuál lo es de Afganistan?
C-l.
- Cuál es la capital de Persia?
T-n.
- La de Arabia?
M-a.
- Qué ciudad hay al S. E. de Arabia?
M-t.
- Cuál es la capital de Turquía?
C-a, en Europa.
- Qué ciudad hay en la isla de Nifon?
Y-o.
- Qué mares se unen por el estrecho de Bab el Mandeb?
M-r R-o y O-o I-o.
- Y por el estrecho de Beríng?
O-o A-o y O-o P-o.

LECCION CXLV.

PAÍSES.

Dónde están situados.

- Siberia? Beluchistan?
Indostan? Imperio Chino?
Siam? Arabia?
Anam? Turquía?
Persia? Afganistan?
Imperio del Japon?
" Birman?
Tartaria Independiente?

MARES, GOLFOS Y BAHÍAS.

Dónde quedan.

- El mar Rojo?
" Negro?
" Caspio?
" Arábigo?
" Amarillo?
La bahía de Bengala?
El golfo Pérsico?
El mar de Ochotsk?
" China?

LECCION CXLVI.

MONTAÑAS.

En qué países quedan?

- Los montes Urales?
" Altai?
" Himalaya?
" Gates?
" Cáucasos?
El Ararat?

RIOS.

Qué direccion llevan y dónde desembocan.

- El Obi? Huang-ho?
Yenisei? Lena?
Cambodia? Ganges?
Indo? Éufrates? Ural?
Yang-Iseu-kiang?

ISLAS.

Dónde quedan.

- Bornéo? Nueva-Zembla?
Nifon? Yeso?
Kiusiu? Formosa?
Hainan? Célebes?
Sumatra? Java?
Ceilan?



Templo de Budha, en Canton, China.

HISTORIA Y DESCRIPCION DE ASIA.

LECCION CXLVII.

Cuál es el tamaño del Asia?

El Asia comprende la tercera parte de la tierra que se conoce en la superficie del Globo.

Cuál es la poblacion de Asia?

Quinientos millones de habitantes, que son la mitad de los que hay sobre la Tierra.

Qué parte de la Tierra fué la que primero se pobló?

Asia.

Quiénes fueron los primeros que habitaron el Asia?

Adan y Eva, que fueron colocados en el Jardín del Eden.

Dónde se cree que quedaba este jardín?

En Armenia, hácia el centro de la Turquía.

Cuántos años se pasaron desde la creacion de Adan y Eva, hasta el diluvio?

Como 1,700 años.

Cuál fué la causa del diluvio?

La corrupcion que habia cundido en la raza humana.

Quién era Noé?

Un hombre justo.

Qué mandó Dios á Noé que hiciera ántes del diluvio?

Que edificase un arca, para salvarse él y su familia, con un par de cada una de las especies de animales que existian.

Cuántos hijos tenia Noé, que se salvaron en el arca con él?

Tres: Sem, Cam y Jafeto.

Qué les sucedió á todos los seres vivos?

Todos, excepto los que entraron al arca con Noé y su familia, murieron.



Mezquita, en Constantinopla.

LECCION CXLVIII

Por cuánto tiempo duró la inundacion de la Tierra?

Por 140 dias.

Dónde se detuvo el arca despues del diluvio?

Sobre el monte Ararat, en Turquía.

Cuántos años despues del diluvio vivieron los descendientes de Noé en un solo lugar?

Como 100 años.

Qué hicieron estos despues de 100 años de vivir unidos?

Los descendientes de los tres hijos de Noé, separándose, se establecieron en diferentes países.

Dónde se establecieron los descendientes de Sem?

En Asia.

Los de Cam?

En África.

Y los de Jafeto?

En Europa.

Cuántos años despues del diluvio, nació Jesucristo nuestro Salvador?

2348.

Qué estableció nuestro Salvador sobre la Tierra?

El cristianismo.

Cuándo vivió Mahoma?

Como 600 años despues de Jesucristo.

De dónde era Mahoma?

Mahoma era árabe.

Qué estableció este?


Una religion falsa, llamada Mahometismo.

Qué naciones profesan esta religion?

Los turcos, los persas, los tártaros y otros, que son mahometanos.

Qué ciudad notable hay en Siria?

La antigua ciudad de Jerusalem.



Juggernaut, tirado por elefantes.

LECCION CXLIX

Qué magnífico edificio habia en Jerusalem, en tiempo de Jesucristo?

El templo de Salomon.

Qué ciudad notable hay en Arabia?

Meca, donde nació Mahoma.

Qué monte célebre hay al N., cerca del mar Rojo?

El monte Sinai, en la cima del cual recibió Moisés los "diez mandamientos."

Qué animales hacen célebre la Arabia?

Sus caballos, que son los mejores del mundo.

Qué produccion vegetal célebre se encuentra en Arabia?

El mejor café que existe.

Cómo se llaman los indijenas del Indostan?

Hindús.

Cuál es la religion de los Hindús?

La mayor parte adoran ídolos.

Qué gran procesion tienen los Hindús anualmente?

Una en que sacan el carro de Juggernaut, que contiene su principal dios.

Qué hacen á veces algunos Hindús durante la procesion?

Se echan en el suelo, para morir bajo las ruedas del carro; cuyo sacrificio creen que los conducirá al Cielo.



Línaza, y cabra de Siberia.



Chino fumando opio.

LECCION CL.

Que árbol notable se da en el Indostan?

El nopal, que muchas veces tiene hasta 3,000 troncos.

Qué peculiaridad tienen las ciudades de China?

Casi todas están rodeadas de una alta muralla.

Cuántas ciudades guarnecidas con murallas hay en China?

4,402.

Qué planta es peculiar de China?

El té.

Qué muralla artificial, muy notable, hay en aquel imperio?

La Gran Muralla, de 1,500 millas de largo, y 30 pies de elevación.

Cuántos años hace que se edificó dicha muralla?

Unos 2,000 años.

Cuál es el espesor de la muralla hacia la parte superior?

Es tan ancha, que pueden andar sobre ella, en línea, seis hombres á caballo.

Con que objeto se edificó?

Con el de impedir las invasiones de los tártaros.

Qué fabrican los Chinos?

Jéneros de seda y porcelana.

Cuál es la ciudad principal del imperio Chino?

Pekin, que queda unas 50 millas al S. de la Gran Muralla.

Qué costumbre singular hay en China?

La de ponerles á las muchachas una especie de zapatos, que impide el que les crezcan los pies.

Por qué son notables los Chinos, respecto de sus padres?

Por el gran respeto y obediencia con que miran á estos.



Caballero chino, y su criado.

LECCION CLII

Qué castigo tiene el hijo que usa de un lenguaje irrespetuoso para con sus padres, en China?

Puede ser castigado con la muerte, pues semejante injuria, se reputa como uno de los delitos mas graves que pudieran cometerse.

Qué es lo que compone el imperio del Japon?

Este imperio se forma de varias islas al E. de China.

Cuál es la capital del Japon?

Yedo, en la isla de Nifon.

Qué es Siberia?

Un país frio y horrible.

A qué nacion pertenece la Siberia?

A la Rusia européa.

Qué personas envia á Siberia el gobierno ruso?

Los presos criminales.

Cuál es el aspecto del país?

La Siberia es uno de los países mas frios, estériles y desiertos del Globo.

Cómo viajan en Siberia?

En trineos tirados por perros.



Mujer de la India, cargando agua.

MAPA DE ÁFRICA.



LECCION CLII
MAPA DE ÁFRICA.

- Qué mar hay al N. de África? M-o.
- Cuál entre África y Asia? R-o.
- Qué oceano se encuentra a. E. de África? I-o.
- Cuál al O.? A-o.
- Qué golfo al O. de África? G-a.
- Qué istmo une el África con el Asia? S-z.
- Entre qué mares está el istmo de Suez? M-o y R-o.
- Qué rio grande hay al N. O.? N-o.
- Qué rio desemboca en el canal de Mozambique? Z-a.
- Qué rios hay al S. de la Guinéa? C-o, C-a y N-s.
- Qué rio cerca del cabo Verde? S-l.
- Dónde desemboca el Nilo? M-o.
- Dónde el Niger? G-o de G-a.

LECCION CLIII

- Qué montes hay en la parte setentrional del Africa? A-s.
- Qué montes hácia el centro? L-a.
- Cuáles en la parte meridional? N-c.
- Qué estados se encuentran al N.? B-a.
- Qué gran desierto hay al S. de la Berberia? G-n D-o.
- Qué países se encuentran entre el Gran Desierto y el mar Rojo? E-o y N-a.
- Qué país grande se encuentra al S. del Gran Desierto? S-n.
- Qué país hay al O. de Sudán? S-a.
- Cuál al S. de Sudán? G-a.
- Cuál en la parte meridional del África? C-a del C-o.
- Cuáles son los países que quedan sobre el oceano Indico? Z-r, M-e y C-a.
- Qué país se encuentra en el centro, al S. de los montes de la Luna? E-a.
- Qué colonia americana hay al O. de Guinéa? L-a.
- Qué colonia inglesa al O. de Liberia? S-a, L-a.
- Qué gran isla hay al S. E. de África? M-r.
- Qué canal hay entre África y Madagascar? M-e.

LECCION CLIV.

- Qué istas hay al E. de Madagascar? B-n y M-o.
- Qué isla se encuentra al O. de la parte meridional de Guinéa? S. H-a.
- Cuál cerca del golfo de Guinéa? A-a.
- Cuáles al O. de Senegambia? C-o V-e.
- Qué grupos de islas hay al N. O. de África? C-s, M-a y A-s.
- Qué isla se encuentra al E. del cabo Guardafui? S-a.
- Qué grupos al N. E. de Madagascar? S-s y A-s.
- Qué islas se encuentran en el canal de Mozambique? C-o.
- Qué cabo hay al N.? B-o.
- Cuál al E.? G-i.
- Cuál al S.? B-a E-a.
- Cuál al O.? V-e.

LECCION CLV.

- Qué es un oasis?
- Un territorio fértil en medio de un desierto. F-n.
- Qué oasis notable hay en el Gran Desierto? F-n.
- Qué oasis al O. de Fezzan? Tuat.
- Qué otros oasis hay al S. de Fezzan? A-s, B-a y T-a.
- Qué lago hay en Sudán? T-d.
- Cuál en Etiopía? M-f.
- Qué estrecho se encuentra entre África y España? G-r.
- Cuál á la entrada del mar Rojo? B-b.
- Qué cadena de montañas atraviesa el África de E. á O.? M-s de la L-a.
- Qué rio corre por Nubia y Egipto? N-o.
- Qué rio sirve de desagüe al lago Tchad? N-r.
- Qué ciudades hay en la Berberia, sobre el mar Mediterráneo? A-l, T-z y T-i.
- Qué ciudades principales se encuentran en Egipto? C-o y A-a.
- Qué ciudad hay cerca del cabo de Buena Esperanza? C-o.
- Cuál en la Berberia, sobre el Atlántico? M-s.

LECCION CLVI

PAÍSES.

Dónde están situados.

Egipto?	Zanguebar?
Nubia?	Abisinia?
El Gran Desierto?	
Sudan?	Guinéa?
Etiopia?	Senegambia?
Los Estados Berberiscos?	
Mozambique?	Fezzan?
Liberia?	Sierra Leona?
La Colonia del Cabo?	

CIUDADES Y PUEBLOS.

En qué países y como están situadas.

El Cairo?	Alejandría?
Marruecos?	Argel?
Túnez?	Trípoli?
Gondar?	Monrovia?
El Cabo?	San Salvador?
Temboctú?	Mozambique?
Nueva-Dengola?	



LECCION CLVII

ISLAS Y CABOS.

Dónde quedan.

Mauricio ó Isla de Francia?	
Borbon?	Madagascar?
Socotra?	Comoro?
Anabona?	Santa Helena?
Cabo Verde?	Canarias?
El cabo Bueno?	Verde?
“	Guardafui?
“	Buena Esperanza?

RIOS.

En qué direccion corren y dónde desembocan.

El Nilo?	Niger?	Senegal?
Congo?	Coanza?	Nourses?
	Zambeza?	

MONTAÑAS.

Dónde quedan?

Los montes Atlas?	
“	de la Luna?
“	de la Nieve?

*Carro usado antiguamente por los egipcios.*

HISTORIA Y DESCRIPCION DE ÁFRICA.

LECCION CLVIII

Cuál es la estension del África?

Es, despues de Asia, la mayor de las 5 grandes divisiones de la Tierra.

Cuál es su clima?

En lo jeneral es mas cálido que en el resto de la Tierra.

Qué raza del jénero humano es natural de África?

Los Africanos ó Negros.

Quiénes habitan el Gran Desierto?

Tribus de árabes errantes.

Cuál es la estension del Gran Desierto?

3,000 millas de E. á O., y 1,000 de N. á S.

Qué grandes serpientes se encuentran en África?

El boa, cuya longitud es á veces de 40 piés. (Véase pág. 51.)

Cuáles son los animales mas comunes en África?

Los elefantes, camellos, leones, antélopes y monos, las girafas, &ª.

Qué país notable se encuentra al N. E. de África?

Egipto.

Qué era Egipto antiguamente?

Un gran imperio, y fué por siglos enteros, la morada de las artes y de las ciencias.

Qué hay en Egipto que dé pruebas de su antigua grandeza?

Pirámides, obeliscos, catacumbas, el esfinge, &ª.



Ciudad del Cabo, en la parte meridional de África.

LECCION CLIX

Cuál es el tamaño de la pirámide de Cheops?

Su altura es de 800 piés, y su base ocupa como 11 acres de tierra, teniendo cerca de 300 varas en cada uno de sus ángulos.

Cuántos años se emplearon en edificar esta pirámide?

20 años, y trabajaban en ella, de ciento á 200,000 hombres.

Cuándo se supone que fueron levantadas estas pirámides?

Como 900 años ántes de Jesucristo.

Quiénes las hicieron edificar?

Los Faraones, ó reyes de Egipto.

Con qué objeto?

Para que sirviesen de tumbas á los reyes, y se supone que

para que sirviesen tambien de observatorios.

Qué es el esfinge?

Un mónstruo tallado en una roca sólida, el cual tiene 125 piés de largo.

Cuál es la forma de este monstruo?

Su cuerpo es de leon, con cabeza y cuello de hombre.

Qué hay de notable en Egipto, respecto de las aguas?

Que en muchos territorios de aquel país jamás llueve.

Cómo está regado el país?

Con fuertes rocíos, y con las inundaciones causadas por el Nilo.

Qué es lo que causa estas inundaciones del Nilo?

Las abundantes lluvias que caen cerca de su nacimiento, en los montes de la Luna.



Leon Uecándose un hotentote.

LECCION CLX

Qué viento reina algunas veces en la Nubia?

El *Simum*, viento ardiente y venenoso, que respirado, produce una muerte instantánea.

Quiénes fundaron la Colonia del Cabo?

Los holandeses, en 1650.

Qué individuos transporta allí la Gran Bretaña?

Los reos de delitos mayores.

Qué país hay al N. de la Colonia del Cabo?

El país de los Hotentotes.

Cuál es el carácter de los Hotentotes? Son desaseados, ignorantes, y la raza mas degradada del jénero humano.

Por quiénes fué colonizada Liberia?

Por esclavos ya libres, de los Estados Unidos.

Cuál es la colonia de esclavos libertados, fundada por los ingleses?

Sierra Leona, un poco al noroeste de Liberia.

Qué hace notable á la Guinéa?

Su oro y su marfil.

De dónde se saca el marfil?

De los colmillos de los elefantes.

Qué cosas se hacen del marfil?

Se hacen peines, mangos de cuchillos, &c.

Quién fué el primer hombre blanco que exploró el interior de Africa?

Mungo Park, hácia el año de 1796 ó 1797.

Cómo transportan los comerciantes sus efectos al través del Desierto?

En camellos, y reunidos en grandes grupos, que llaman *caravanas*.



Caravana, en una tormenta de arena, en el desierto de Sahara.

LECCION CLXI.

Qué es Etiopia?

Es un país que aun no se ha explorado.

Qué gran ciudad existía antiguamente en Túnez?

Cartago, rival de Roma.

Cuál fué el fin de la ciudad de Cartago?

Los romanos se apoderaron de ella, y la destruyeron completamente 146 años ántes de Jesucristo.

Cuáles son los únicos lugares donde las caravanas que viajan por el Desierto, pueden obtener agua?

Los oasis, que son territorios fértiles, que se encuentran en el Desierto.

Cuál era la ciudad mas antigua de África?

Tébas, en el Alto Ejipto.

Cuántas millas de circunferencia tenía Tébas?

23 millas; la ciudad era amurallada.



Mujer egiptea.



Elefante, elefanta, y su chivelo.

Cuántas puertas tenía la ciudad?

100, de cada una de las cuáles salieron á combatir mil guerreros

Quién destruyó á Tébas?

Los persas, ahora 2,500 años.

Qué es lo que ha hecho conocer que tal ciudad ha existido?

Las ruinas que de ella se ven en nuestros días.

Qué objetos notables existen entre sus ruinas?

Los templos de Luxor y Carnac, el palacio de Memnon, algunas estatuas colosales, y el sepulcro de los reyes.

De cuántos años atrás se tienen noticias históricas del África?

De mas de 3,000 años.

Cuál es la estension del África?

Como 11,000,000 de millas cuadradas.

Qué pueblo fué el primero que dió la vuelta al África, por mar?

Se dice que los Fenicios, bajo Neco, rey de Ejipto.

Qué enfermedades prevalecen frecuentemente en Ejipto?

La plaga.

Qué nacion antigua estuvo en cautiverio en Ejipto?

Los Israelitas.

Quién los libró de la esclavitud?

Moisés.

Cómo se escaparon los Israelitas de Ejipto?

Pasaron por el mar Rojo, "sobre tierra seca," á Arabia.

Qué suerte corrieron Faraon y la comitiva que los perseguían?

Todos naufragaron en el mismo mar Rojo.

MAPA DEL OCEANO PACÍFICO.



LECCION CLXII

Cuál es la estension del oceano Pacifico, de E. á O.?
 11,000 millas.
 Cuál de N. á S.?
 7,000 millas.

Qué grandes divisiones quedan al E.?
 Qué gran division al O.?
 Qué islas, de que se hacen tres divisiones, hay en el Pacifico?

Qué division comprende la mayor parte de las islas del Pacifico?
 Qué division hay al S. y O. de Oceanía?
 Cuál entre Oceanía y Asia?
 Qué estrecho separa la América del Asia?
 Qué grupo de islas hay al N. O. de Oceanía?
 Cuál al S. del estrecho de Bering?
 Qué grupo de islas se encuentra al N. del ecuador y cerca del centro de Oceanía?
 Cuál al S. O. de las islas de Sandwich?
 Qué grupos se encuentran en la parte occidental de la Oceanía?
 Cuáles son otros tres grupos de la Oceanía, al S. del ecuador?
 Qué archipiélago hay entre estas islas?
 Qué grupo de islas hay sobre el ecuador, cerca de las costas de América?
 Qué grupo hay al S. E. de Oceanía y al O. de Valparaiso?
 Cuál es la isla mas grande de Australasia?
 Qué puede decirse de Australia ó Nueva-Holanda?
 Qué es la isla mas grande que se conoce.
 Qué isla grande hay al N. de Nueva-Holanda?
 Qué isla hay al S. de Nueva-Holanda?
 Qué islas quedan al S. E.?
 Cuáles al E. de Nueva-Holanda?
 Cuál es la isla mas grande de Malesia?
 Qué isla hay al E. de Bornéo?
 Cuál al S. de Bornéo?
 Qué gran grupo al N. de Bornéo?
 Cuál es la mas grande de las islas del Japon?
 Cuál es la capital de las islas Japonesas?
 Qué ciudad hay al S. de Nueva-Holanda?
 Sobre qué bahia queda Sidney?
 Qué ciudad hay al S. O. de Nueva-Holanda?
 Qué ciudades notables hay sobre, ó hacia la costa de la América del Sur?
 Qué ciudad hay en Méjico, cerca de la costa?
 Qué pueblo hay sobre la costa de los Estados Unidos?
 Qué ciudad hay en China, sobre la costa?

LECCION CLXIII

Qué ciudad se encuentra al N. de Canton y O. de Corea? P-n.

Qué península hay al O. de Méjico? C-a.

Qué península se prolonga sobre el Pacífico, al N. O. de América? A-a.

Qué península hay al N. E. de Asia? K-a.

Cuál al O. de las islas Japonesas? C-a.

Qué cabo hay al S. E. del Pacífico? H-s.

Qué bahía hay al S. E. de Nueva-Holanda? B-y.

Qué océanos se comunican por el estrecho de Bering? P-o y A-o.

En qué dirección están las islas Sandwich, respecto del estrecho de Bering?—de las islas Aleucianas?—de Méjico?—de las islas Galápagos?—del cabo de Hornos?—de las islas Marquesas?—de las de Juan Fernandez?—de las de la Sociedad?—de las de la Amistad?—de Nueva-Zelandia?—de Nueva-Holanda?—de Nueva-Guinéa?—de Bornéo?—del archipiélago Mulgrave?—de las islas Carolinas?—de las de los Ladrones?—de las del Japon?—de la ciudad de Canton?—de Pekín?



Muerte del capitán Cook.

HISTORIA Y DESCRIPCION DE LAS ISLAS DEL OCEANO PACÍFICO.

LECCION CLXIV.

Quién fué el primer navegante que atravesó el oceano Pacífico?

Francisco Magallanes salió de España con este objeto, al mando de varios buques, en 1519.

Cuándo entró este navegante al oceano Pacífico?

En 1520, pasando por el estrecho que lleva su nombre.

En qué dirección siguió luego?


Seguió hácia el N. O., deteniéndose en muchas de las islas.

Qué le sucedió durante su viaje?

Fué matado por los habitantes de una de las islas Filipinas.

Qué dirección tomaron sus buques, para ir de las Filipinas á España?

Se dirijieron hácia el S. O., y doblaron el cabo de Buena Esperanza.



Pueblo en Nueva-Zelandia.

LECCION CLXV.

Cuánto tiempo duró este viaje al rededor del mundo?

Poco mas de tres años.

Qué se hicieron sus buques?

Todos se perdieron, excepto uno.

Cuáles son las producciones de las islas que componen la Malesia?

Oro, diamantes y ricas especias.

Cuál es el color de los naturales de aquellas islas?

Son de un color pardo.

Cuál es la principal isla de Malesia? Bornéo.

Qué animal particular hay en Bornéo?

El orangutan, que se parece mucho al hombre.

Cuáles fueron los primeros hombres de la raza blanca, enviados á Australia?

Algunos reos ó presos de Inglaterra.

A qué punto llevaron estos presos?

A la bahía de Botany.

Dónde es que envía ahora sus presos el gobierno inglés?

A la Tierra de Diemen.

Qué metal precioso se ha encontrado recientemente en Australia?

Oro, en grande abundancia.

Qué animal singular se encuentra en Australia?

El kangarú.

A qué gobierno pertenece Australia?

Al de la Gran Bretaña.

Cuál era el carácter de los naturales de muchas de las islas del Pacífico?

Eran salvajes, feroces, y muchos de ellos caníbales.

A quiénes se dá el nombre de caníbales?

A los que comen carne humana.



Bomba marina.

LECCION CLXVI

Cuál es el grupo mas importante de las islas de la Oceanía?

Las islas Sandwich.

Quién descubrió estas islas?

El capitan Cook, en 1778.

Cuál fué la suerte del capitan Cook?

Fué inhumamente asesinado por los naturales.

Qué cambio ha tenido lugar en los habitantes de Sandwich?

Se han civilizado y cristianizado.

A esfuerzos de quiénes se ha obtenido este cambio?

A esfuerzos de los misioneros cristianos.

Cuál es la isla principal del grupo de Sandwich?

Hawaii.

Qué volcan notable hay en esta isla?
El Kirauea, que es el mayor que se conoce.

En qué otras islas hay estaciones de misioneros?

En las de la Amistad, la Sociedad, y otras.

De qué se han formado muchas de las islas del Pacifico?

De una especie de gusano de agua salada, llamado coral.

Qué ha producido la formacion de otras islas del Pacifico?

Algunos volcanes submarinos.

Porqué son notables las islas de Juan Fernandez?

Por haber sido la residencia de Alejandro Lelkirh.

Quién era Alejandro Lelkirh?

Un marinero escocés, que naufragó y residió allí, solo, por el espacio de muchos años.



Volcan en el mar.



LECCION CLXVII

CÍRCULOS DEL GLOBO.

Cuál es la forma de la Tierra?

Redonda, como una naranja.

Qué hace que los hombres, los buques, &c. se mantengan sobre la superficie de la Tierra?

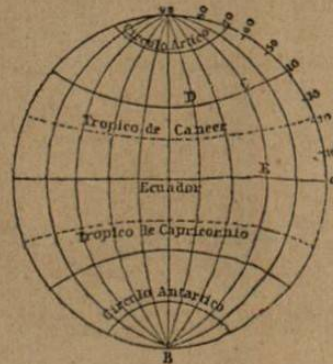
La atraccion de la tierra.

En cuántos grados se supone que está dividido todo círculo?

En 360 grados.

Cuántos grados componen un cuarto de círculo?

90 grados.



Qué es el ecuador?

Un círculo imaginario que rodea la Tierra de E. á O., y cuyos puntos todos están á igual distancia de los polos.

Qué son los trópicos?

Dos círculos paralelos, al N. y S. del ecuador, distantes cada uno $23\frac{1}{2}$ grados de este.

Qué es el círculo ártico?

Un círculo al rededor del polo norte, á $23\frac{1}{2}$ grados de dicho polo.

Cuál es el círculo antártico?

Un círculo al rededor del polo sur, á $23\frac{1}{2}$ grados de dicho polo.

Qué son los meridianos?

Círculos imaginarios que pasan por los polos de la Tierra, y cortan al ecuador en ángulos rectos.

Qué son paralelos de latitud?

Círculos paralelos al ecuador.